

21. ŽUPANIJSKO NATJECANJE IZ GEOGRAFIJE 2014. GODINE

Razred ili kategorija natjecanja: 6. razred

Zaporka

--	--	--	--	--

Broj postignutih bodova ____ / 70

Potpis članova Županijskog povjerenstva

1. _____

2. _____

3. _____

Mjesto i nadnevak: _____

Za rješavanje zadataka predviđeno je 60 minuta.

Test se rješava kemijskom olovkom s plavom tintom koja se ne briše. Uporaba obične olovke i crvene ili neke druge boje tinte (osim plave) rezultira diskvalifikacijom učenika.

Pri rješavanju testa treba primijeniti jezičnu normu standardnoga hrvatskoga jezika, posebice treba poštivati pravopisna pravila o pisanju velikoga i maloga početnog slova geografskih imena. Za pisanje geografskih imena u testovima i praktičnim radovima primjenjuje se Hrvatski pravopis Instituta za hrvatski jezik i jezikoslovlje preporučen od ministra znanosti, obrazovanja i sporta, dr. sc. Željka Jovanovića, za korištenje u osnovnim i srednjim školama i objavljen na internetskim stranicama Instituta za Hrvatski jezik i jezikoslovlje.

Odgovori učenika moraju biti čitljivo napisani pisanim slovima, jedino u zadacima u kojima je odgovor jedno slovo dopuštena je uporaba čitljivo napisanog tiskanog slova.

Za vrijeme testiranja ne smije se koristiti ništa osim navedenoga pribora za pisanje. Ova odredba podrazumijeva da natjecatelji ne smiju kod sebe (na sebi, ispod, u svojoj odjeći i slično) imati predmete koji na bilo koji način mogu dovesti u sumnju pravilno provođenje natjecanja. Učenici se ne smiju služiti atlasom, zidnom kartom ni računalom. Kartografski i grafički prilozi nužni za rješavanje zadataka sastavni su dio testa.

Učenicima se dopušta pisanje po marginama ispitnog materijala bez oduzimanja bodova i/ili diskvalifikacije.

Potpuno ispravno riješeni zadaci prema uputi za rješavanje vrednuju se s jednim, dva ili tri boda. U djelomično ispravno riješenim zadacima boduju se ispravno riješene čestice, ako nije bilo korekcije odgovora u tim česticama. Netočno riješeni zadaci i naknadno ispravljeni odgovori te odgovori koji su pisani tiskanim slovima ili kombinacijom tiskanih i pisanih slova, kao i odgovori u zagradama ili odgovori u kojima je u kombinaciji upisan ispravan odgovor i odgovor u zagradi ne vrednuju se.

**SLJEDEĆA ČETIRI ZADATKA RIJEŠI UZ POMOĆ PRILOŽENIH
FOTOGRAFIJA.**



A)



B)



C)



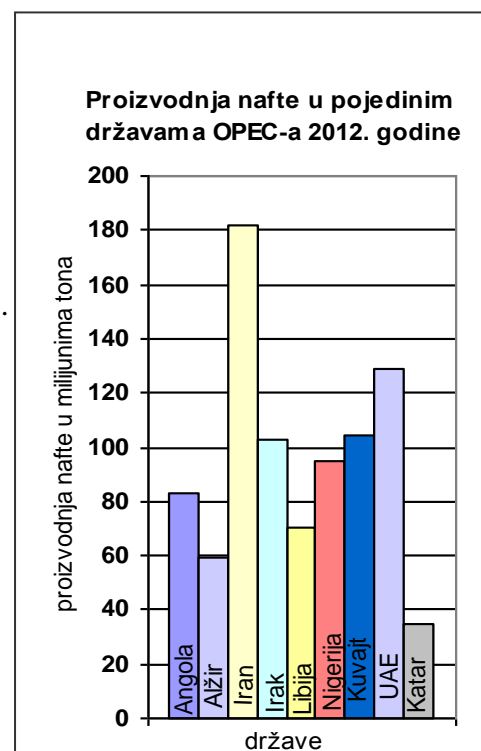
D)

- 2** 1. Naziv građevine prikazane na fotografiji **A)** je _____. Ime države u kojoj se nalazi ta građevina je _____.
- 2** 2. Kratica međunarodne organizacije prikazane na slici **B)** je _____. Puni naziv svjetske organizacije (na hrvatskom jeziku) čiji je dio međunarodna organizacija sa slike **B)** je _____.
- 2** 3. Naziv drveta prikazanog na fotografiji **C)** je _____, a naziv biljne zajednice kojoj pripada je _____.
- 2** 4. Naziv najviše građevine svijeta prikazane na fotografiji **D)** je _____, a ime grada u kojemu se nalazi je _____.

SLJEDEĆA TRI ZADATKA RIJEŠI UZ POMOĆ PRILOŽENOG DIJAGRAMA.

- 2** 5. Ime azijske države na dijagramu, članice OPEC-a, s najmanjom proizvodnjom nafte 2012. godine je _____, a godišnja proizvodnja iznosila je _____.
- 2** 6. Poredaj afričke države s dijagrama prema proizvodnji nafte 2012. godine, počevši od države koja je imala najveću proizvodnju.

- 1** 7. Ime azijske države koja nedostaje na dijagramu, a 2012. godine je ostvarila najveću proizvodnju nafte, je _____.



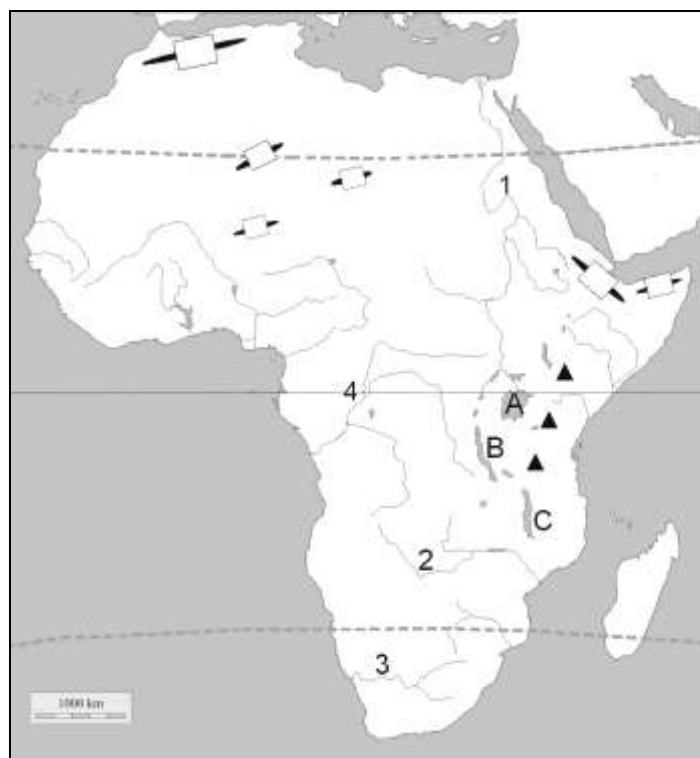
Izvor: www.opec.org

U SLJEDEĆIH PET ZADATAKA DOPUNI REČENICE.

- 2** 8. Suha riječna korita, s povremenim tekućicama u pustinjama sjeverne Afrike i jugozapadne Azije nazivamo _____, a mjesta u pustinji na kojima je voda temeljnica blizu površini nazivamo _____.
- 2** 9. Imena država članica skupine G-7 koje se nalaze na području Sjeverne Amerike su _____ i _____.
- 2** 10. Ime najdublje depresije na Zemlji je _____. Ime države kojoj pripada zapadna polovica te depresije je _____.
- 1** 11. Ime pustinje koja se nalazi u Tarimskoj zavali je _____.
- 1** 12. Utjecaj kopna na klimu naziva se _____.

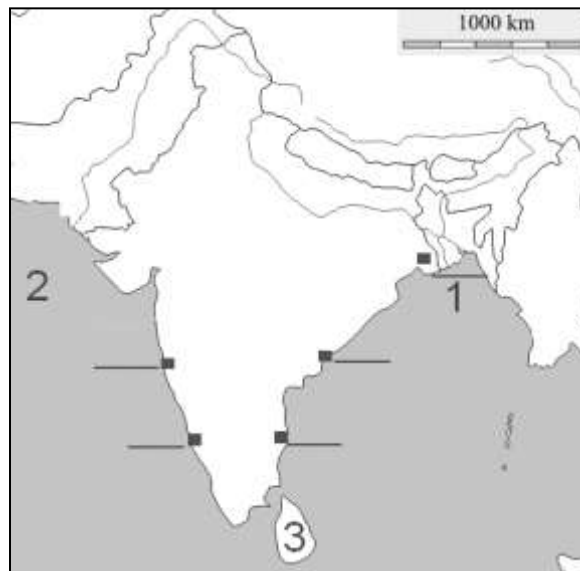
SLJEDEĆIH ŠEST ZADATAKA RIJEŠI UZ POMOĆ PRILOŽENE KARTE AFRIKE.

- 1** 13. Kosim crtama ispuni onaj dio afričkog kopna koji se nalazi u sjevernom umjerenom pojasu.
- 3** 14. Navedene reljefne uzvisine označi na karti upisivanjem slova u odgovarajuće pravokutnike. Tri su pravokutnika višak.
- T** – Tibesti
E - Etiopsko visočje
A - Ahaggar (Hoggar)
- 2** 15. Zaokruži na karti trokutić koji prikazuje najviši vrh Afrike. Ime države u kojoj se ovaj vrh nalazi je _____.



- 2** 16. Ime rijeke na kojoj se nalaze Viktorijini vodopadi je _____, a ta je rijeka na priloženoj karti označena brojem ____.
- 3** 17. Ime najdubljeg jezera u Africi je _____, a na priloženoj karti označeno je slovom _____. Prema postanku udubljenja u kojem se nalazi, ovo jezero ubrajamo u skupinu _____ jezera.
- 3** 18. Ime grada u kojemu se Bijeli i Modri Nil spajaju u rijeku Nil je _____. Na geografskoj karti kružićem ● ucrtaj položaj toga grada i podebljaj cijeli tok Modrog Nila.

**SLJEDEĆA ČETIRI ZADATKA RIJEŠI UZ POMOĆ
PRILOŽENE GEOGRAFSKE KARTE JUŽNE AZIJE.**



- 2** 19. Najviši vrh svijeta nalazi se na granici dviju država. U sjevernije položenu državu na karti upiši slovo **A**, a u južnije položenu državu slovo **B**. Na crte iza slova upiši imena tih država.

A _____

B _____

- 3** 20. Na odgovarajuće crte uz crne kvadratiće na karti upiši slova za sljedeće gradove (dvije crte su višak):

M Mumbai **K** Kolkata **C** Chennai

- 1** 21. Na priloženoj karti u cijelosti podebljaj granicu Indije i Pakistana.

- 3** 22. Na geografskoj karti Južne Azije brojevima 1, 2 i 3 su označeni morski zaljev, more i otok.

Na crte iza brojeva upiši njihova imena. 1 _____

2 _____

3 _____

**U SLJEDEĆA ČETIRI ZADATKA POVEŽI PAROVE UPISIVANJEM SLOVA NA CRTU
ISPRED PONUĐENIH ODGOVORA. TRI ODGOVORA SU VIŠAK.**

- 2** 23. Navedene narode pridruži državama u kojima žive.

A) Masai **B)** Ašanti

___ Sudan ___ Gana ___ Kenija ___ Kongo ___ Zambija

- 2** 24. Navedene nacionalne parkove pridruži državama u kojima se nalaze.

A) Serengeti **B)** Tsavo

___ Tanzanija ___ Republika Južna Afrika ___ Kenija ___ Uganda ___ Namibija

- 2** 25. Navedena obilježja pridruži imenima azijskih gradova.

A) do 1965. godine bio dio Malezije **B)** do 1997. godine bio britanska kolonija

___ Hong Kong ___ Macao ___ Kuala Lumpur ___ Singapore ___ Shanghai

- 2** 26. Navedene države pridruži jezicima koji su službeni ili jedan od službenih u tim državama.

A) Egipat **B)** Republika Južna Afrika

___ suahili ___ afrikaans ___ francuski ___ arapski ___ nizozemski

U TEKSTU U KOJEM SE OPISUJE JEDNA ORGANIZACIJA TRI SU NETOČNA POJMA. PRONAĐI U TEKSTU NETOČNE POJMOVE, ISPIŠI IH U PRVI STUPAC TABLICE, A U ISTI RED U DRUGI STUPAC UPIŠI TOČNE POJMOVE.

- 3** 27. NATO je najvažnija europska organizacija s ciljem političkog i gospodarskog ujedinjavanja država. Danas ima 27 članica među kojima od 1. srpnja 2013. godine i Hrvatska ima punopravno članstvo. Sjedište ove organizacije nalazi se u Strasbourgu.

NETOČAN POJAM	TOČAN POJAM

U SVAKOM OD SLJEDEĆA DVA ZADATKA U PAROVIMA POJMOVA KOJI SU PODEBLJANI I ODVOJENI KOSIM CRTAMA ZAOKRUŽI U CIJELOSTI ONE POJMOVE KOJI SU TOČNI.

- 1** 28. Mozambička struja je **topla / hladna** morska struja i teče uz **zapadnu / istočnu** obalu Južne Afrike.

- 2** 29. Sjedište parlamenta Republike Južne Afrike nalazi se u gradu **Cape Townu / Pretoriji**, a sjedište vlade je u gradu **Bloemfonteinu / Pretoriji**. Najveći grad Republike Južne Afrike je grad **Cape Town / Johannesburg**, a najveća morska luka na Indijskom oceanu je grad **Durban / Port Elisabeth**.

U SVAKOM OD SLJEDEĆA ČETIRI ZADATKA DVA SU ODGOVORA TOČNA. ZAOKRUŽI SLOVA ISPRED TOČNIH ODGOVORA.

- 2** 30. Kroz koje se od navedenih država prostire pustinja Gobi?
a) Mongolija b) Sjeverna Koreja c) Rusija d) Kina e) Kazahstan
- 2** 31. Koje dvije od navedenih biljaka imaju veliko značenje za prehranu stanovništva tropske Afrike?
a) kasava b) krumpir c) džumbir d) jam e) datulje
- 2** 32. Koje dvije od navedenih rijeka pripadaju slijevu Bengalskog zaljeva?
a) Ind b) Brahmaputra c) Menam d) Ganges e) Mekong
- 2** 33. Koje dvije od navedenih država danas imaju najviše stanovnika?
a) Republika Južna Afrika b) Niger c) Nigerija d) Egipat e) Tanzanija

U SLJEDEĆA DVA ZADATKA POVEŽI DESNI STUPAC S LIJEVIM UPISIVANJEM PRIPADAJUĆEG SLOVA NA CRTU ISPRED POJMOVA U LIJEVOM STUPCU. JEDNO SLOVO JE VIŠAK.

2 34. Kineska imena rijeka i gradova poveži s hrvatskim imenima.

- | | |
|-----------------|----------------|
| ___ Hong Kong | A) Chang Jiang |
| ___ Žuta rijeka | B) Xianggang |
| ___ Peking | C) Xi Jiang |
| ___ Duga rijeka | D) Huang He |
| | E) Beijing |

2 35. Gradove poveži s otocima na kojima se nalaze.

- | | |
|----------------|-----------------|
| ___ Madagaskar | A) Manila |
| ___ Tajvan | B) Taipei |
| ___ Šri Lanka | C) Jakarta |
| ___ Java | D) Antananarivo |
| | E) Colombo |