

ŽUPANIJSKO NATJECANJE UČENIKA IZ GEOGRAFIJE 2011. GODINE
7. RAZRED

Zaporka _____ Bodovi _____

U svakom od sljedećih pet zadataka prekriži netočan pojam napisan kosim slovima i nadopuni rečenicu.

2

1. Njemačka je *jednonacionalna/višenacionalna* država i sastoji se od 3 savezna grada i _____ (broj) saveznih zemalja.

2

2. Na *istoku/zapadu* Mađarske prevladavaju stepe koje se još nazivaju i _____.

2

3. Velika nalazišta nafte i zemnog plina u Norveškoj pronađena su u podmorju _____, a najznačajnije središte za preradu nafte je *Stavanger/Narvik*.

2

4. U Austriji živi brojna zajednica Hrvata u pokrajini _____ koja se nalazi na *istoku/zapadu* države.

3

5. Najviši vrh Ujedinjenog Kraljevstva je _____, nalazi se na *Grampianskom gorju/Northwest Highlands*, koje je po postanku *staro/mlado* gorje.

Sljedeća tri zadatka riješi uz pomoć geografske karte dijela Europe.

3

6. Na crte upiši imena rijeka označenih na karti brojevima.

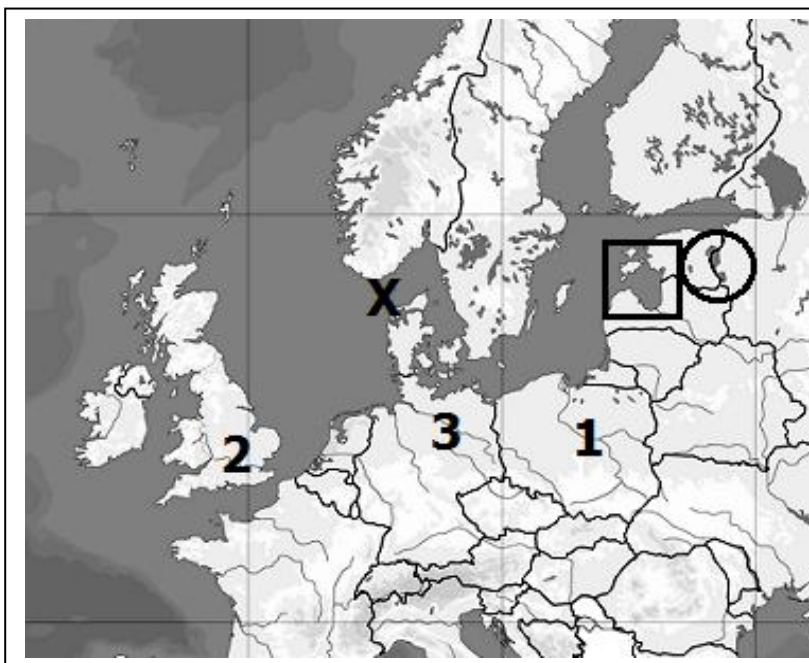
1 _____

2 _____

3 _____

3

7. Znakom X označen je morski prolaz _____ koji povezuje Dansku i Norvešku. Danskom teritoriju osim poluotoka Jylland te nekoliko većih otoka i otočića pripadaju i _____ otoci u Atlantskom oceanu te otok _____ koji imaju visoki stupanj samostalnosti.



2

8. Na crte upiši imena prostora označenih na karti kvadratićem i krugom.



(zaljev)



(jezero)

U sljedeća dva zadatka poveži desni stupac s lijevim upisivanjem samo jednog slova na crte ispred pojmova u lijevom stupcu. Jedno slovo je višak.

2

9. Poveži jezične skupine s odgovarajućim jezicima.

- | | |
|------------------|--------------------------------|
| _____ bugarski | A – ostali indoeuropski jezici |
| _____ rumunjski | B – slavenska skupina jezika |
| _____ nizozemski | C – ugrofinska skupina jezika |
| _____ mađarski | D – romanska skupina jezika |
| | E – germanska skupina jezika |

2

10. Poveži države s njihovim glavnim gradovima.

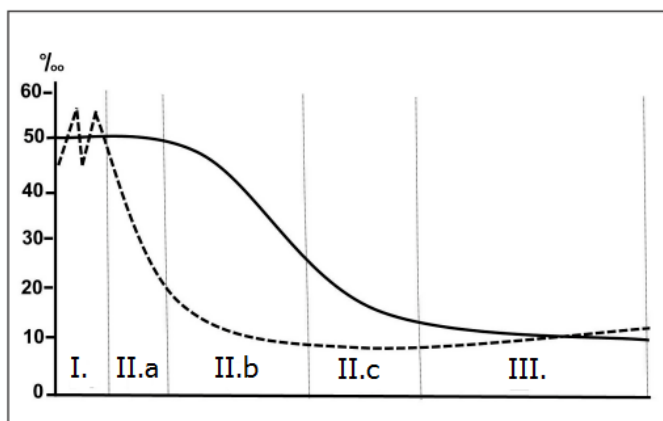
- | | |
|-----------------|--------------|
| _____ Stockholm | A - Estonija |
| _____ Tallinn | B - Litva |
| _____ Vilnius | C - Norveška |
| _____ Oslo | D - Latvija |
| | E - Švedska |

Sljedeći zadatak riješi uz pomoć grafičkog prikaza.

3

11. Kretanje stopa rodnosti i smrtnosti prikazano na grafikonu naziva se

Na linije ispod grafičkog prikaza upiši pripadajuću oznaku etape koja odgovara tvrdnji.



- _____ najveći porast broja stanovnika
 _____ etapa u kojoj se nalazi većina europskih država

U svakom od sljedeća tri zadatka dva su odgovora točna. Zaokruži slova ispred točnih odgovora.

2

12. Oko kojih se gradova nalaze najvažnija nalazišta željezne rude u Švedskoj?

- | | | |
|-----------|--------------|------------|
| a) Kiruna | b) Bergen | c) Narvik |
| d) Malmö | e) Gällivare | f) Tampere |

2

13. Koji jezici nisu službeni u Švicarskoj?

- | | | |
|--------------|-----------------|---------------|
| a) francuski | b) njemački | c) engleski |
| d) švicarski | e) retoromanski | f) talijanski |

2

14. Koji se gradovi nalaze u južnoj Njemačkoj?

- | | | |
|--------------|------------|--------------|
| a) Leipzig | b) Dresden | c) Hannover |
| d) Frankfurt | e) München | f) Stuttgart |

U svakom od sljedeća dva zadatka dvije tvrdnje od pet navedenih su točne. Zaokruži slovo ispred točnih tvrdnji.

2

15. Koje su tvrdnje o Estoniji, Latviji i Litvi točne?

- a) Ušle u sastav SSSR-a 1945. godine.
- b) Jezici tih država pripadaju u skupinu slavenskih jezika.
- c) Prevladava ravničarski reljef, oblikovan radom ledenjaka.
- d) Ušle u Europsku uniju 2004. godine.
- e) Imaju značajna rudna bogatstva .

2

16. Koje su tvrdnje o gospodarstvu Europe točne?

- a) Industrijska revolucija započela je u Ujedinjenom Kraljevstvu.
- b) Djelatnosti sekundarnog sektora imaju najveći udio u zaposlenosti i ostvarenom prihodu.
- c) Danas su glavni izvori energije u Europi ugljen i zemni plin.
- d) Šumarstvo je danas posebno razvijeno i važno na sjeveru Europe.
- e) Najveća konurbacija Europe nalazi se u Francuskoj.

U sljedećih sedam zadataka nadopuni rečenice.

3

17. U _____ kotlini smjestio se najveći i glavni grad Slovenije Ljubljana, u primorskom dijelu nalazi se glavna slovenska luka _____, a u sjevernom dijelu je najveće i najstarije industrijsko središte zemlje _____.

3

18. Lihtenštajn je mala kneževina u kojoj je službena valuta _____ i smješten je između država _____ i _____.

3

19. Francuska ima veliko turističko značenje i po najvećoj turističkoj posjećenosti osim glavnog grada, ističu se sredozemna ili _____ obala, planinski lanac _____ i vodeće turističko mjesto u vjerskom turizmu _____.

2

20. Energija koja nastaje korištenjem topline Zemljine unutrašnjosti naziva se _____ energija i ima značajan udio u proizvodnji energije u _____ (upiši ime države).

2


21. Bodenskim jezerom prolazi granica između država _____ i _____.

2

22. Elektrana koja električnu energiju dobiva uz pomoć plime i oseke naziva se _____, a prva u svijetu je izgrađena u zaljevu _____ (upiši naziv zaljeva).

2

23. Širenje konurbacije Veliki London trebao je spriječiti _____, u kojem je gradnja ograničena. Poslovno, uže središte grada poznato je pod nazivom _____.



2

Sljedeći zadatak riješi uz pomoć slike desno.

24. Zaljev prikazan na slici koji je nastao potapanjem mora reljefnog oblika nastalog radom ledenjaka naziva se _____, a karakterističan je za zapadnu obalu sjevernoeuropske države _____ (upiši ime države).

U sljedeća dva zadatka poveži parove upisivanjem samo jednog slova na crtu ispred ponuđenih odgovora. Tri crte moraju ostati prazne.

25. Navedena obilježja francuskih gradova pridruži nazivima gradova.

A) središte zrakoplovne i svemirske industrije B) središte vinarstva
 ____ Lille ____ Bordeaux ____ Toulouse ____ Marseille ____ Lyon

26. Navedene države pridruži vjerskim zajednicama koje u njima prevladavaju.

A) Danska B) Irska
 ____ rimokatolicizam ____ pravoslavlje ____ protestantizam ____ islam ____ judaizam

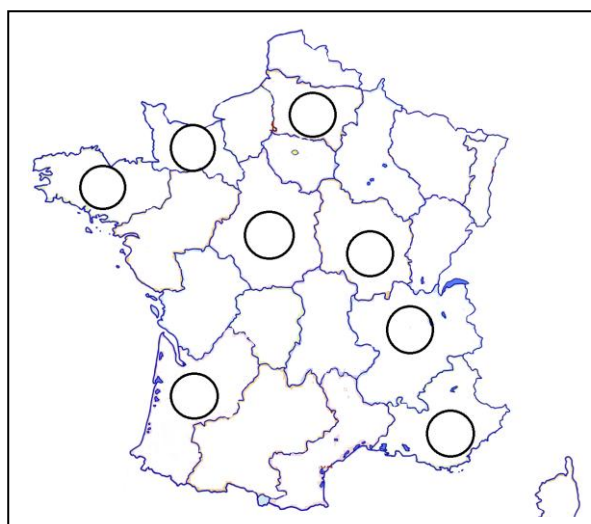
U sljedećem zadatku poveži desni stupac s lijevim upisivanjem jednog slova na crtu ispred pojmova u lijevom stupcu. Jedno slovo je višak.

27. Poveži djelatnost primarnog sektora s pokrajinom u kojoj je najrazvijenija.

____ Picardie A - stočarstvo
 ____ Bourgogne B - ribarstvo
 ____ Bretagne C - vinogradarstvo
 D - šumarstvo

Na kartu upiši:

Broj 1 u kružić pokrajine Picardie.
 Broj 2 u kružić pokrajine Bourgogne.
 Broj 3 u kružić pokrajine Bretagne.



U sljedećem zadatku poveži srednji i desni stupac s lijevim upisivanjem jednog slova i jednog broja na crtu ispred pojmova u lijevom stupcu. Jedno slovo i jedan broj su višak.

28. Poveži pojmove i gradove s pripadajućim državama.

____ Nizozemska A - Ardeni 1 - Rotterdam
 ____ Belgija B - Europort 2 - Linz
 ____ Austrija C - Dunav 3 - Antwerpen
 D - Baden Württemberg 4 - Mannheim

Sljedeća dva zadatka riješi uz pomoć priložene karte Ujedinjenog Kraljevstva.

29. Unutar pripadajućeg kružića upiši odgovarajuće slovo.

A - Leeds
 B - Glasgow
 C - Birmingham

30. Na karti je brojem 1 označen je poluotok _____, a brojem 2 regija Ujedinjenog Kraljevstva _____.

