

21. ŽUPANIJSKO NATJECANJE IZ GEOGRAFIJE 2014. GODINE

Razred ili kategorija natjecanja: 7. razred

Zaporka

--	--	--	--	--

Broj postignutih bodova ____ / 70

Potpis članova Županijskog povjerenstva

1. _____

2. _____

3. _____

Mjesto i nadnevak: _____

Za rješavanje zadataka predviđeno je 60 minuta.

Test se rješava kemijskom olovkom s plavom tintom koja se ne briše. Uporaba obične olovke i crvene ili neke druge boje tinte (osim plave) rezultira diskvalifikacijom učenika.

Pri rješavanju testa treba primijeniti jezičnu normu standardnoga hrvatskoga jezika, posebice treba poštivati pravopisna pravila o pisanju velikoga i maloga početnog slova geografskih imena. Za pisanje geografskih imena u testovima i praktičnim radovima primjenjuje se Hrvatski pravopis Instituta za hrvatski jezik i jezikoslovlje preporučeno od ministra znanosti, obrazovanja i sporta, dr. sc. Željka Jovanovića, za korištenje u osnovnim i srednjim školama i objavljen na internetskim stranicama Instituta za Hrvatski jezik i jezikoslovlje.

Odgovori učenika moraju biti čitljivo napisani pisanim slovima, jedino u zadacima u kojima je odgovor jedno slovo dopuštena je uporaba čitljivo napisanog tiskanog slova.

Za vrijeme testiranja ne smije se koristiti ništa osim navedenoga pribora za pisanje. Ova odredba podrazumijeva da natjecatelji ne smiju kod sebe (na sebi, ispod, u svojoj odjeći i slično) imati predmete koji na bilo koji način mogu dovesti u sumnju pravilno provođenje natjecanja. Učenici se ne smiju služiti atlasom, zidnom kartom ni računalom. Kartografski i grafički prilozi nužni za rješavanje zadataka sastavni su dio testa.

Učenicima se dopušta pisanje po marginama ispitnog materijala bez oduzimanja bodova i/ili diskvalifikacije.

Potpuno ispravno riješeni zadaci prema uputi za rješavanje vrednuju se s jednim, dva ili tri boda. U djelomično ispravno riješenim zadacima boduju se ispravno riješene čestice, ako nije bilo korekcije odgovora u tim česticama. Netočno riješeni zadaci i naknadno ispravljeni odgovori te odgovori koji su pisani tiskanim slovima ili kombinacijom tiskanih i pisanih slova, kao i odgovori u zagradama ili odgovori u kojima je u kombinaciji upisan ispravan odgovor i odgovor u zagradi ne vrednuju se.

**U SVAKOM OD SLJEDEĆIH OSAM ZADATAKA DVA SU TOČNA ODGOVORA.
ZAKRUŽI SLOVA ISPRED TOČNIH ODGOVORA.**

- 2** 1. Među navedenima, rijeke crnomorskog slijeva su:
a) Don b) Ural c) Kuma d) Dnjeper (Dnipro) e) Volga
- 2** 2. Među navedenima, rijeke koje izvire u Alpama su:
a) Rhone b) Dunav c) Laba (Elbe) d) Loire e) Rajna (Rhein)
- 2** 3. Među navedenima, ledenjačka jezera su:
a) Ohridsko b) Bodensko c) Balaton (Blatno) d) Bledsko e) Rybinsko
- 2** 4. Među navedenima, države u kojima je prema posljednjem popisu stanovništva najzastupljenija pravoslavna vjeroispovijest su:
a) Slovačka b) Bugarska c) Mađarska d) Poljska e) Grčka
- 2** 5. Među navedenim francuskim gradovima, sredozemnu klimu imaju:
a) Grenoble b) Nice c) Bordeaux d) Toulouse e) Cannes
- 2** 6. Među navedenima, točne tvrdnje o Islandu su:
a) Otok Island je nastao sudaranjem Euroazijske i Sjevernoameričke litosferne ploče.
b) Sjeverna polarnica prolazi kroz otok Island.
c) U Reykjaviku, glavnom gradu Islanda, živi više od trećine stanovništva Islanda.
d) Vulkan Hekla (1491m) je najviši vrh Islanda.
e) Najznačajniji oblici dobivanja električne energije na Islandu su hidroenergija i geotermalna energija.
- 2** 7. Među navedenima, gradovi koji se nalaze na rijeci Rajni su:
a) Köln b) Hannover c) Basel d) Nürnberg e) Bremen
- 2** 8. Među navedenima, centri zimskog turizma u Švicarskoj su:
a) Chamonix b) Planica c) Zermatt d) St. Moritz e) Garmisch Partenkirchen

**U SVAKOM OD SLJEDEĆA DVA ZADATKA JEDAN JE TOČAN ODGOVOR.
ZAKRUŽI SLOVO ISPRED TOČNOG ODGOVORA.**

- 1** 9. Među navedenima, država u kojoj najviši vrh nije viši od 200 m je:
a) Finska b) Poljska c) Danska d) Irska
- 1** 10. Među prikazanim kulturno-povijesnim spomenicima, u Parizu se nalazi:



U SLJEDEĆA ČETIRI ZADATKA POVEŽI PAROVE UPISIVANJEM SLOVA NA CRTU ISPRED PONUĐENIH ODGOVORA. TRI CRTE MORAJU OSTATI PRAZNE.

2 **11.** Navedene opise poveži s imenima francuskih regija.

A) vinogradarsko područje istočno od Pariške zavale

B) vinogradarsko područje jugoistočno od Pariške zavale

___ Aquitaine (Akvitanija) ___ Bretagne (Bretanja) ___ Bourgogne (Burgundija)
___ Champagne (Šampanja) ___ Normandie (Normandija)

2 **12.** Navedene otoke poveži s tipom klime koji na njima prevladava.

A) Svalbard

B) Farski otoci (Ovčji otoci, Färöerne)

___ stepska ___ umjereno topla ___ sredozemna ___ snježno-šumska ___ klima tundre

2 **13.** Navedene otoke poveži s državama u kojima se nalaze.

A) Svalbard

B) Farski otoci (Ovčji otoci, Färöerne)

___ Danska ___ Švedska ___ Island ___ Ujedinjeno Kraljevstvo ___ Norveška

2 **14.** Navedene opise poveži s imenima norveških gradova.

A) središte preradbe nafte

B) najvažnija morska luka na sjeveru Norveške

___ Bergen ___ Oslo ___ Stavanger ___ Narvik ___ Trondheim

U SVAKOM OD SLJEDEĆA DVA ZADATKA TRI SU NETOČNA POJMA. PRONADI IH U TEKSTU, UPIŠI U TABLICU TE PORED NJIH UPIŠI TOČNE POJMOVE.

3 **15.** Pažljivo pročitaj tekst o fjordovima i riješi zadatak kao što je napisano u napatku.

Fjordovi su uski, dugi i duboki morski zaljevi strmih strana. Formirani su potapanjem riječnih dolina podizanjem razine mora. Geološka era u kojoj se dogodilo formiranje fjordova zove se mezozoik. Fjordovi su vrsta zaljeva koja se pruža okomito na smjer obale i karakteristična je za norvešku obalu. U Norveškoj je smješten najduži svjetski fjord, čija duljina iznosi više od 200 kilometra, a njegovo ime je Hardanger.

NETOČAN POJAM	TOČAN POJAM

3 **16.** Pažljivo pročitaj tekst o Nizozemskoj i riješi zadatak kao što je napisano u napatku.

Nizozemska je kneževina smještena u Zapadnoj Europi uz obalu Sjevernog mora. Zajedno s Belgijom i Lihtenštajnom čini Beneluks, gospodarsku zajednicu osnovanu 1947. godine. To je izrazito gusto naseljena država koja je svoj teritorij proširila izgradnjom poldera. Glavni grad Nizozemske je Amsterdam, iako je sjedište vlade u Haagu. Nizozemsko gospodarstvo je izrazito razvijeno u svim sektorima djelatnosti. Nizozemska se ističe intenzivnom poljoprivrednom proizvodnjom. Najznačajnije ratarske grane su uzgoj cvijeća, žitarica, voća i povrća, a u stočarstvu najvažnija grana je ovčarstvo.

NETOČAN POJAM	TOČAN POJAM

**U SLJEDEĆA DVA ZADATKA POVEŽI SREDNJI I DESNI STUPAC S LIJEVIM
UPISIVANJEM PRIPADAJUĆEG SLOVA I BROJA NA CRTU ISPRED POJMOVA
U LIJEVOM STUPCU. JEDNO SLOVO I JEDAN BROJ SU VIŠAK.**

3

17. Poveži grad i gorje s pripadajućom zemljom Ujedinjenog Kraljevstva.

_____ Wales	A - Leeds	1 - Kambrijsko gorje
_____ Engleska	B - Belfast	2 - Grampiansko gorje
_____ Škotska	C - Aberdeen	3 - Ardeni
	D - Swansea	4 - Peninsko gorje

3

18. Poveži saveznu zemlju i grad s pripadajućom regijom Njemačke.

_____ Južna Njemačka	A - Schleswig-Holstein	1 - Bremen
_____ Srednja Njemačka	B - Šleska	2 - Strasbourg
_____ Sjeverna Njemačka	C - Thüringen	3 - Frankfurt
	D - Bavarska	4 - Ingolstadt

SLJEDEĆIH ŠEST ZADATAKA RIJEŠI UZ POMOĆ PRILOŽENE KARTE DIJELA EUROPE.



2

19. Ime najistočnijeg mora južnog morskog pročelja je _____ more, a ime najsjevernijeg mora južnog morskog pročelja je _____ more.

2

20. Na karti su zatamnjeno i slovima A i B označena gorja. Na crte iza slova upiši njihova imena.

A _____ **B** _____

2

21. Na karti su slovima C i D označeni poluotoci. Na crte iza slova upiši njihova imena.

C _____ **D** _____

2

22. Na karti su slovima E i F označeni francuski gradovi. Na crte iza slova upiši njihova imena.

E _____ **F** _____

2

23. Na karti su slovima G i H označene rijeke. Na crte iza slova upiši njihova imena.

G _____ **H** _____

2

24. Ime otoka na kojem se nalazi najviši europski aktivni vulkan je _____,

a na priloženoj karti označen je brojem _____.

Ime najvećeg francuskog otoka u Sredozemlju je _____, a na

priloženoj karti označen je brojem _____.

SLJEDEĆI ZADATAK RIJEŠI UZ POMOĆ PRILOŽENE SLIKE.

1

25. Ime mineralne tvari koja je nastala skrućivanjem smole vazdazelenih vrsta drveća od prije nekoliko desetaka milijuna godina na području istočne obale Baltičkog mora, a koja služi za proizvodnju nakita je _____.



SLJEDEĆIH PET ZADATAKA RIJEŠI UZ POMOĆ PRILOŽENE TABLICE.

		Belgija	Danska	Slovačka	Španjolska	Austrija	Finska
UDIO POJEDINIH IZVORA ENERGIJE U DOBIVANJU ELEKTRIČNE ENERGIJE (%)	vjetar	3,6	33,6	0,0	16,6	3,5	0,7
	biomasa	7,4	16,2	2,8	1,8	8,1	15,7
	sunce	2,1	0,5	2,0	4,0	0,5	0,0
	voda	2,1	0,1	15,4	8,1	63,6	24,0
	nuklearna energija	51,4	0,0	54,5	20,7	0,0	32,8
	fosilna goriva	33,4	49,6	25,3	48,8	24,3	26,8
UKUPNO		100%	100%	100%	100%	100%	100%

1

26. Među navedenima, ime višenacionalne države smještene u Zapadnoj Europi je _____.

1

27. Među navedenima, ime jedine države čiji službeni jezik pripada u slavensku skupinu indoeuropskih jezika je _____.

1

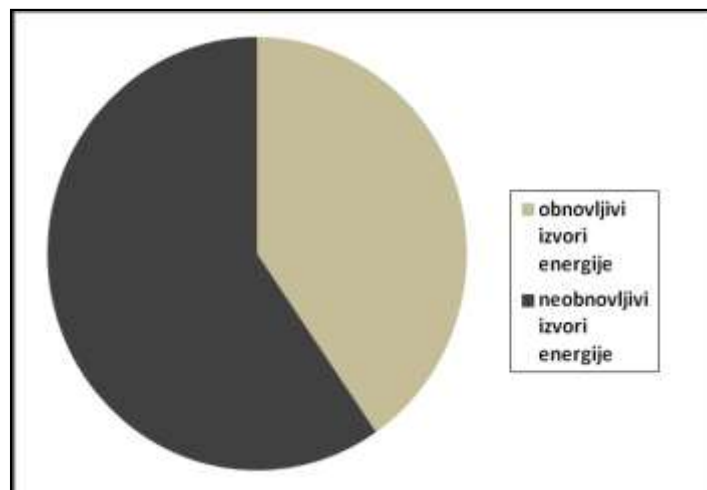
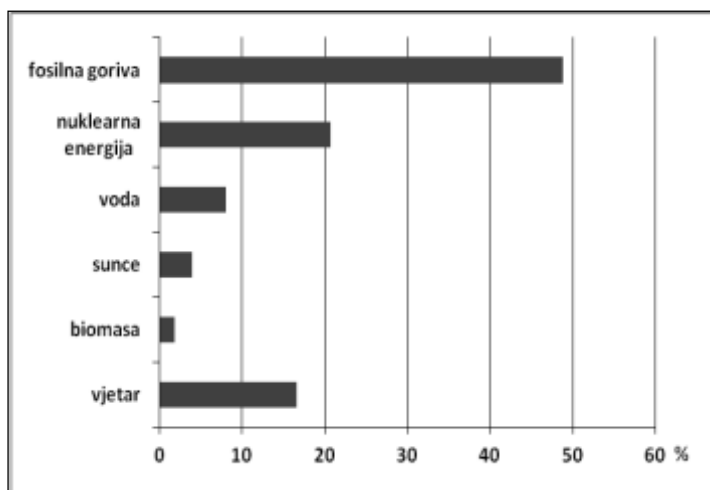
28. Među navedenima, ime jedine države na čijem teritoriju je zastupljena sredozemna klima je _____.

2

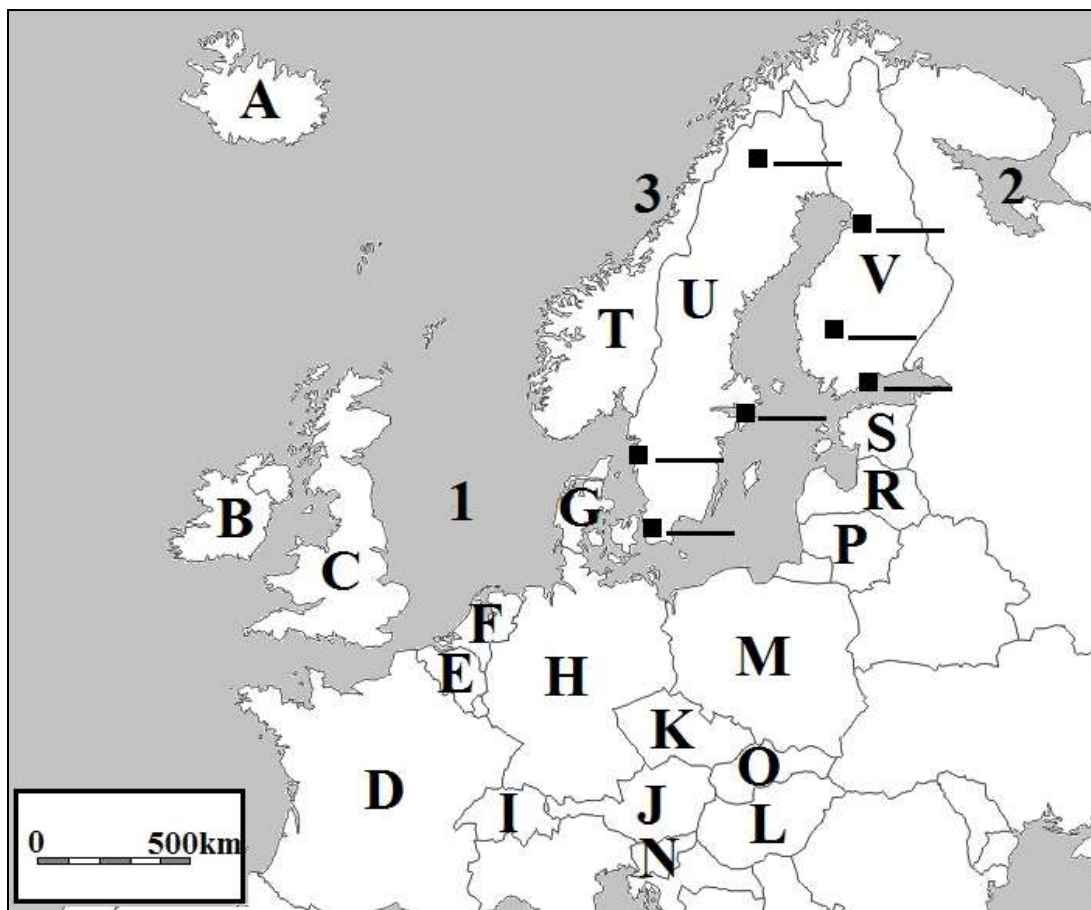
29. Među navedenima, ime države koja najveći udio električne energije dobiva iz biomase je _____, a ime države koja najveći udio električne energije dobiva iz neobnovljivih izvora energije je _____.

2

30. Promotri tablicu i na crte ispod priloženih dijagrama upiši ime države čija je energetska struktura prikazana na njima.



SLJEDEĆIH PET ZADATAKA RIJEŠI UZ POMOĆ PRILOŽENE KARTE DIJELA EUROPE.



3 31. Na karti su brojevima 1, 2 i 3 označena mora. Na crte iza brojeva upiši njihova imena.

1 _____ more 2 _____ more
 3 _____ more

3 32. Na odgovarajuće crte uz crne kvadratiće na karti upiši slova za sljedeće gradove (četiri crte su višak):

M Malmö S Stockholm T Tampere

2 33. Ime površinom najveće slavenske države Srednje Europe je _____, a na priloženoj karti označena je slovom _____.
 Ime jedine države Sjeverne Europe koja ima dva službena jezika je _____, a na priloženoj karti označena je slovom _____.

2 34. Ime države u kojoj se nalazi umjetni kanal Mittelland je _____, a na priloženoj karti označena je slovom _____.
 Ime države u kojoj se nalazi Europort I je _____, a na priloženoj karti označena je slovom _____.

2 35. Ime države čijim se teritorijem protežu Julijske Alpe je _____, a na priloženoj karti označena je slovom _____.
 Ime države čijim se teritorijem protežu Niske Tatire je _____, a na priloženoj karti označena je slovom _____.