

ŽUPANIJSKO NATJECANJE UČENIKA IZ GEOGRAFIJE 2011. GODINE
8. RAZRED

Zaporka _____

Bodovi _____

U sljedeća četiri zadatka dva su točna odgovora u svakom zadatku. Zaokruži slova uz točne odgovore.

- 2 1. Koje od navedenih cestovnih pravaca koji prolaze Hrvatskom ubrajamo u poprečne pravce?
a) pyhrnski b) slavonsko-bosansko-neretvanski c) jadransko-jonski d) posavski e) podravski

- 2 2. Koje među navedenim planinama dijelom čine granicu Hrvatske sa susjednom državom Bosnom i Hercegovinom?
a) Promina b) Velebit c) Lička Plješivica d) Biokovo e) Kamešnica

- 2 3. Koja su među navedenim obilježjima karakteristična za Jugoistočnoeuropski ili Balkanski kulturno-civilizacijski krug?
a) protestantizam b) germanizam c) romanizam d) islam e) pravoslavlje

- 2 4. Na koja dva kontinenta živi najmanje hrvatskih iseljenika?
a) u Africi b) u Australiji c) u Sjevernoj Americi d) u Južnoj Americi e) u Aziji

U sljedeća četiri zadatka poveži desni stupac s lijevim upisivanjem slova na crtu ispred pojmova u lijevom stupcu. Pazi, dva slova su višak.

- 3 5. Poveži glavno područje djelovanja međunarodnih organizacija i njihove skraćene nazive.

___ WTO	A) financije i novčarstvo
___ MMF	B) sigurnost i suradnja
___ MOO	C) šport
	D) trgovina
	E) zdravstvo

- 3 6. Poveži hrvatske županije s velikim brodogradilištima koja se u njima nalaze.

___ Uljanik	A) Zadarska
___ Brodotrogir	B) Splitsko-dalmatinska
___ 3. maj	C) Šibensko-kninska
	D) Primorsko-goranska
	E) Istarska

- 3 7. Poveži hrvatske otoke s pripadajućom prirodnom ili kulturnom baštinom.

___ moreška	A) Dugi otok
___ čipka	B) Hvar
___ jezero Mir	C) Korčula
	D) Krk
	E) Pag

3 8. Poveži hrvatske otoke i posebnosti poljoprivredne proizvodnje.

- | | |
|------------------------------------|--------------|
| ___ sorta grožđa vrbnička žlahtina | A) Dugi otok |
| ___ proizvodnja soli | B) Hvar |
| ___ lavanda | C) Korčula |
| | D) Krk |
| | E) Pag |

U sljedećih devet zadataka dopuni rečenice točnim odgovorima.

2 9. Razarajuće djelovanje mlata valova na obale naziva se _____, a podizanje razine mora i plavljenje kopna (potapanje dijelova kopna) u duljem razdoblju _____.

2 10. Koji su nazivi dviju pokrajina Gorske Hrvatske? _____ i _____.

2 11. Koje dvije države, s kojima na kopnu graniči Republika Hrvatska, imaju euro kao službenu novčanu jedinicu? _____ i _____.

2 12. Po ulovu i preradi ribe u Primorskoj Hrvatskoj ističu se mjesta Sali na _____ i Kali na otoku _____.

2 13. Hrvatskoj susjedna država s kojom nema neriješenih pitanja oko granične crte je država _____, a Hrvatskoj susjedna država koja je u razdoblju 2008.-2010. zbog spora oko granične crte blokirala pregovore Republike Hrvatske i Europske unije je država _____.

2 14. Lukina jama – Trojama je najdublji podzemni krški reljefni oblik u Hrvatskoj i nalazi se na planini _____, a njezina najveća dubina (novi podatci od ljeta 2010.) iznosi _____ m.

2 15. Najduža hrvatska rijeka koja se cijelim svojim tokom i desnom i lijevom obalom nalazi na području Hrvatske zove se _____ i ulijeva se u rijeku _____.

2 16. Sva mjesta (točke) u Hrvatskoj imaju (*upisati strane svijeta*) _____ geografsku dužinu i _____ geografsku širinu.

2 17. Upiši na crte koliko iznosi azimut sjevera i sjeverozapada.

Sjever: _____ Sjeverozapad: _____

U svakom od sljedeća dva zadatka prekriži četiri netočna pojma napisana kosim i podebljanim slovima.

2 18. Bura je *sjeverni/sjeveroistočni* vjetar koji najčešće donosi *vedro/oblačno* vrijeme. Posebno snažna bura puše podno *Male Kapele/Velebita* i to u području grada *Sinja/Senja*.

2 19. Prirodno-geografska cjelina Hrvatske koja ima najveći udio šuma u ukupnoj površini je *Gorska/Primorska* Hrvatska. Šume su ugrožene kiselim padalinama od kojih je najviše ugroženo drvo *bukve/jele*. Spačvanska šuma u *Gorskoj/Panonskoj* Hrvatskoj poznata je po hrastu *plutnjaku/lužnjaku*.

U sljedeća dva zadatka dvije tvrdnje od pet navedenih su točne. Zaokruži slovo ispred točnih tvrdnji.

- 2 20. a) Sjeverni dio Jadranskog mora dublji je od južnog dijela.
b) Podmorje sjevernog dijela Jadranskog mora gospodarski je značajno zbog iskorištavanja plina.
c) U sjevernom dijelu Jadranskog mora veća je razlika između plime i oseke nego u južnom.
d) Temperatura mora sjevernog dijela Jadranskog mora viša je zimi nego ljeti.
e) Zimi je temperatura mora sjevernog dijela Jadranskog mora viša nego u južnom Jadranu.
- 2 21. a) Prema zadnjem popisu najbrojnija nacionalna manjina u Hrvatskoj su Romi.
b) Prema zadnjem popisu najbrojnija manjinska vjerska zajednica u Hrvatskoj su muslimani.
c) Prema zadnjem popisu druga najbrojnija nacionalna manjina u Hrvatskoj su Bošnjaci.
d) Prema zadnjem popisu mađarska nacionalna manjina u Hrvatskoj najbrojnija je u području Međimurske županije.
e) Katolici (rimokatolici) prema zadnjem popisu stanovništva čine više do 85% stanovništva Hrvatske.

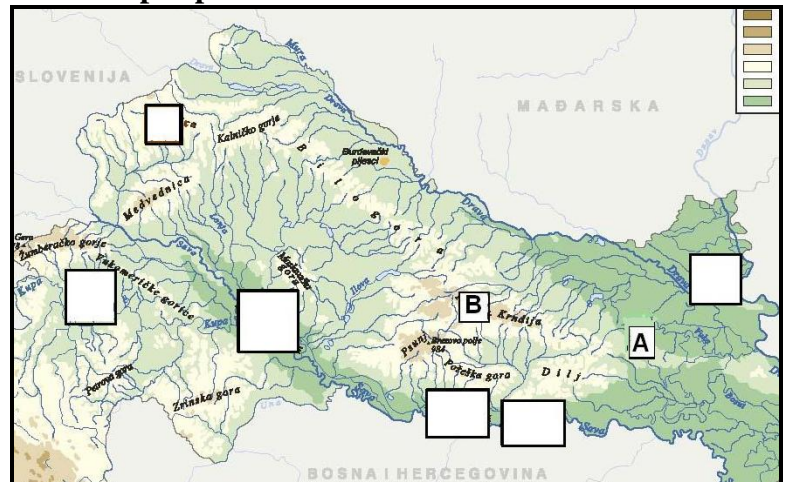
- 3 22. Zaokruži grad koji je pravi regionalni centar Riječke makroregije, podvuci grad koji je pravi regionalni centar Osječke makroregije, prekriži grad koji je makroregionalno središte .

Dubrovnik Pazin Poreč Požega Pula Sisak Slavonski Brod Split

Sljedeća dva zadatka riješi uz pomoć reljefne karte Panonsko-peripanonske Hrvatske.

- 3 23. Upiši slovo **C** na karti u kvadratić kojim je označeno Crnac polje, a slovo **J** u kvadratić kojim je označeno Jelas polje. Crnac i Jelas polje primjeri su najnižih dijelova reljefnih oblika u Panonskoj Hrvatskoj koje nazivamo _____.

- 2 24. Slovom **A** na karti je označena _____ lesna zaravan, a slovom **B** gora pod imenom _____.



Sljedeći zadatak riješi uz pomoć slike desno.

- 3 25. Kulturna baština (dobro) prikazana na slici desno, a koja se nalazi na UNESCO-ovom popisu svjetske baštine zove se _____ i nalazi se na otoku _____. To je jedno od ukupno _____ (upisati broj) kulturnih dobara (spomenika) u Primorskoj Hrvatskoj na UNESCO-ovom popisu.



U sljedećem zadatku izračunaj salinitet Jadranskog mora, a zatim prekriži netočni pojam napisan kosim i podebljanim slovima.

2 26. Koliko je grama soli otopljeno u 5 litara vode Jadranskoga mora, prosječnog saliniteta? _____

PROSTOR ZA RAČUNANJE:

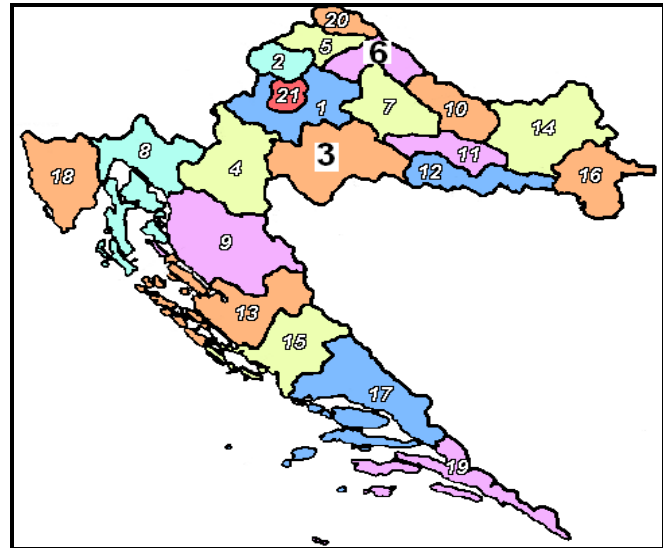
Prosječna slanost Jadranskog mora je *veća/manja* od prosječne slanosti svjetskog mora (*prekriži netočnu riječ*).

Sljedeća dva zadatka riješi uz pomoć priložene karte Hrvatske.

3 27. Na crte upiši nazive hrvatskih županija označenih na karti brojevima 3 i 6 te na karti **zaokruži** broj županije čijom granicom protječe rijeka Dragonja.

3 _____


6 _____



2 28. Prekriži na karti broj županije koja graniči na kopnu i s državom članicom Europske unije i s Bosnom i Hercegovinom, a naziv te županije je _____.

Sljedeći zadatak riješi uz pomoć priložene slike desno.

3 29. Otočna skupina prikazana na slici zove se _____, a površinom najveći otok koji pripada toj otočnoj skupini zove se _____. Zakonom proglašeno zaštićeno područje osobite prirodne, kulturne, odgojne, znanstvene, estetske, obrazovne, turističke i rekreativne vrijednosti u tom prostoru zove se _____.



(*upisati puni naziv*).

Sljedeći zadatak riješi uz pomoć karte dijela Primorske Hrvatske.

3 30. **Podebljaj** na karti tok rijeke Neretve u Hrvatskoj, **prekriži** na karti ime rijeke koja ima najveći hidroenergetski potencijal od rijeka Jadranskog slijeva u Hrvatskoj i **zaokruži** na karti otok na kojem se nalazi Veliko jezero (zaljev) s otočićem Svete Marije.

