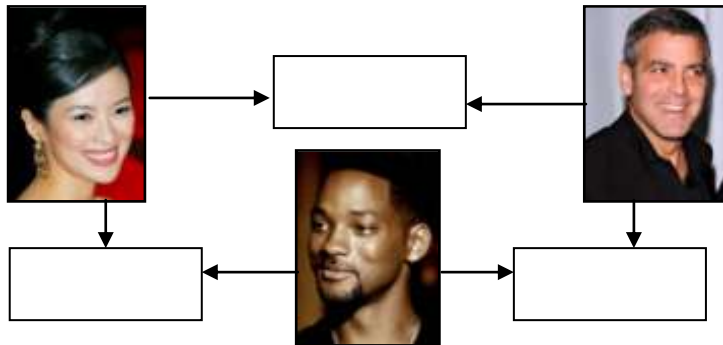


**ŠKOLSKO NATJECANJE UČENIKA IZ GEOGRAFIJE 2010. GODINE
6. RAZRED**

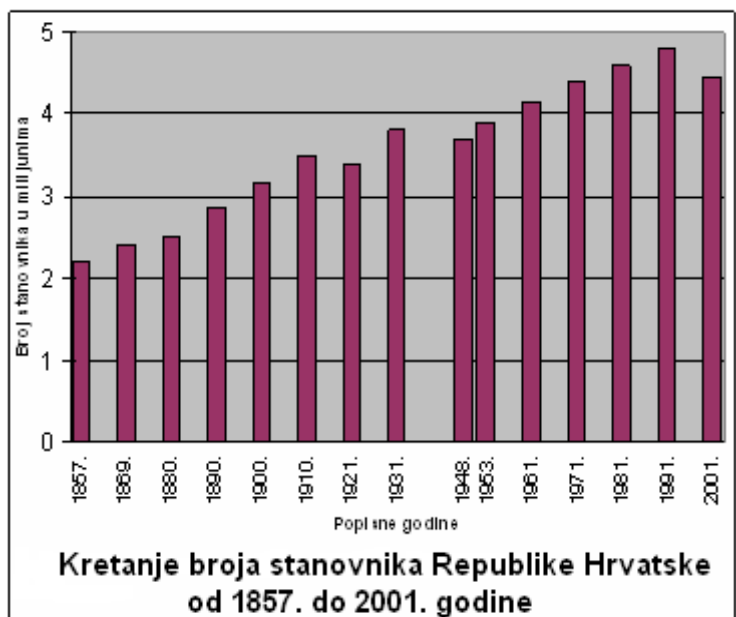
Zaporka _____ Bodovi _____

- 3** 1. U pravokutnike između fotografija koje prikazuju pripadnike glavnih rasa upiši nazive mješanaca rasa.



SLJEDEĆA DVA ZADATKA RIJEŠI UZ POMOĆ GRAFIKONA KRETANJA BROJA STANOVNIKA REPUBLIKE HRVATSKE.

- 2** 2. Na linije upiši popisnu godinu kad je Hrvatska imala:
najviše stanovnika - _____
najmanje stanovnika - _____



- 2** 3. Na linije upiši popisnu godinu kad je u Hrvatskoj prvi put zabilježeno više od:
3 milijuna stanovnika - _____
4 milijuna stanovnika - _____

- 2** 4. Na fotografijama su prikazani dijelovi Republike Hrvatske koji se nalaze na UNESCO-ovom Popisu svjetske baštine. Na linije ispod fotografija upiši njihove **nazive**.



2 5. Napiši kratice međunarodnih organizacija na linije ispod slika njihovih zastava.



U SLJEDEĆIH ŠEST ZADATAKA DOPUNI REČENICE.

2 6. Dijelovi prirodne granice između Europe i Azije su staro gromadno gorje _____ i mlada ulančana planina _____.

2 7. Vrsta udubine na kopnu koja je niža od razine mora naziva se _____.
Najdublja takva udubina u Aziji i na Zemlji zove se _____.

2 8. Vegetacija crnogorične šume na području Sibira zove se _____
i karakteristična je za _____ klimu.

2 9. Specijalizirani brod za transport nafte zove se _____, a sustav
izoliranih čeličnih cijevi koji služi za transport nafte zove se _____.

2 10. Glavni grad Indije zove se _____, a najveći grad Indije zove se
_____.

2 11. Najzastupljeniji službeni jezici u Indiji su _____ i
_____ jezik.

2 12. Izračunaj **prirodnu promjenu** za države navedene u tablici. Rezultate upiši na predviđeno
mjesto u tablici. Prema dobivenim rezultatima poredaj **države** prema vrijednosti prirodne
promjene od **veće** prema **manjoj** na linije uz brojeve ispod tablice.

DRŽAVE	STOPA RODNOSTI(%)	STOPA SMRTNOSTI(%)	PRIRODNA PROMJENA(%)
Tajland	16,1	6,0	
Malezija	23,5	4,4	
Vijetnam	21,6	6,3	

Prostor za računanje

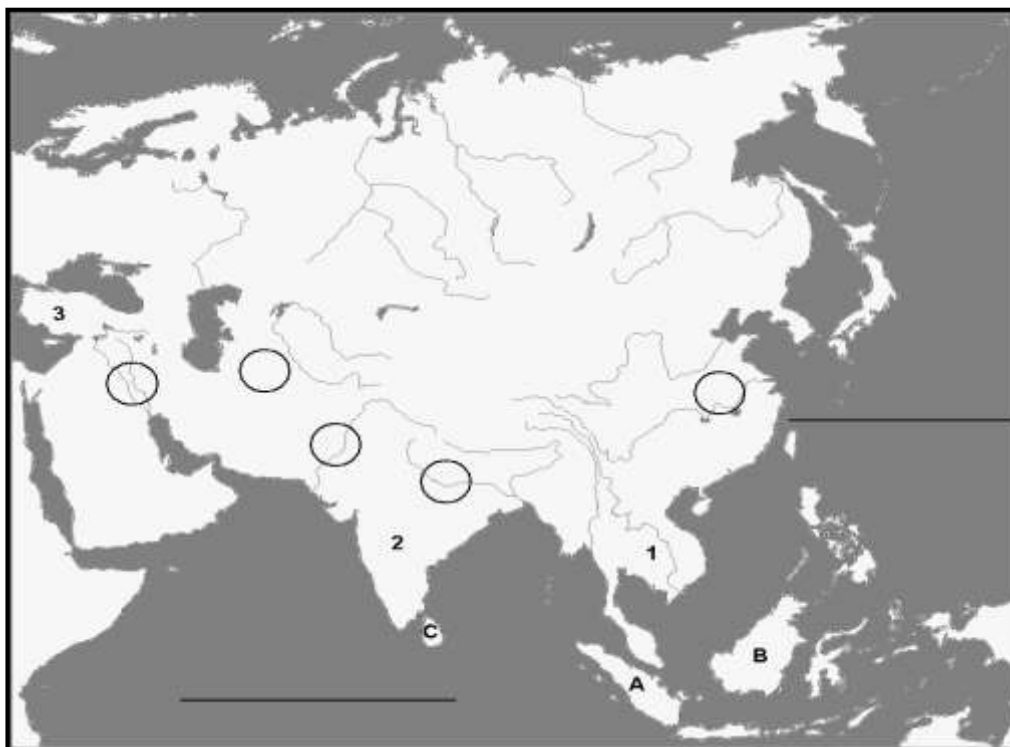
1 - _____ 2 - _____ 3 - _____

U SLJEDEĆA DVA ZADATKA PRECRTAJ NETOČNE POJMOVE.

3 13. U sljedećem tekstu o potresima **precrtaj tri netočna pojma** koji su napisani *kosim slovima*.
Najčešći razlog nastanka potresa je *pomicanje litosfernih ploča/djelovanje privlačnih sila
Mjeseca i Sunca*. Znanost koja se bavi proučavanjem potresa zove se *speleologija/seizmologija*.
Potres u podmorju može izazvati nastanak vala u moru koji se zove *tajfun/tsunami*.

3 14. U sljedećem tekstu o islamu **precrtaj tri netočna pojma** koji su napisani *kosim slovima*.
Islam je *monoteistička/politeistička* religija nastala u 7. stoljeću na *Arapskom/Indijskom*
poluotoku. Sveti grad islama je *Meka/Varanasi(Benares)*.

SLJEDEĆA ČETIRI ZADATKA RIJEŠI UZ POMOĆ PRILOŽENE GEOGRAFSKE KARTE AZIJE.



- 2** **15.** Na linije na karti upiši nazive **oceana** koji okružuju **Aziju**.
- 3** **16.** Brojevi na karti označavaju **azijske poluotoke**:
1 - _____ **2** - _____ **3** - _____
- 3** **17.** Slova na karti označavaju **azijske otoke**:
A - _____ **B** - _____ **C** - _____
- 3** **18.** U kružice na karti upiši slova za **azijske nizine** (dva kružića su višak):
M – Mezopotamija **H** – Hindustan **P** – Punjab (Pandžab)

U SLJEDEĆIH PET ZADATKA DVA SU ODGOVORA TOČNA. ZAOKRUŽI SLOVA UZ TOČNE ODGOVORE.

- 2** **19.** Zaokruži slova uz **dva najgušće naseljena kontinenta** na Zemlji:
a) Europa b) Južna Amerika c) Afrika d) Azija e) Sjeverna Amerika
- 2** **20.** Zaokruži slova uz **nazive država** koje prema **BDP-u po stanovniku** svrstavamo u **visoko razvijene države**:
a) Brazil b) Kanada c) Kina d) Sjedinjene Američke Države e) Egipat
- 2** **21.** Zaokruži slova uz **zanimanja kvartarnog sektora**:
a) bankar b) drvosječa c) sudac d) pekar e) glumac
- 2** **22.** Zaokruži slova uz točne tvrdnje o **Ujedinjenim narodima (UN)**:
a) Najvažnija upravna tijela UN-a su Generalna skupština i Vijeće sigurnosti.
b) NATO je specijalizirana organizacija UN-a za očuvanje mira u svijetu.
c) Glavno sjedište UN-a se nalazi u San Franciscu.
d) Republika Hrvatska je država članica UN-a.
e) UN je organizacija koja ima manje od 100 država članica.

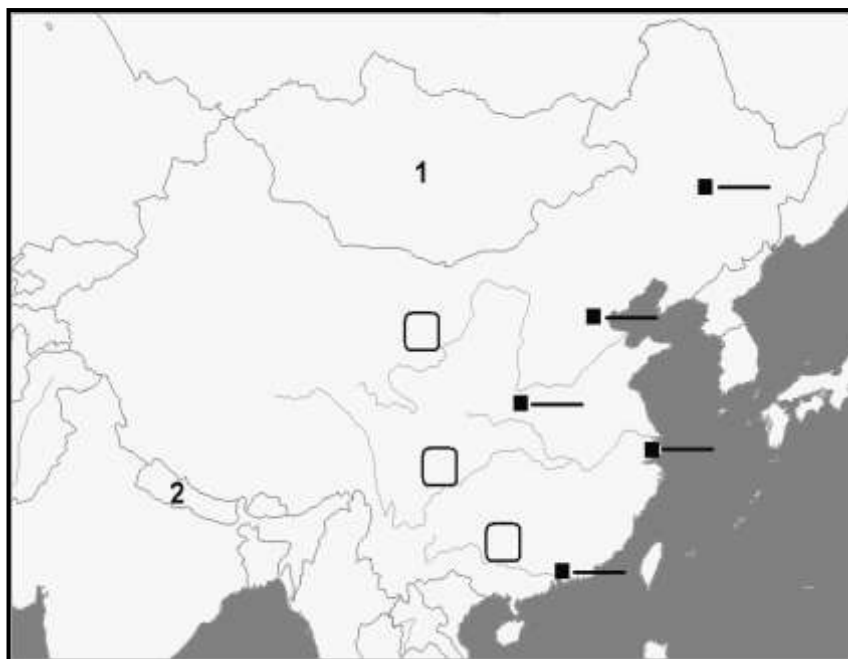
- 2** **23.** Zaokruži slova uz točne tvrdnje o **Japanu**:
- a) Japan je veliki svjetski izvoznik neobnovljivih izvora energije.
 b) Japansko otočje je sastavni dio Pacifičkog vatrenog prstena.
 c) Najgušće naseljeni japanski otok je Hokkaido.
 d) U dobnoj strukturi Japana prevladava mlado stanovništvo.
 e) Najveći udio zaposlenih u Japanu radi u uslužnim djelatnostima.

U SLJEDEĆA ČETIRI ZADATKA DOPUNI REČENICE.

- 2** **24.** Navedi nazive **godišnjih doba** na sjevernoj polutci u kojima puše monsun ovih obilježja:
 Suh i puše s kopna - _____ Vlažan i puše s mora - _____
- 3** **25.** Tri religije smatraju **Jeruzalem** svetim gradom. To su:
 _____, _____ i _____.
- 3** **26.** Azija se smjestila u **tri toplinska pojasa**. To su: _____,
 _____ i _____.
- 2** **27.** Najvažnija poljoprivredna kultura monsunske Azije i osnova prehrane domaćeg stanovništva je _____, a vrsta drveta američkog podrijetla iz čijeg se soka proizvodi prirodna guma naziva se _____.

SLJEDEĆA TRI ZADATKA RIJEŠI UZ POMOĆ PRILOŽENE GEOGRAFSKE KARTE KINE.

- 3** **28.** Na odgovarajuće linije uz crne kvadratiće na karti upiši slova za sljedeće **kineske gradove** (dvije linije su višak):
 A – Xianggang (Hong Kong)
 B – Beijing (Peking)
 C - Shanghai



- 3** **29.** U pravokutnike na karti upiši brojeve za sljedeće **kineske rijeke**:

- 1 – Chiang Jiang (Yangtze, Modra rijeka)
 2 – Zhu Jiang (Sikiang, Biserna rijeka)
 3 – Huang He (Žuta rijeka)

- 2** **30.** Brojevi na karti označavaju **države** koje graniče s Kinom. Na linije pored brojeva upiši njihove nazive.

1 - _____ 2 - _____