

**ŠKOLSKO NATJECANJE UČENIKA IZ GEOGRAFIJE 2010. GODINE
6. RAZRED**

Zaporka _____ Bodovi _____

3 1. Zadatak riješi uz pomoć priloženog grafikona stopa rodnosti i stopa smrtnosti za šest država.

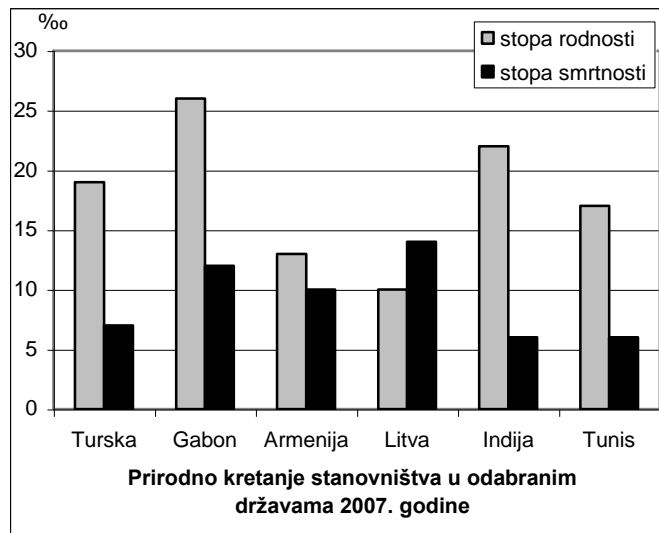
- Izračunaj **stopu prirodne promjene** za **Tunis**.

- Na liniju napiši **naziv države iz grafikona** koja ima:

najveći prirodni porast _____

najveći prirodni pad _____

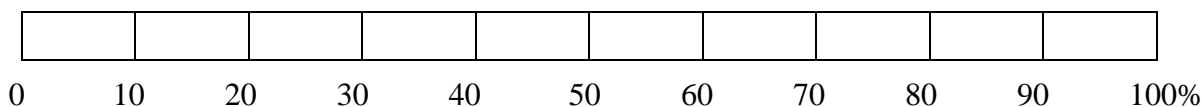
Prostor za računanje



**SLJEDEĆA DVA ZADATKA RIJEŠI UZ POMOĆ PODATAKA O STRUKTURI
ZAPOSLENOSTI JEDNE AZIJSKE DRŽAVE.**

Primarni sektor	Sekundarni sektor	Tercijarni sektor
5%	25%	70%

3 2. Uz pomoć podataka iz tablice izradi grafikon udjela zaposlenosti. Prvo udio primarnog sektora označi **vodoravnim linijama**, zatim udio sekundarnog sektora **okomitim linijama**, a na kraju udio tercijarnog sektora **kosim linijama**.



2 3. Zaokruži **slowo** uz točan odgovor. Strukturu zaposlenosti kakva je prikazana u tablici imaju:
a) Visoko razvijene države b) Srednje razvijene države c) Slabo razvijene države
 Zaokruži **broj** uz točan odgovor. Azijska država koja ima takvu strukturu zaposlenosti je:

- 1) Indija 2) Kina 3) Saudijska Arabija 4) Japan

3 4. Na fotografijama se nalaze znamenitosti Azije - **A) AJA SOFIJA, B) ZID PLAČA, C) BURJ AL ARAB**. Na linije ispod fotografija napiši nazive **gradova** u kojima se nalaze.

A)



B)



C)



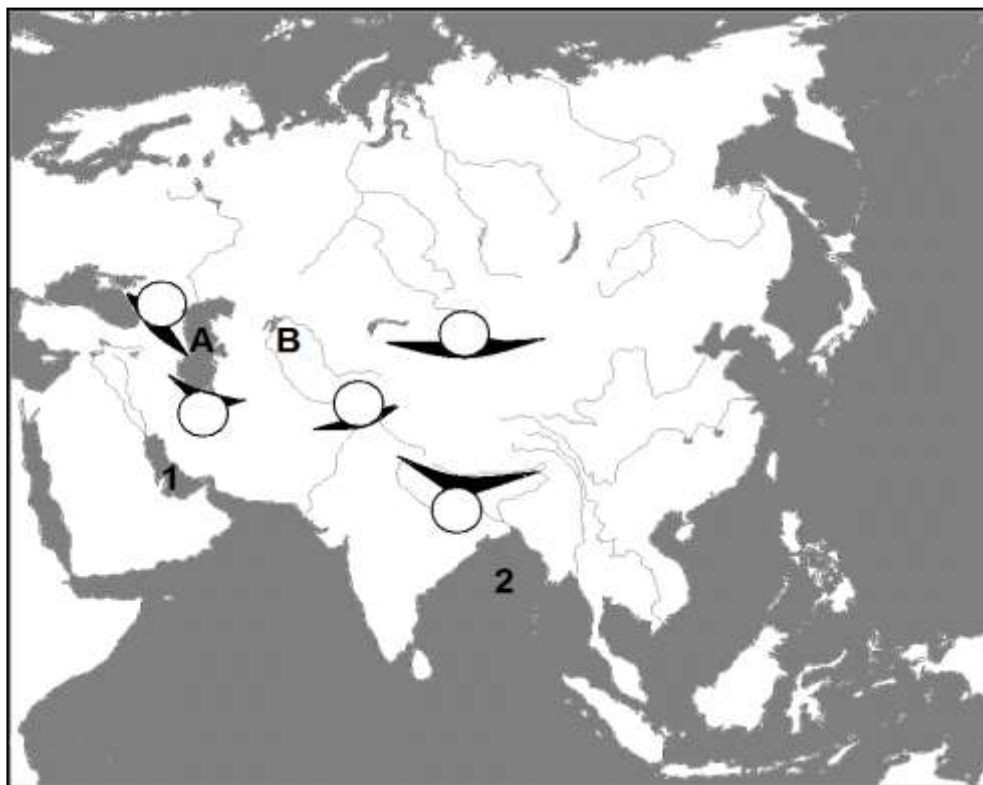
U SLJEDEĆIH SEDAM ZADATKA DVA SU ODGOVORA TOČNA. ZAOKRUŽI SLOVA UZ TOČNE ODGOVORE.

- 2 5. Među navedenima, **zanimanja tercijarnog sektora** su:
a) lugar b) sudac c) kuhar d) vojnik e) bankar
- 2 6. Među navedenima, **gradovi** čija se kulturno-povijesna baština nalazi na **UNESCO-ovom** Popisu svjetske kulturne baštine su:
a) Zadar b) Šibenik c) Pula d) Poreč e) Rijeka
- 2 7. Prirodna granica između **Europe** i **Azije** prolazi:
a) rijekom Ob b) Iranskim gorjem c) Dardanelima d) Crnim morem e) Anatolijom
- 2 8. Među navedenima, **najrjeđe naseljeni dijelovi Azije** su:
a) Hindustan b) Mongolija c) Punjab (Pandžab) d) Bangladeš e) Tibet
- 2 9. Među navedenima, prostori u kojima je **islam** dominantna religija su:
a) Južna Afrika b) Jugozapadna Azija c) Istočna Azija
d) Australija e) Sjeverna Afrika
- 2 10. Zaokruži slova uz točne tvrdnje o **klimi i biljnom pokrovu Azije**:
a) Takla Makan je topla pustinja.
b) Ljetni monsun je topao vjetar koji donosi obilne padaline.
c) Crnogorična šuma u Sibiru naziva se tundra.
d) Središnja Azija je izrazito suh prostor zbog reljefne izoliranosti i velike udaljenosti od mora.
e) Uz obale Sjevernog ledenog mora najzastupljenija je snježno-šumska klima.
- 2 11. Zaokruži slova uz točne tvrdnje o **Japanu**:
a) Japansko otočje se u potpunosti nalazi u sjevernom umjerenom toplinskom pojasu.
b) Japan ima više seoskog nego gradskog stanovništva.
c) Glavni grad Japana, Tokyo, smjestio se na zapadu otoka Honshu.
d) Japan je jedan od vodećih svjetskih izvoznika ugljena, nafte i plina.
e) Zbog niske rodnosti, u Japanu se smanjuje udio mladog stanovništva.

U SLJEDEĆA DVA ZADATKA PRECRTAJ PO TRI NETOČNA POJMA NAPISANA KOSIM SLOVIMA.

- 3 12. Indija je sve do osamostaljenja 1947. godine bila dijelom kolonijalnog carstva *Francuske/Ujedinjenog Kraljevstva*. Najraširenija religija u Indiji je *hinduizam/budizam*. U Indiji je više od 30 milijunskih gradova. Najmnogoljudniji indijski grad na istočnoj obali je *Chennai/Kolkata*.
- 3 13. Najduža kineska i azijska rijeka zove se *Huang He/Yangtze(Chang Jiang)* koja se još naziva i *Modra/Žuta* rijeka. Ona izvire na *Tibetu/Himalaji*.

**SLJEDEĆA
ČETIRI ZADATKA
RIJEŠI UZ
POMOĆ
PRILOŽENE
GEOGRAFSKE
KARTE AZIJE.**



2 **14.** Slova na karti označavaju **azijska jezera**:
A - _____ B - _____

2 **15.** Brojevi na karti označavaju **azijske zaljeve**:
1 - _____ 2 - _____

3 **16.** Slovima na karti označi ove **azijske poluotoke**:
C – Malajski poluotok D – Indokineski poluotok E – Indijski poluotok

3 **17.** U kružića na karti upiši slova za **azijske planine** (dva kružića su višak):
K – Kavkaz H – Hindukuš T – Tjan Šan

U SLJEDEĆIH SEDAM ZADATAKA DOPUNI REČENICE.

2 **18.** Dva najgušće naseljena kontinenta na Zemlji su _____ i _____.

2 **19.** Dva jezika s najviše izvornih govornika u svijetu su _____ i _____.

2 **20.** Općeniti naziv za najdublji dio svjetskog mora koji je nastao na mjestu podvlačenja dviju litosfernih ploča je _____. Naziv najdubljeg takvog mjesta na Zemlji (11 022 m) je _____.

2 **21.** Specijalizirani brod za transport nafte je _____, a sustav izoliranih čeličnih cijevi koji služi za transport zemnog plina je _____.

2 **22.** Općeniti naziv za razornu oluju velikih razmjera koja nastaje nad tropskim morima u blizini ekvatora je _____. Naziv japanskog porijekla za takvu oluju koji se koristi na području zapadnog Pacifika je _____.

2 **23.** Najmnogoljudniji grad Kine je _____, a glavni grad Kine je _____.

3 24. Na linije uz nazive država upiši naziv najzastupljenijeg svjetskog jezika.

- Sjedinjene Američke Države - _____
- Argentina - _____
- Australija - _____

U SLJEDEĆA TRI ZADATKA POVEŽI PAROVE UPISIVANJEM SLOVA NA CRTU ISPRED PONUĐENIH ODGOVORA. TRI ODGOVORA SU VIŠAK.

2 25. Zastave važnih međunarodnih organizacija pridruži nazivu organizacije:



_____ - UN _____ - FAO _____ - UNICEF _____ - UNESCO _____ - NATO

2 26. Navedene rijeke pridruži nizinama u kojima se nalaze:

A) *Ganges*

B) *Brahmaputra*

_____ - Asam _____ - Mezopotamija _____ - Punjab _____ - Turanska nizina _____ - Hindustan

2 27. Objašnjenja pridruži osobitostima Japana:

A) *Umjetnost slaganja papira*

B) *Tradicionalna odjeća*

_____ - haiku _____ - kimono _____ - ikebana _____ - origami _____ - bonsai

SLJEDEĆA TRI ZADATKA RIJEŠI UZ POMOĆ PRILOŽENE GEOGRAFSKE KARTE JUGOISTOČNE I ISTOČNE AZIJE.

3 28. Na odgovarajuće linije uz crne kvadratiće na karti upiši slova za sljedeće **gradove** (dvije linije su višak):

H - Xianggang (Hong Kong)

S - Singapore (Singapur)

B - Krung Thep (Bangkok)

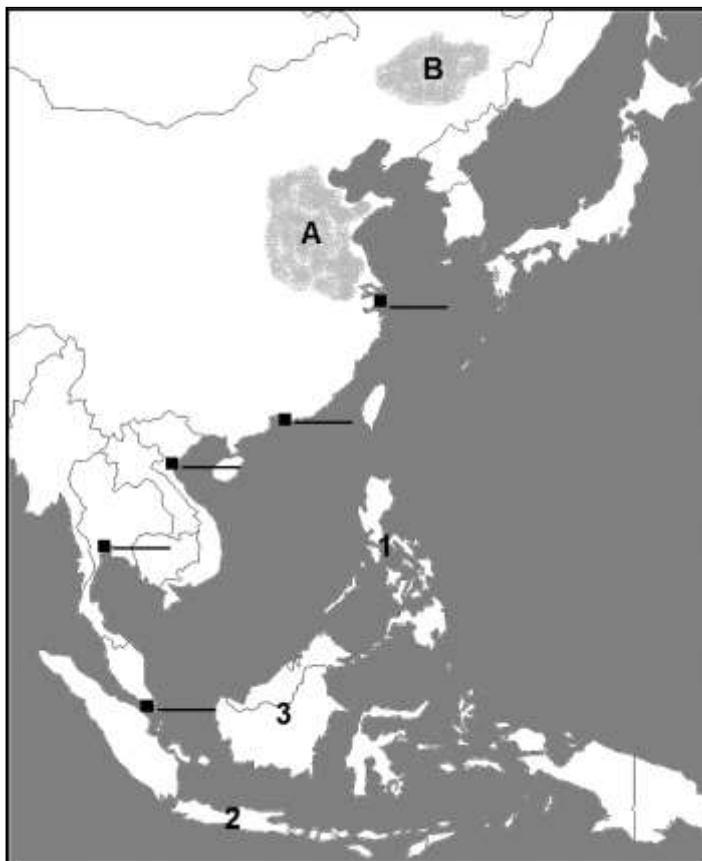
3 29. Brojevima na karti označeni su azijski otoci. Na linije pored brojeva upiši njihove nazive.

1 - _____

(upiši naziv otočne skupine)

2 - _____

3 - _____



2 30. Slova na karti označavaju **nizine**. Na linije pored slova upiši njihove nazive.

A - _____ B - _____