

20. ŠKOLSKO/OPĆINSKO/GRADSKO NATJECANJE IZ GEOGRAFIJE 2013. GODINE

Razred ili kategorija natjecanja: **6. razred**

Zaporka

--	--	--	--	--

Broj postignutih bodova ____ / 70

Potpis članova Školskog povjerenstva

1. _____

2. _____

3. _____

Mjesto i nadnevak: _____

Za rješavanje zadataka predviđeno je 60 minuta.

Test se rješava kemijskom olovkom s plavom tintom koja se ne briše. Uporaba obične olovke i crvene ili neke druge boje tinte (osim plave) rezultira diskvalifikacijom učenika.

Pri rješavanju testa treba primijeniti jezičnu normu standardnoga hrvatskoga jezika, posebice treba poštivati pravopisna pravila o pisanju velikoga i maloga početnoga slova geografskih imena. Za pisanje geografskih imena u testovima i praktičnim radovima primjenjuje se *Popis geografskih imena* izrađen za potrebe natjecanja.

Odgovori učenika moraju biti čitljivo napisani pisanim slovima, osim u zadacima u kojima je odgovor jedno slovo.

Za vrijeme testiranja ne smije se koristiti ništa osim navedenoga pribora za pisanje. Ova odredba podrazumijeva da natjecatelji ne smiju kod sebe (na sebi, ispod, u svojoj odjeći i slično) imati predmete koji na bilo koji način mogu dovesti u sumnju pravilno provođenje natjecanja. Učenici se ne smiju služiti atlasom, zidnom kartom ni računalom. Kartografski i grafički prilozi nužni za rješavanje zadataka sastavni su dio testa.

Učenicima se dopušta pisanje po marginama ispitnog materijala bez oduzimanja bodova i/ili diskvalifikacije.

Potpuno ispravno riješeni zadaci, prema uputi za rješavanje vrednuju se s jednim, dva ili tri boda. U djelomično ispravno riješenim zadacima boduju se ispravno riješene čestice, ako nije bilo korekcije odgovora u tim česticama. Netočno riješeni zadaci i naknadno ispravljeni odgovori te odgovori koji su pisani tiskanim slovima ili kombinacijom tiskanih i pisanih slova, kao i odgovori u zagradama ne vrednuju se.

PRVA DVA ZADATKA RIJEŠI UZ POMOĆ PRILOŽENOG DIJAGRAMA.

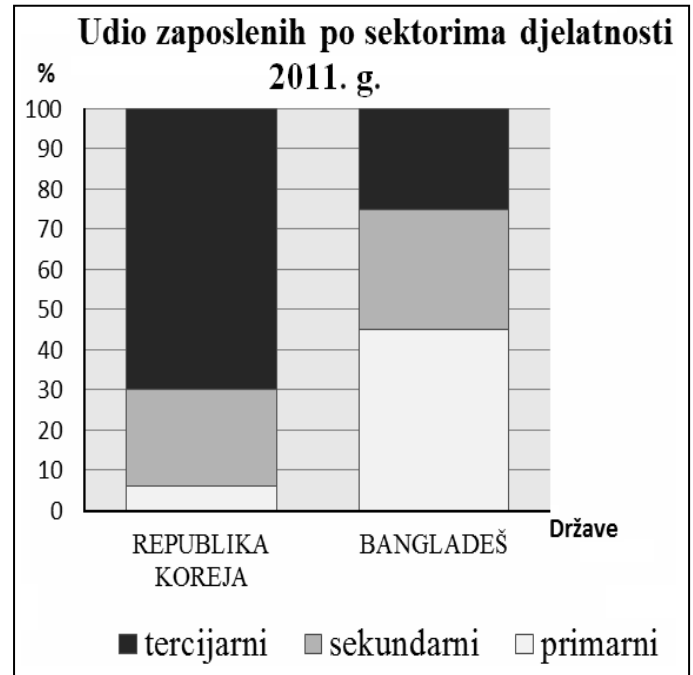
1	
---	--

1. Ime države koja prema gospodarskoj strukturi stanovništva prikazanoj na dijagramu pripada skupini slabije razvijenih država je _____.

U SLJEDEĆEM ZADATKU JEDAN JE TOČAN ODGOVOR. ZAKRUŽI SLOVO ISPRED TOČNOG ODGOVORA.

1	
---	--

2. Koja od navedenih država ima strukturu zaposlenih po sektorima kao i Republika Koreja?
- a) Indija b) Vijetnam
c) Izrael d) Iran



U SLJEDEĆA ČETIRI ZADATKA DOPUNI REČENICE.

2	
---	--

3. Najvažnija gospodarska i politička organizacija najmanjeg kontinenta Starog svijeta je _____ (upiši puni naziv). Njezino sjedište je u _____ (upiši ime države).

2	
---	--

4. Na području Azije najviše je pripadnika _____ rase, dok na području Južne Azije pretežno žive pripadnici _____ rase.

2	
---	--

5. Danas je najmnogoljudniji i najgušće naseljen kontinent Azija. Nakon nje, na drugom mjestu prema broju stanovnika je _____ (upiši ime kontinenta), a na drugom mjestu prema gustoći naseljenosti _____ (upiši ime kontinenta).

2	
---	--

6. Površinom najveća pustinja u Aziji je _____ (upiši ime), a prostire se na teritoriju Kine i _____ (upiši ime države).

U SVAKOM OD SLJEDEĆA TRI ZADATKA U PAROVIMA POJMOVA KOJI SU PODEBLJANI I ODVOJENI KOSIM CRTAMA ZAKRUŽI ONE POJMOVE KOJI SU TOČNI.

2	
---	--

7. Najvažnija međunarodna organizacija na svijetu su Ujedinjeni narodi čiji je cilj očuvanje mira i suradnje među državama. Danas ima **153 / 193** članice, a među njima **je / nije** Hrvatska. Osnovana je nakon **Prvog / Drugog** svjetskog rata, a sjedište je u New Yorku. Kratica početnih slova na engleskom jeziku specijalizirane organizacije UN-a koja se bavi poljoprivredom i prehranom je **FAO / WTO**.

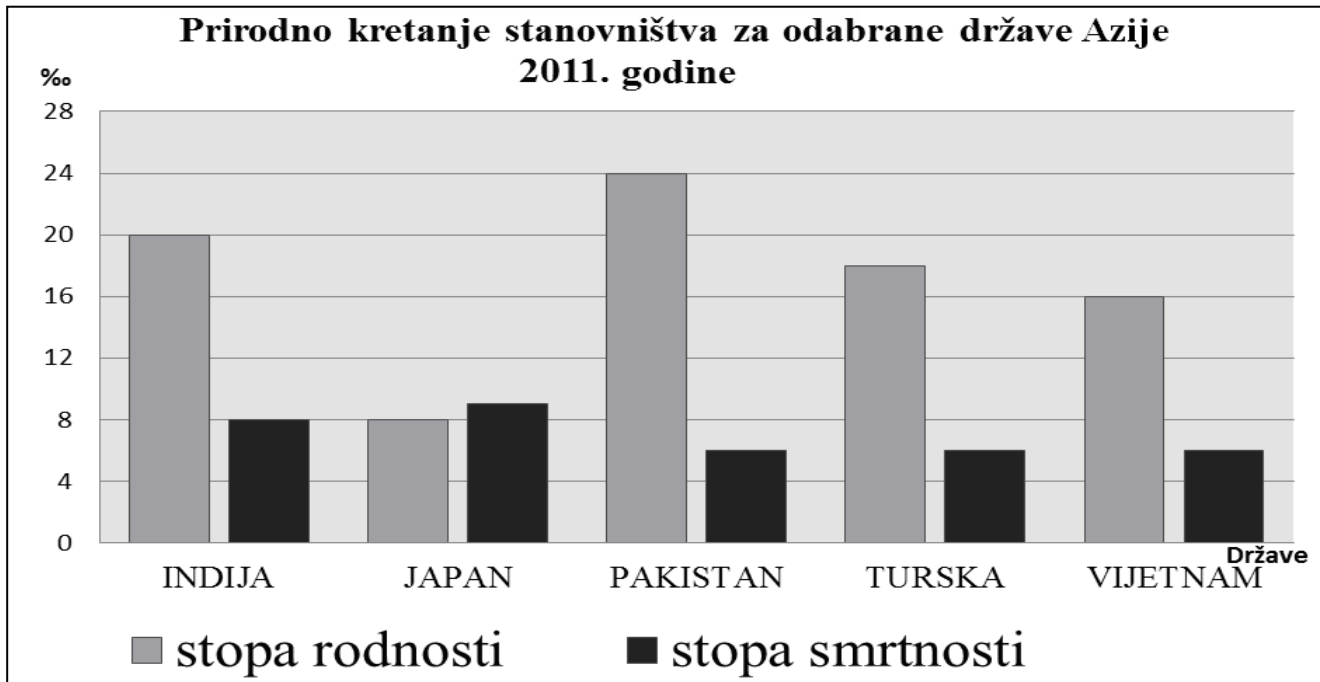
2

8. Nagli porast svjetskog stanovništva započeo je u **19. / 20.** stoljeću. Do tada su stope i rodnosti i smrtnosti bile **niske / visoke**. Razvojem medicine, poboljšanjem životnih uvjeta i higijene tijekom prošlog stoljeća prve su se smanjivale stope **rodnosti / smrtnosti**. Ukupan broj stanovnika svijeta danas je u porastu, čemu najviše doprinose **razvijene / slabije razvijene** države.

2

9. Kina se počinje ubrzano gospodarski razvijati u **prvoj / drugoj** polovici 20. stoljeća zbog razvoja **poljoprivrede / industrije**. Time se uključila u globalizacijske procese koji su doprinijeli **povećanju / smanjenju** razlika u razvijenosti između Uže i Vanjske Kine. Vanjska Kina obuhvaća **istočni / zapadni** dio Kine.

SLJEDEĆA DVA ZADATKA RIJEŠI UZ POMOĆ PRILOŽENOG DIJAGRAMA.



2

10. Među navedenim, država s najvišom stopom rodnosti je _____
(upiši ime države) i ona iznosi _____ (upiši stopu rodnosti).

2

11. Prirodni pad među navedenim azijskim državama ima _____ (upiši
ime države), a najniži prirodni prirast _____ (upiši ime države).

Prostor za računanje

U SLJEDEĆEM ZADATKU DVA SU ODGOVORA TOČNA. ZAOKRUŽI SLOVA ISPRED TOČNIH ODGOVORA.

2

12. Koji od navedenih gradova nisu smješteni na obali mora?

- a) Bagdad b) Chennai (Madras) c) Kyoto d) Istanbul e) Karachi

SLJEDEĆIH DEVET ZADATAKA RIJEŠI UZ POMOĆ PRILOŽENE KARTE AZIJE.

3	
---	--

13. Podebljaj na karti rijeku

Chang Jiang cijelom

dužinom njezinog toka. Ona pripada slijevu _____

mora, a na njezinom ušću se nalazi grad _____.

2	
---	--

14. Ime pustinje označene na karti brojem 4 je

karti brojem 4 je _____, a

nalazi se u _____

zavali (upiši ime).

2	
---	--

15. Ime poluotoka koji je na

karti označen brojem 5 je _____.

Ime države koja se nalazi na krajnjem jugu tog poluotoka je _____.

3	
---	--

16. Odredi geografski smještaj točke označene slovom A. Strane svijeta upiši punim nazivom.

Točka označena slovom A nalazi se _____

i _____

Ta se točka nalazi u _____ toplinskom pojasu (upiši puno ime)

kojeg na sjeveru omeđuje _____ (upiši ime paralele).

1	
---	--

17. Na priloženoj karti zaokruži Aralsko jezero.

1	
---	--

18. Strelice ucrtane na karti označavaju smjer puhanja _____

(upiši puni naziv vjetra).

U SVAKOM OD SLJEDEĆIH SEDAM ZADATAKA DOPUNI REČENICE I U PAROVIMA POJMOVA KOJI SU PODEBLJANI I ODVOJENI KOSIM CRTAMA ZAOKRUŽI ONAJ POJAM KOJI JE TOČAN.

2	
---	--

19. Ime visoravni označene na karti brojem 1 je _____ . Ona je

starog / prastarog postanka.

2	
---	--

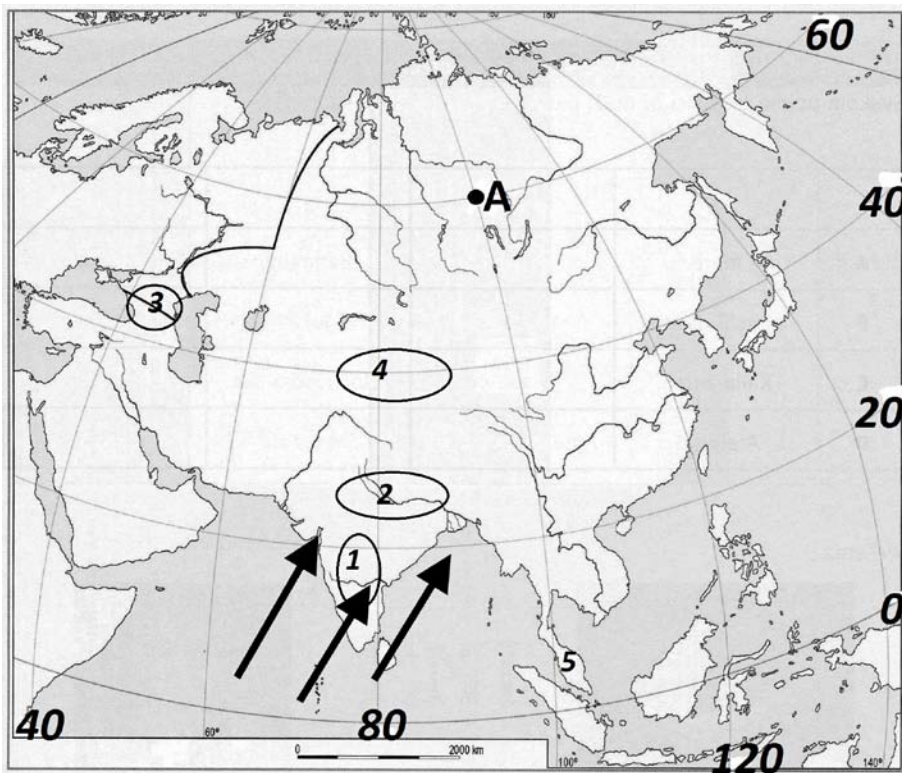
20. Ime nizine označene na karti brojem 2 je _____ . Ona se nalazi uz

rijeku **Ganges / Ind**.

2	
---	--

21. Ime planine označene na karti brojem 3 je _____ . **Starog / Mladog**

je postanka.



2	
---	--

22. Službeni jezik u većini država Južne Amerike je _____ jezik. Taj jezik **je / nije** jedan od šest službenih jezika Ujedinjenih naroda.

2	
---	--

23. Konobar je zanimanje koje pripada _____ sektoru. Djelatnosti koje financira država iz proračuna, primjerice obrazovanje, pripadaju **tercijarnom / kvartarnom** sektoru.

2	
---	--

24. Prevladavajući utjecaj kopna na klimu nekog prostora naziva se _____. Ovakvo klimatsko obilježje ima područje **Monsunske / Središnje** Azije.

2	
---	--

25. Visoke temperature tijekom cijele godine s izmjenom kišnog i sušnog razdoblja značajke su _____ klime. Karakteristična je za područje **Arabije / Indokine**.

U SLJEDEĆA TRI ZADATKA POVEŽI SREDNJI I DESNI STUPAC S LIJEVIM UPISIVANJEM PRIPADAJUĆEG SLOVA I BROJA NA CRTU ISPRED POJMOVA U LIJEVOM STUPCU. JEDNO SLOVO I JEDAN BROJ SU VIŠAK.

3	
---	--

26. Poveži sveti grad s državom i prevladavajućom religijom.

_____ kršćanstvo	A) Meka	1) Mijanmar
_____ hinduizam	B) Jeruzalem	2) Indija
_____ budizam	C) Mandalay	3) Izrael
	D) Varanasi (Benares)	4) Saudijska Arabija

3	
---	--

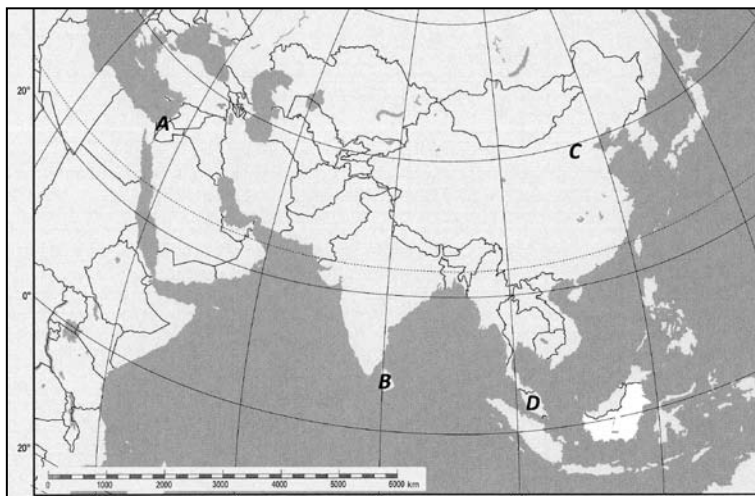
27. Poveži otoke s pripadajućim državama i gradovima koji se na njima nalaze.

_____ Tokyo	A) Luzon	1) Japan
_____ Manila	B) Sumatra	2) Malezija
_____ Jakarta	C) Honshu	3) Filipini
	D) Java	4) Indonezija

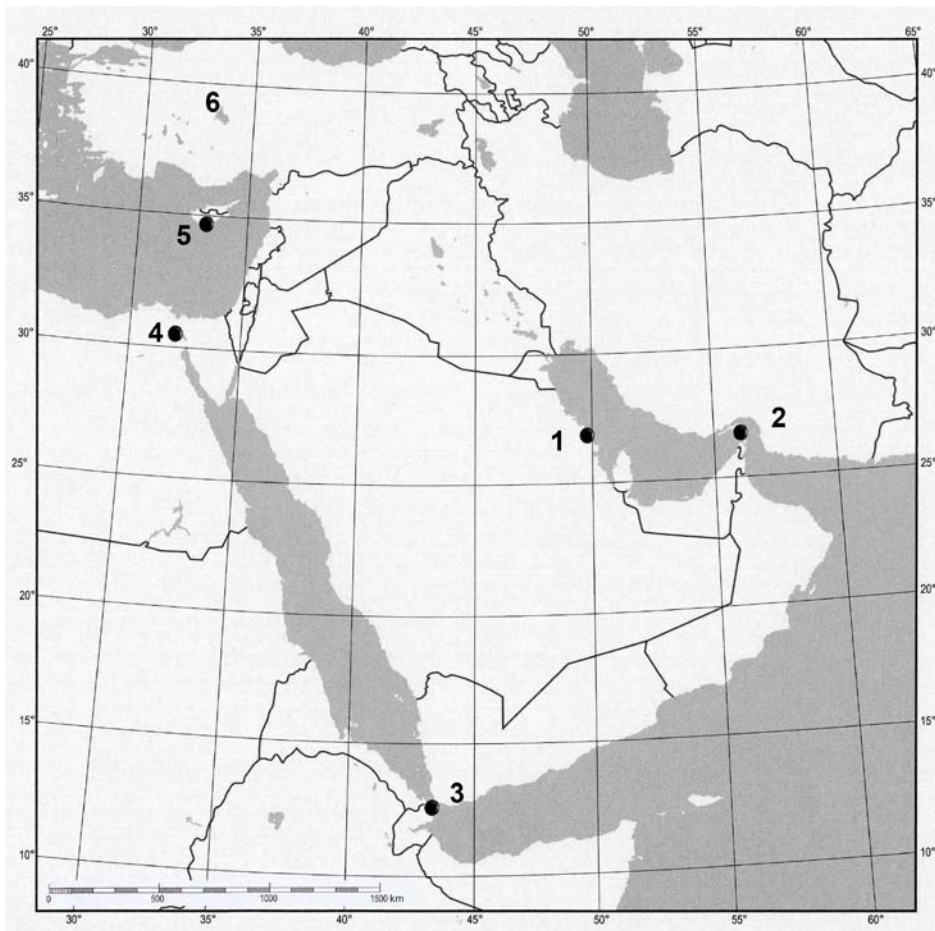
3	
---	--

28. Poveži područja uzgoja (označena na karti slovima) s imenima država i poljoprivrednim kulturama.

_____ agrumi	A	1) Šri Lanka
_____ kaučukovac	B	2) Kina
_____ čaj	C	3) Malezija
	D	4) Izrael



SLJEDEĆIH SEDAM ZADATAKA RIJEŠI UZ PRILOŽENU KARTU JUGOZAPADNE AZIJE.



3	
---	--

29. Na crte upiši ime države, otoka i mora.

Brod je krenuo na putovanje iz mjesta označenog točkom i brojem 1 u državi _____ te je ploveći najkraćim pomorskim putem završio putovanje u mjestu označenom točkom i brojem 5 koje se nalazi na otoku _____ u _____ moru.

2	
---	--

30. Teret koji se najviše prevozi ovim putem je _____. Brod specijaliziran za prijevoz ovakvog tereta nazivamo _____.

2	
---	--

31. Crveno more sa susjednim morem povezuje _____ kanal (upiši ime), koji je na karti označen brojem _____.

1	
---	--

32. Vrstu mjerila na priloženoj geografskoj karti nazivamo _____ mjerilo.

2	
---	--

33. Ime poluotoka označenog na karti brojem 6 je _____, a ime države koja se većim dijelom na njemu nalazi je _____.

1	
---	--

34. Država Jemen na istoku ima kopnenu granicu s državom čije je ime _____.

2	
---	--

35. Najrašireniji tip klime u Jugozapadnoj Aziji je _____ klima, a ona pripada skupini _____ klima.