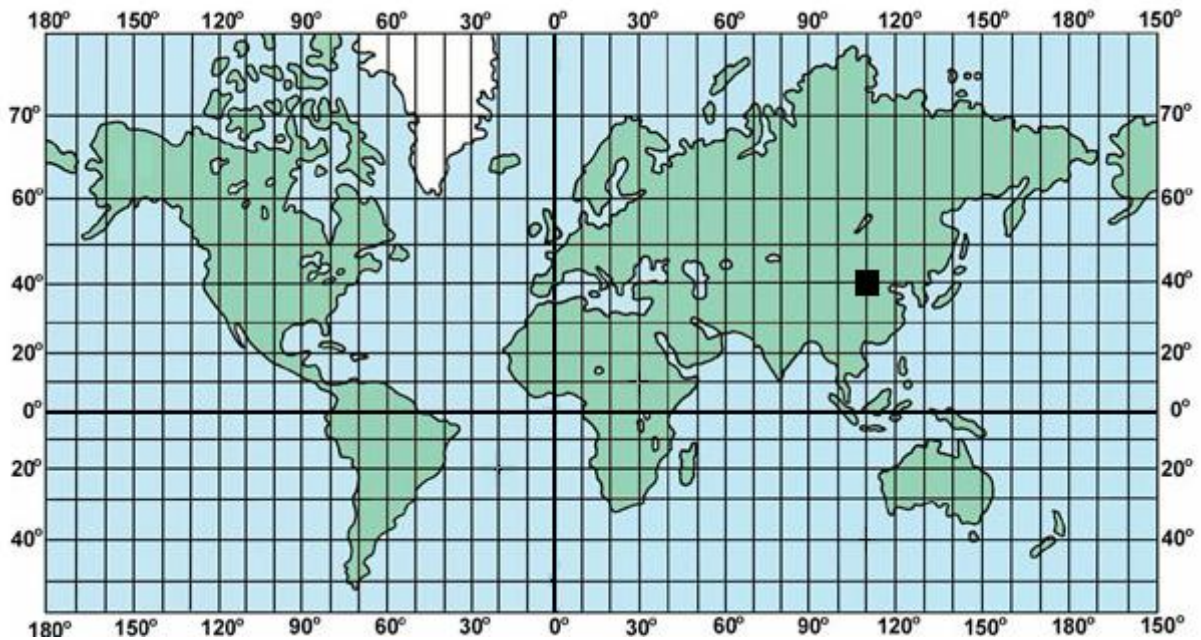


**ŠKOLSKO/OPĆINSKO NATJECANJE UČENIKA IZ GEOGRAFIJE 2009. GODINE
8. RAZRED**

Zaporka _____ Bodovi _____

SLJEDEĆA TRI PITANJA RIJEŠI UZ POMOĆ GEOGRAFSKE KARTE



2

1. Odredi geografske koordinate mjesta označenog kvadratićem na geografskoj karti:

Geografske koordinate su:

_____ ° _____ geografske širine i

_____ ° _____ geografske dužine.

2

2. Na priloženoj karti kružićem označi mjesto gdje se sijeku koordinate **60°** zapadne geografske dužine i **20°** južne geografske širine.

3

3. Na priloženoj geografskoj karti koordinate, **65°** sjeverne geografske širine i **20°** zapadne geografske dužine presijecaju otok _____.

U sljedeća dva zadatka samo je jedan odgovor točan. Zaokruži slovo ispred točnog odgovora.

2

4. Na kojem kontinentu sva mjesta imaju istočnu geografsku dužinu i južnu geografsku širinu: **a)** Južnoj Americi, **b)** Africi, **c)** Europi, **d)** Australiji

2

5. U civilnoj uporabi najrašireniji sustav za globalno pozicioniranje je:

a) GPS, **b)** SGP, **c)** GIS, **d)** PSG

2

6. Od četiri najčešća mjerila topografske karte (1 : 200 000, 1 : 100 000, 1 : 50 000, 1 : 25 000, **najveći** prostor prikazan je listom mjerila: 1 : _____.

3

7. Na karti mjerila **1 : 50 000** najkraća udaljenost između Supetra i Bola na otoku Braču je **24 cm**. Izračunaj kolika je to udaljenost u prirodi u kilometrima.

Prostor za računanje

Udaljenost u prirodi je _____ **km**.

2

8. Poveži desni stupac s lijevim upisivanjem slova na crtu ispred pojmova u lijevom stupcu. Jedno slovo je višak.

_____ kota

A – linija koje povezuju točke iste nadmorske visine

_____ izohipsa

B – najviša točka uzvišenja (točka izmjerene nadmorske visine)

_____ azimut

C – linija koje povezuju točke iste dubine

D - kut koji neki objekt ili smjer zatvara sa sjeverom

2

9. Slova ispred navedenih azimuta pridruži glavnim i sporednim stranama svijeta. Jedno je slovo višak.

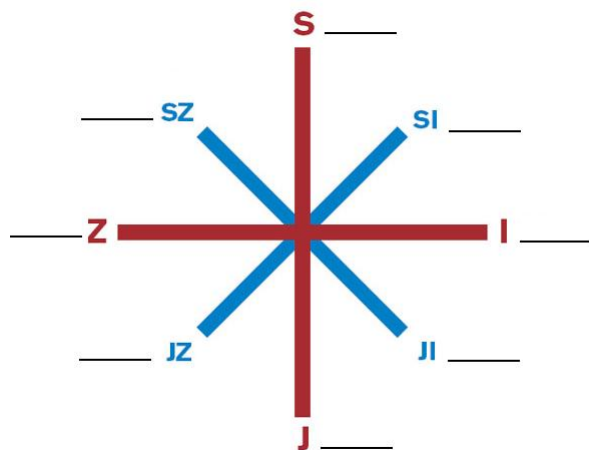
A - 180°

B - 225°

C - 45°

D - 245°

E - 315°



2

10. Navedene elemente pridruži matematičkim i geografskim elementima karte:

(**ekvidistanca, prometnice, granice, vegetacija, okvir lista, mjerilo**)

Matematički elementi _____

Geografski elementi _____

2

11. Zaokruži slovo ispred prometnog pravca koji povezuje mađarski glavni grad s hrvatskom lukom Ploče.

a) Pyhrnski, **b)** jadransko-jonski, **c)** posavski, **d)** slavonsko-bosansko-neretvanski

2

12. Zaokruži slovo ispred otoka na kome se nalazi zračna luka.

a) Brač, b) Rab, c) Korčula, d) Pag

3

13. Preko **riječne luke** u gradu _____, koja se nalazi na **rijeci** _____, Hrvatska se izravno uključuje u mrežu europskih plovnih riječnih putova.

3

14. **Obalno more** sastoji se od dviju cjelina. To su _____ i _____.

2

15. Poveži desni stupac s lijevim upisivanjem slova na crtu ispred pojmova u lijevom stupcu. Jedno slovo je višak. Poveži granične rijeke Hrvatske sa susjednim državama:

_____ Kupa

A – Slovenija

_____ Dunav

B – Bosna i Hercegovina

_____ Korana

C – Crna Gora

D – Srbija

Sljedećih pet pitanja riješi uz pomoć geografske karte

3

16. Brojeve s karte pridruži navedenim pojmovima:

Mala Kapela _____

Velika Kapela _____

Plješivica _____

3

17. Slova s karte pridruži navedenim pojmovima:

Žumberačko gorje _____

Medvednica _____

Ivanščica _____

2

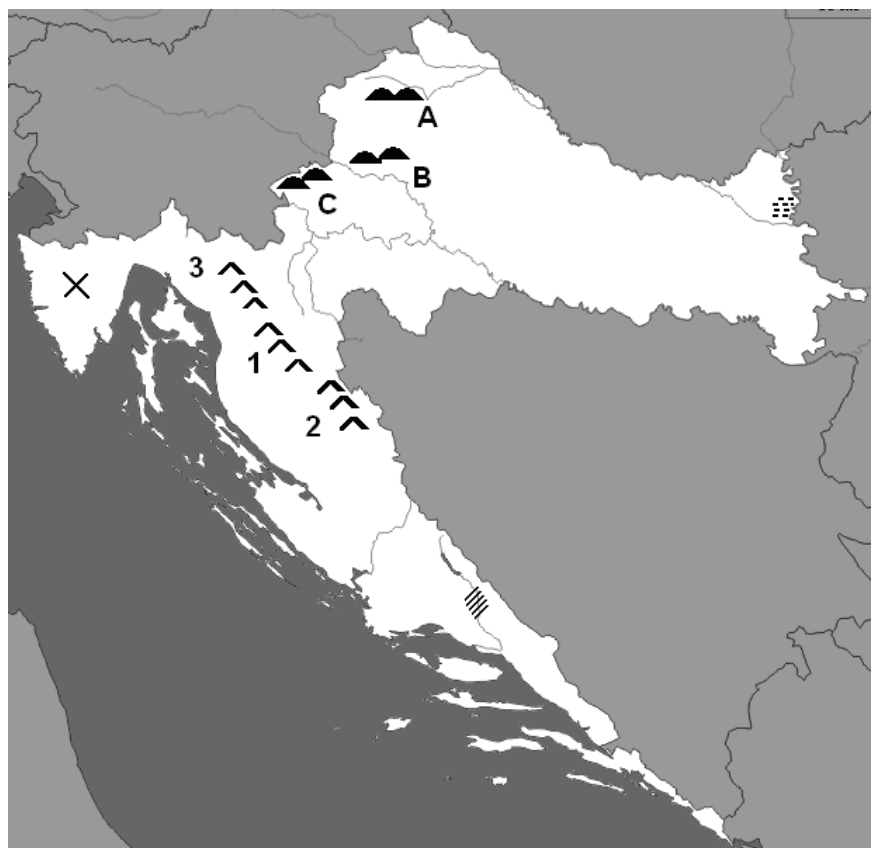
18. Znakom X označen je najveći hrvatski poluotok. To je poluotok: _____

2

19. Kosim crticama označeno je **krško polje** u Zagori. To je: _____ polje.

2

20. Vodoravnim crticama označen je **park prirode**. To je park prirode: _____.



- 2 21. Zaokruži slovo ispred točnog odgovora. Najveću insolaciju u Hrvatskoj ima:
a) Dalmacija, b) Gorski kotar, c) Lika, d) Istra

U sljedeća dva zadatka poveži lijevi stupac sa slovima i brojevima

- 3 22. Poveži regije s vegetacijom i tlom:
_____ Posavina A – makija 1 – prevladavaju aluvijalna tla
_____ Gorski kotar B – klekovina 2 – prevladava tlo crvenica
_____ Dalmacija C – hrast lužnjak 3 – prevladavaju podzolasta tla

- 3 23. Poveži navedena jezera s pripadajućim pojmovima:
_____ Plitvička jezera A - Korana 1 – akumulacijsko jezero
_____ Dubravsko jezero B – Cres 2 – skup 16 jezera
_____ Vransko jezero C – Drava 3 – kriptodepresija

- 2 24. Površinom najveće **prirodno** jezero Hrvatske je _____ jezero u Dalmaciji.

- 3 25. Na slici je _____, koja je pronađena na arheološkom nalazištu

_____ u blizini grada Vukovara.



- 2 26. Zaokruži slovo ispred točnog odgovora. Prvi popis stanovništva na području koje danas obuhvaća Republika Hrvatska bio je godine:
a) 1856. b) 1857. c) 1858. d) 1859.

- 3 27. Zaokruži slova, ispred **tri** hrvatske županije, čija je gustoća naseljenosti **manja** od hrvatskog prosjeka (**78 st/km²**).

a) Krapinsko-zagorska, b) Zadarska, c) Splitsko-dalmatinska,
d) Požeško-slavonska, e) Varaždinska, f) Šibensko-kninska

- 2 28. U sljedećem zadatku poveži desni stupac s lijevim upisivanjem slova na crtu ispred pojmova u lijevom stupcu. Jedno slovo je višak.

_____ depopulacija A – napuštanje sela kao mjesta stanovanja
_____ deagrarizacija B – proces smanjenja udjela starog stanovništva
_____ deruralizacija C – proces napuštanja poljoprivrede kao djelatnosti
D – smanjenje broja stanovnika u nekom području

- 2 29. Prirodni **pad** je prirodna promjena u kojoj je _____ **manja** od _____.

- 2 30. Glavni smjerovi **unutarnjih** preseljenja stanovništva Hrvatske odnose se na migracije: _____ (**upiši tipove naselja**).