

ŠKOLSKO/OPĆINSKO/GRADSKO NATJECANJE IZ GEOGRAFIJE 2012. GODINE

Razred ili kategorija natjecanja: **8. razred**

Zaporka

--	--	--	--	--

Broj postignutih bodova _____ / 70

Potpis članova Školskog povjerenstva

1. _____

2. _____

3. _____

Mjesto i nadnevak: _____

UPUTE UČENICIMA

Za rješavanje zadataka predviđeno je 60 minuta.

Test se rješava kemijskom olovkom s plavom tintom koja se ne briše. Uporaba obične olovke i crvene ili neke druge boje tinte (osim plave) rezultira diskvalifikacijom učenika.

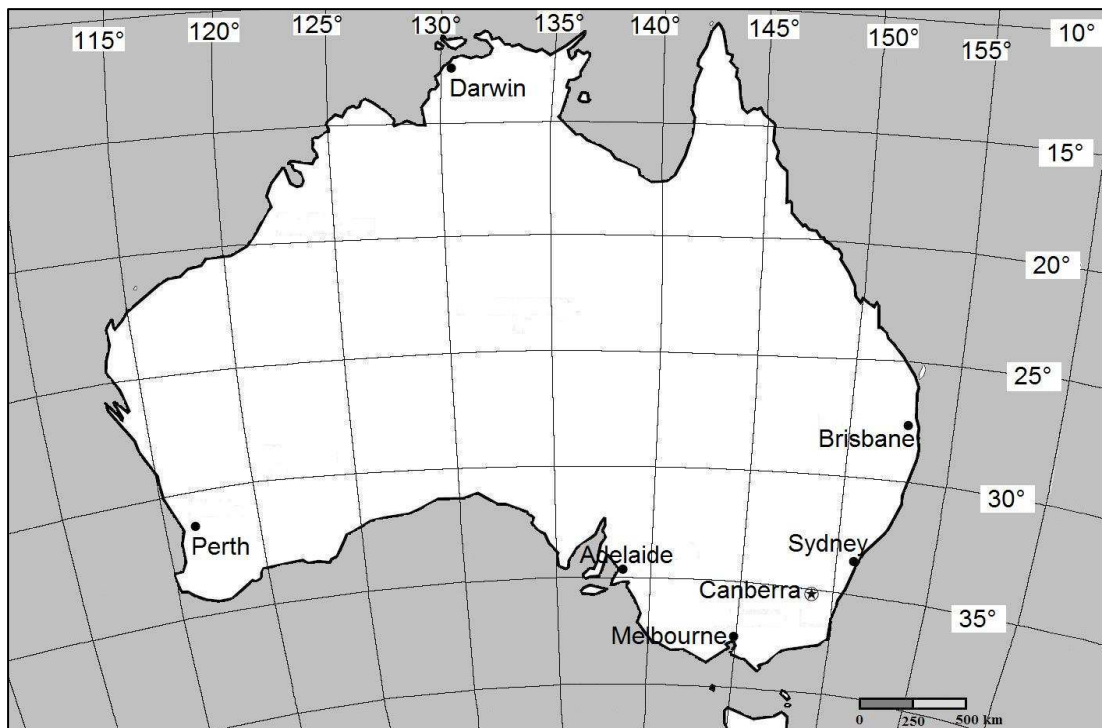
Pri rješavanju testa treba primijeniti jezičnu normu standardnoga hrvatskoga jezika, posebice treba poštivati pravopisna pravila o pisanju velikoga i maloga početnoga slova geografskih imena. Geografska imena čije je podrijetlo iz drugih (stranih) jezika moraju biti napisana u izvornom obliku (transkribirana na latinicu), npr. New York, Stuttgart, Loire...

Odgovori učenika moraju biti čitljivo napisani pisanim slovima (osim u zadacima u kojima je odgovor jedno slovo).

Za vrijeme testiranja ne smije se koristiti ništa osim navedenoga pribora za pisanje. Ova odredba podrazumijeva da natjecatelji ne smiju kod sebe (na sebi, ispod, u svojoj odjeći i slično) imati predmete koji na bilo koji način mogu dovesti u sumnju pravilno provođenje natjecanja. Učenici se ne smiju služiti atlasom, zidnom kartom ni računalom. Kartografski i grafički prilozi nužni za rješavanje zadataka sastavni su dio testa.

Potpuno ispravno riješeni zadaci, prema uputi za rješavanje vrednuju se s jednim, dva ili tri boda. U djelomično ispravno riješenim zadacima boduju se ispravno riješene čestice, ako u njima nije bilo korekcije odgovora. Netočno riješeni zadaci i naknadno ispravljeni odgovori te odgovori koji su pisani tiskanim slovima ili kombinacijom tiskanih i pisanih slova ne vrednuju se.

OVAJ ZADATAK RIJEŠI UZ POMOĆ PRILOŽENE KARTE AUSTRALIJE.



2 1. Odredi na kojim se geografskim koordinatama nalaze gradovi Sydney i Melbourne.

- **Sydney:** _____ ° _____ geografske širine.
_____ ° _____ geografske dužine.
- **Melbourne:** _____ ° _____ geografske širine.
_____ ° _____ geografske dužine.

U SVAKOM OD SLJEDEĆIH ŠEST ZADATAKA DVA SU ODGOVORA TOČNA. ZAOKRUŽI SLOVA ISPRED TOČNIH ODGOVORA.

2 2. Među navedenim geografskim koordinatama, na teritoriju Australije se nalaze:

- a) 17° SGŠ, 130° IGD b) 16° JGŠ, 118° ZGD
c) 26° JGŠ, 139° IGD d) 38° JGŠ, 122° IGD e) 19° JGŠ, 124° IGD

2 3. Među navedenima, matematički elementi topografske karte su:

- a) mjerilo b) reljef c) kartografska projekcija d) biljni pokrov e) prometnice

2 4. Među navedenima, granične rijeke Hrvatske prema Sloveniji su:

- a) Dobra b) Mrežnica c) Korana d) Dragonja e) Sutla

2 5. Među navedenima, uzvisine koje su dio okruženja Požeške kotline su:

- a) Bilogora b) Dilj c) Moslavačka gora d) Krndija e) Zrinska gora

2 6. Među navedenim pojmovima, klimatski čimbenici koji utječu na klimatska obilježja Hrvatske su:

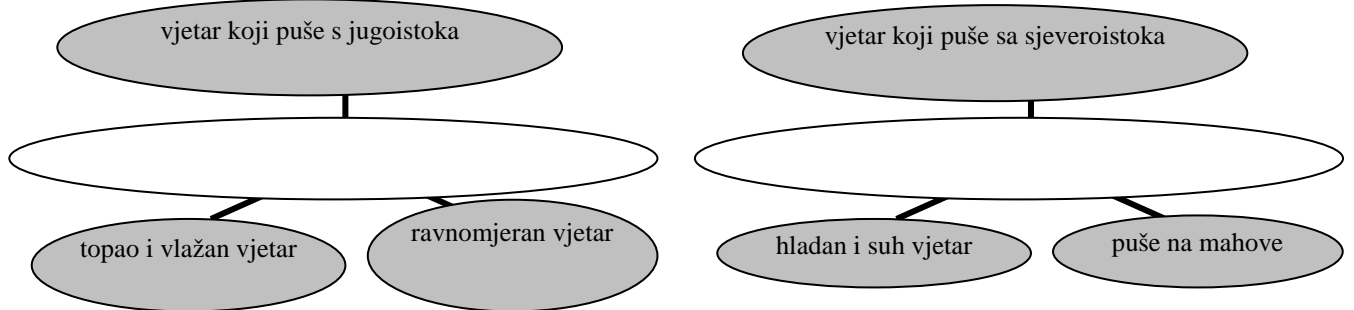
- a) padaline b) maritimnost c) geografska širina d) temperatura zraka e) tlak zraka

2 7. Među navedenim rijekama, ponornice su:

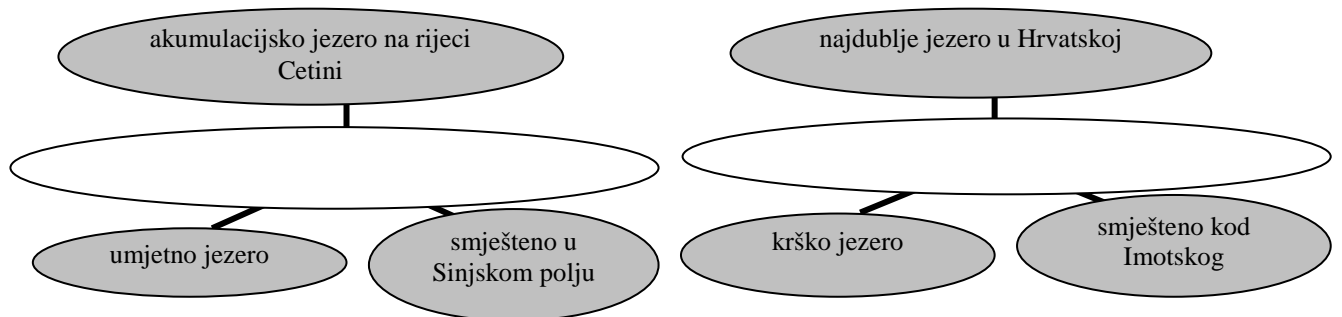
- a) Korana b) Dobra c) Una d) Zrmanja e) Krkava

SLJEDEĆA DVA ZADATKA RIJEŠI UPISIVANJEM TRAŽENIH POJMOVA U PRAZNO POLJE ORGANIZACIJSKOG DIJAGRAMA.

2 8. U prazno polje upiši ime vjetra koje odgovara svim obilježjima navedenim u sivim poljima.



2 9. U prazno polje upiši ime jezera koje odgovara svim obilježjima navedenim u sivim poljima.



U SLJEDEĆIH PET ZADATKA POVEŽI PAROVE UPISIVANJEM SLOVA NA CRTU ISPRED PONUĐENIH ODGOVORA. TRI CRTE MORAJU OSTATI PRAZNE.

2 10. Navedene događaje važne za hrvatsku državnost poveži s njihovim nadnevcima.

A) *Dan neovisnosti*

B) *RH primljena u Ujedinjene narode*

___ 22. 12.1990. ___ 25.6.1991. ___ 8.10.1991. ___ 15.1.1992. ___ 22.5.1992.

2 11. Navedena obilježja krajnjih točaka Hrvatske poveži s područjima Hrvatske u kojima se nalaze.

A) *Najzapadnija točka Hrvatske*

B) *Najistočnija točka Hrvatske*

___ Sv. Martin na Muri ___ rt Oštra ___ rt Lako ___ Galijula ___ Ilok

2 12. Navedene opise lokacija poveži s odgovarajućim primjerima močvara.

A) *Nalazi se u Pokuplju*

B) *Nalazi se na sutoku Drave i Dunava*

___ Lonjsko polje ___ Jelas polje ___ Kopački rit ___ Crnac polje ___ Crna Mlaka

2 13. Navedena objašnjenja biljnih vrsta poveži s njihovim nazivima.

A) *Tipična zimzelena biljna vrsta sredozemnog podneblja očuvana na većim površinama samo na Braču, Hvaru i Pelješcu*

B) *Izvorna biljna vrsta sredozemne klime očuvana na većim površinama samo na Rabu i Mljetu*

___ hrast crnika ___ hrast medunac ___ bijeli grab ___ čempres ___ dalmatinski crni bor

2 14. Navedena objašnjenja tipova tala poveži s njihovom nazivima.

A) Tla nastala taloženjem riječnih nanosa

B) Slabo plodna tla pepeljaste boje

_____ aluvijalna tla _____ podzoli _____
crvenica _____ smeđa tla _____ crnica

**SLJEDEĆA ČETIRI ZADATKA RIJEŠI
ANALIZOM PRILOŽENOG KARTOGRAFSKOG
PRIKAZA.**

2 15. Nadmorska visina izohipse najveće visine iznosi _____, a nadmorska visina izohipse označene upitnikom iznosi _____.

1 16. Ekvidistanca na priloženoj karti iznosi _____.

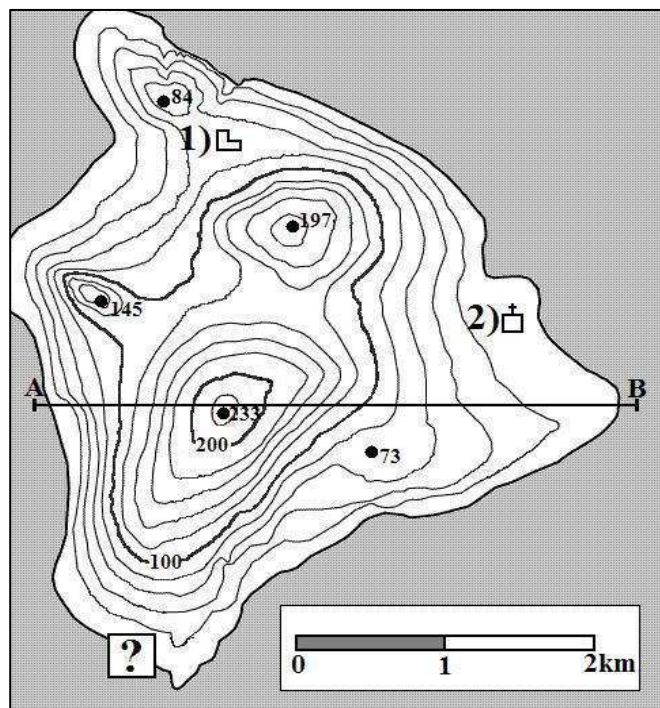
2 17. Na karti su brojevima označena dva topografska znaka. Na linije uz brojeve upiši njihovo značenje.

1) _____

2) _____

1 18. Linija profila A-B na karti je duga 8 cm, a u prirodi 4 km. Izračunaj mjerilo u kojem je izrađen kartografski prikaz.

Karta je izrađena u mjerilu _____.



Prostor za računanje

U SLJEDEĆA TRI ZADATKA DOPUNI REČENICE.

2 19. Sva naselja u Republici Hrvatskoj imaju _____ geografsku širinu i _____ geografsku dužinu.

20. Na linije u tekstu hrvatske himne upiši stihove koji nedostaju.

3
*Lijepa naša domovino,
Oj junačka zemljo mila,
Stare slave djedovino,
da bi vazda sretna bila!*

*Mila, kano si nam slavna,
Mila si nam ti jedina.
Mila, _____,
Mila, kuda si planina!*

*Teci Dravo, Savo teci,
Nit' ti Dunav silu gubi,*

*Dok mu njive sunce grije,
_____*

Da svoj narod Hrvat ljubi.

*Dok mu mrtve grobak krije,
Dok mu živo srce bije!*

3

21. Morski prostor širok 12 morskih milja koji se pruža od unutarnjeg mora prema pučini naziva se _____. Zajedno s unutarnjim morem čini dio državnog teritorija površine 31 067 km² koji se naziva _____. Dio Jadranskog mora u kojem vrijede međunarodni pomorski zakoni, a podijeljen je prema načelu crte sredine između Hrvatske i Italije naziva se _____.

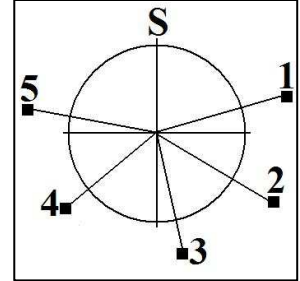
SLJEDEĆA TRI ZADATKA RIJEŠI UZ POMOĆ PRILOŽENOG CRTEŽA I FOTOGRAFIJA.

2

22. Na linije uz navedene azimute upiši broj s priloženog crteža koji odgovara navedenom azimutu.

229° - _____

124° - _____



2

23. Na linije ispod fotografija upiši naziv kulturno-civilizacijskog kruga čiji je utjecaj vidljiv u stilu gradnje.



2

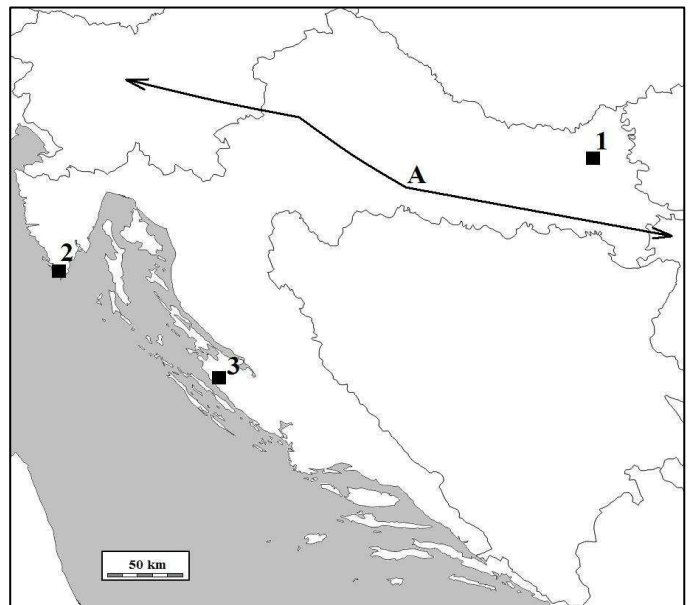
24. Na linije ispod fotografija upiši naziv prikazanog krškog reljefnog oblika.



SLJEDEĆA DVA ZADATKA RIJEŠI UZ POMOĆ PRILOŽENE KARTE REPUBLIKE HRVATSKE.

3

25. Na karti su brojevima označene zračne luke. Brojem 1 označena je zračna luka _____, brojem 2 _____, brojem 3 _____.



a brojem 3 _____.

- 1** **26.** Prometni pravac označen strjelicom i slovom A na priloženoj karti naziva se _____ prometni pravac.

SLJEDEĆA TRI ZADATKA RIJEŠI UZ POMOĆ PRILOŽENE KARTE PANONSKE HRVATSKE.

- 1** **27.** Ime države označene slovom A na karti je _____.

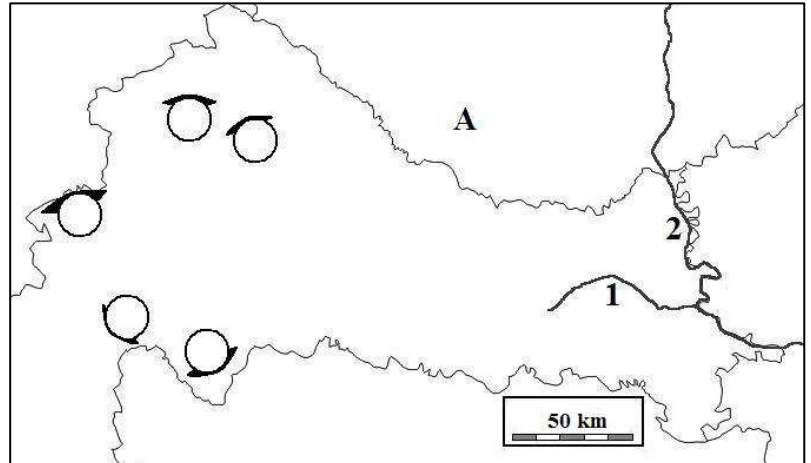
- 2** **28.** Ime rijeke označene brojem 1 je _____, a brojem 2 je _____.

- 3** **29.** U odgovarajuće kružice na karti upiši navedena slova za sljedeća uzvišenja (dva kružića su višak):

I - Ivanščica

P - Petrova gora

Ž - Žumberačko gorje



SLJEDEĆA TRI ZADATKA RIJEŠI UZ POMOĆ PRILOŽENE KARTE GORSKE HRVATSKE I DIJELA PRIMORSKE HRVATSKE.

- 1** **30.** Ime države označene slovom A na karti je _____.

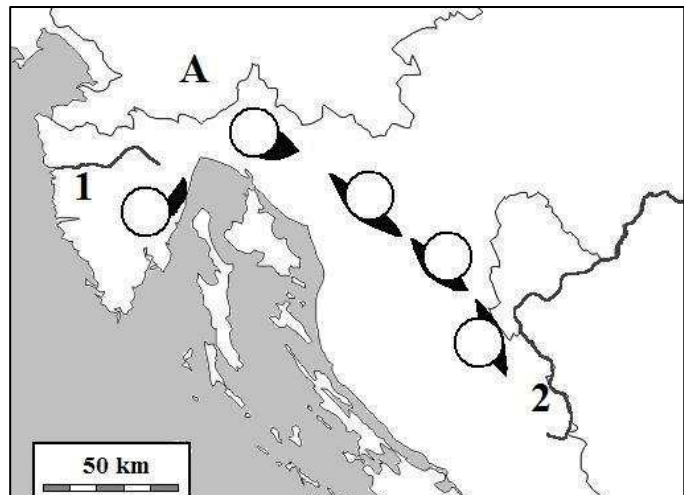
- 2** **31.** Ime rijeke označene brojem 1 je _____, a brojem 2 je _____.

- 3** **32.** U odgovarajuće kružice na karti upiši navedena slova za sljedeća uzvišenja (dva kružića su višak):

V - Velika Kapela

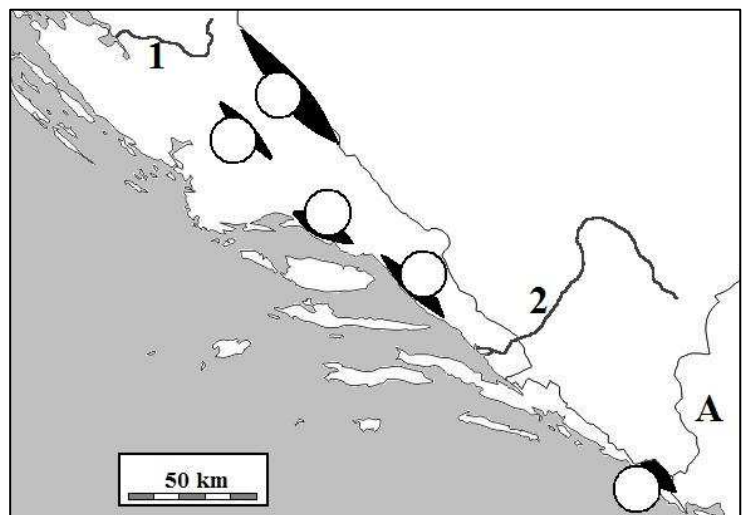
P - Plješivica

U - Učka



SLJEDEĆA TRI ZADATKA RIJEŠI UZ POMOĆ PRILOŽENE KARTE DIJELA PRIMORSKE HRVATSKE.

- 1** **33.** Ime države označene slovom A na karti je _____.



2	
---	--

34. Ime rijeke označene brojem 1 je

_____ , a

brojem 2 je _____.

3	
---	--

35. U odgovarajuće kružiće na karti upiši

navedena slova za sljedeća uzvišenja

(dva kružića su višak):

B - Biokovo

S - Svilaja

D - Dinara