

ŠKOLSKO NATJECANJE UČENIKA IZ GEOGRAFIJE 2007. GODINE  
8. RAZRED

Zaporka \_\_\_\_\_ Bodovi \_\_\_\_\_

2

1. Azimut jugozapada iznosi \_\_\_\_\_, a sjevera \_\_\_\_\_ stupnjeva.

2


2. Odredite geografsku širinu i dužinu grada New Orleansa koji je na karti obilježen točkom.


\_\_\_\_\_° \_\_\_\_\_ geografske širine


\_\_\_\_\_° \_\_\_\_\_ geografske dužine

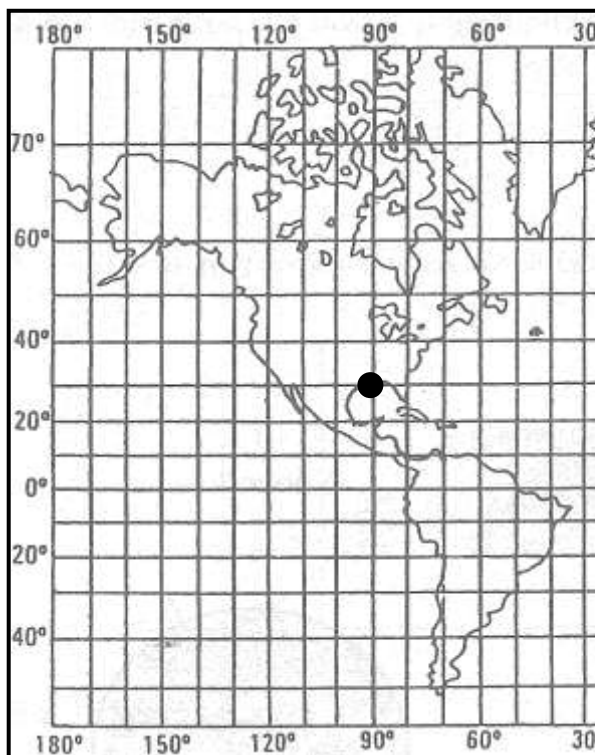
2

3. Pored topografskih znakova upišite njihovo značenje!

a)  \_\_\_\_\_

b)  \_\_\_\_\_

c)  \_\_\_\_\_



SLJEDEĆE ZADATKE RIJEŠITE NA KARTI HRVATSKIH ŽUPANIJA

2

4. Upišite broj 1 na Istarsku županiju.

2

5. Upišite broj 2 na Požeško-slavonsku županiju.

3

6. Obilježite brojem 3 županiju u kojoj je najviši vrh Hrvatske.

Kako se zove planina na kojoj se nalazi taj vrh?

\_\_\_\_\_

3

7. Obilježite brojem 4 županiju u kojoj se nalazi najveća hrvatska teretna morska luka. Luka je u gradu \_\_\_\_\_.

2

8. Prometno značajan prostor koji čini poveznicu između primorske i nizinske Hrvatske, a na karti je označen krugom naziva se \_\_\_\_\_



3

9. Pored regionalnih središta upišite imena makroregija u kojima se nalaze.

- a) Karlovac - \_\_\_\_\_ makroregija  
b) Pula - \_\_\_\_\_ makroregija  
d) Slavonski Brod - \_\_\_\_\_ makroregija  
e) Dubrovnik - \_\_\_\_\_ makroregija

2

10. Među navedenim prometnim pravcima zaokružite ona dva koje ubrajamo u poprečne pravce.

- a) Jadransko-jonski (jadranski) c) Posavski  
b) Pyhrnski d) Osijek - Sarajevo - Ploče

3

11. Među državama s kojima graniči Hrvatska zaokružite slova ispred onih koje su članice Europske unije.

- a) Srbija d) Crna Gora  
b) Mađarska e) Bosna i Hercegovina  
c) Slovenija

2

12. Kako se zove dio hrvatskog obalnog mora najbliži Italiji?

- a) unutrašnje more b) teritorijalno more c) slobodno more

3

13. Zaokružite slova ispred reljefnih oblika koji ne pripadaju krškom reljefu primorske i gorske Hrvatske.

- a) Ličko polje d) Cerovačke pećine  
b) Jelas-polje e) Đurđevački pijesci  
c) Lukina jama f) Hajdučki kukovi

2

14. Zaokružite slovo ispred planine koja se ne nalazi na granici Republike Hrvatske.

- a) Dinara c) Plješivica  
b) Kamešnica d) Svilaja

2

15. Zaokružite slovo ispred najzapadnijeg makroregionalnog središta.

- a) Split c) Zagreb  
b) Rijeka d) Osijek

2

16. Navedenim procesima pridružite slova ispred njihovih opisa.

- depopulacija \_\_\_\_\_ a) smanjenje broja stanovnika  
• senilizacija \_\_\_\_\_ b) starenje stanovništva

2

17. Koje je godine Hrvatska primljena u članstvo Ujedinjenih naroda, kao 178. država članica?

\_\_\_\_\_

2

18. U dijelu teksta himne Republike Hrvatske upišite riječi koje nedostaju.

*Teci \_\_\_\_\_, \_\_\_\_\_ teci,*

*Nit' ti \_\_\_\_\_ silu gubi.*

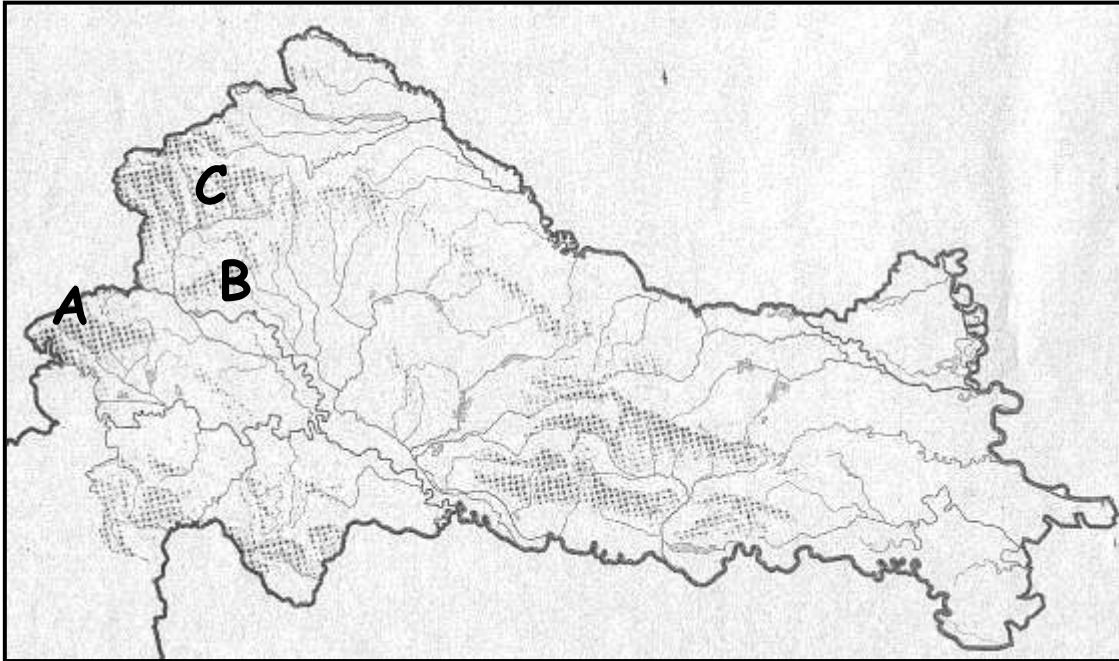
*Sinje more svijetu reci,*

*Da svoj narod Hrvat ljubi.*

2

19. Vapnenac, najzastupljenija stijena u gorskoj i primorskoj Hrvatskoj, prema načinu postanka je \_\_\_\_\_ stijena.

SLJEDEĆE ZADATKE RIJEŠITE NA KARTI NIZINSKE HRVATSKE



3

20. Tok rijeke Bednje obilježite brojem 1, a tok Bosuta brojem 2.

3

21. Tri gore nizinske Hrvatske više od 1000 metara obilježene su slovima. Pored slova upišite njihove nazive.

A) \_\_\_\_\_

B) \_\_\_\_\_

C) \_\_\_\_\_

3

22. Kosim crtama obilježite prostor Baranje. Tu regiju s juga omeđuje rijeka \_\_\_\_\_.

2

23. Nabrojite tri kulturno-civilizacijska kruga koja su utjecala i utječu na prostor Hrvatske?

- \_\_\_\_\_
- \_\_\_\_\_
- \_\_\_\_\_

2

24. Najbrojnija vjerska skupina u Hrvatskoj su rimokatolici. Koje dvije religijske zajednice, nakon rimokatoličke, imaju najveći broj pripadnika?

- \_\_\_\_\_
- \_\_\_\_\_

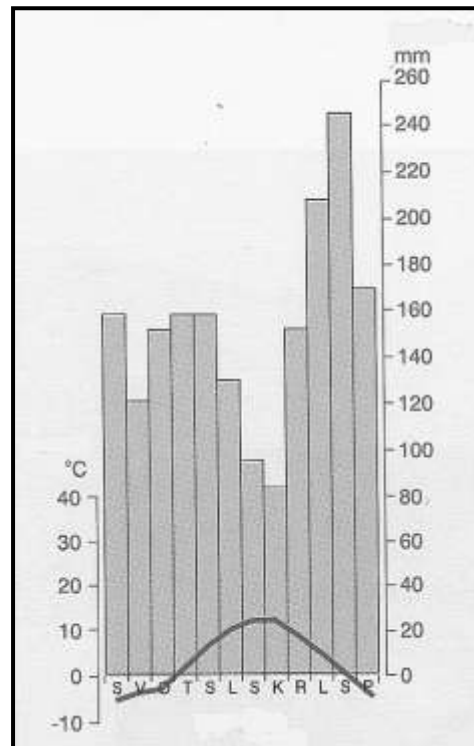
SLJEDEĆE ZADATKE RIJEŠITE UZ POMOĆ KLIMATSKOG DIJAGRAMA

3

25. Mjesec s najvećom količinom padalina je \_\_\_\_\_, a s najmanjom \_\_\_\_\_.

Razlika u količini padalina ta dva mjeseca iznosi \_\_\_\_\_ mm.

PROSTOR ZA RAČUNANJE



2

26. Za koji tip klime u Hrvatskoj su karakteristične prosječne temperature i količine padalina prikazane na klimatskom dijagramu?

\_\_\_\_\_

3

27. U najvišim dijelovima Hrvatske nailazimo na površine pod tlama \_\_\_\_\_ crnice, a na polojima \_\_\_\_\_ crnice.

2

28. Moliški Hrvati žive u \_\_\_\_\_. (Na praznu liniju upišite ime države!)

2

29. Dobno-spolna piramida Hrvatske izrađena prema rezultatima popisa stanovništva 2001. godine ima suženu bazu (donji dio). To ukazuje na smanjeni udio \_\_\_\_\_ stanovništva. (Na praznu liniju upišite naziv dobne skupine!)

2

30. Na grafikonu prikažite približan udio zaposlenih po sektorima prema rezultatima popisa stanovništva 2001. godine. Sektore obilježite rimskim brojevima I, II i III

- a) primarni 10 %
- b) sekundarni 30 %
- c) tercijarni 60 %

