

**ŠKOLSKO/OPĆINSKO/GRADSKO NATJECANJE IZ GEOGRAFIJE
2016. GODINE**

Razred ili kategorija natjecanja:

6. razred

Zaporka

--	--	--	--	--

Broj postignutih bodova ____ / 70

Potpis članova Školskog povjerenstva

1. _____

2. _____

3. _____

Mjesto i nadnevak: _____

Za rješavanje zadataka predviđeno je 60 minuta.

Ispit se rješava kemijskom olovkom s plavom tintom koja se ne briše. Uporaba obične olovke i crvene ili neke druge boje tinte (osim plave) rezultira diskvalifikacijom učenika.

Pri rješavanju ispita treba primijeniti jezičnu normu standardnoga hrvatskoga jezika, posebice treba poštivati pravopisna pravila o pisanju velikoga i maloga početnog slova geografskih imena. Za pisanje geografskih imena u ispitima i praktičnim radovima primjenjuje se Hrvatski pravopis Instituta za hrvatski jezik i jezikoslovlje (2013.).

Odgovori učenika moraju biti čitljivo napisani pisanim slovima, jedino u zadacima u kojima je odgovor jedno slovo dopuštena je uporaba čitljivo napisanog velikog tiskanog slova.

Za vrijeme pisanja ispita ne smije se koristiti ništa osim navedenoga pribora za pisanje. Ova odredba podrazumijeva da natjecatelji ne smiju kod sebe (na sebi, ispod, u svojoj odjeći i slično) imati predmete koji na bilo koji način mogu dovesti u sumnju pravilno provođenje natjecanja. Učenici se ne smiju služiti atlasom, zidnom kartom ni računalom. Kartografski i grafički prilozi nužni za rješavanje zadataka sastavni su dio ispita.

Učenicima se dopušta pisanje po marginama i praznim stranicama ispitnog materijala bez oduzimanja bodova i/ili diskvalifikacije.

Potpuno ispravno riješeni zadatci, prema uputi za rješavanje vrednuju se s jednim, dva ili tri boda. U djelomično ispravno riješenim zadacima boduju se ispravno riješene čestice, ako nije bilo korekcije odgovora u tim česticama. Netočno riješeni zadatci i naknadno ispravljeni odgovori te odgovori koji su pisani velikim tiskanim slovima ili kombinacijom tiskanih i pisanih slova, kao i odgovori u zagradama ne vrednuju se.

U PRVA TRI ZADATKA JEDAN JE ODGOVOR TOČAN. ZAOKRUŽI SLOVO ISPRED TOČNOG ODGOVORA.

1 **1.** Koja je od navedenih država Europe članica Europske unije?

- a) Island b) Mađarska c) Norveška d) Švicarska

1 **2.** Na kojem od navedenih kontinenta većina stanovništva govori engleski kao službeni jezik?

- a) Južna Amerika b) Australija c) Europa d) Afrika

1 **3.** Kojoj od navedenih vjera pripada najveći broj stanovnika Šri Lanke?

- a) hinduizam b) islam c) budizam d) kršćanstvo

U SLJEDEĆA TRI ZADATKA POVEŽI POJMOVE UPISIVANJEM SAMO JEDNOG SLOVA IZ DESNOG STUPCA NA CRTE ISPRED POJMOVA U LIJEVOM STUPCU. DVA SE POJMA IZ DESNOG STUPCA NE MOGU POVEZATI.

3 **4.** Poveži opis s pripadajućim imenom grada.

- | | |
|--|--------------|
| ___ glavni grad najvećeg proizvođača nafte | A) Istanbul |
| ___ Jugozapadne Azije | B) Rijad |
| ___ sveti grad kršćana, židova i muslimana | C) Jeruzalem |
| ___ grad na dva kontinenta | D) Bagdad |
| | E) Meka |

3 **5.** Poveži ime grada s pripadajućim tipom klime.

- | | |
|--------------|--------------------------|
| ___ Urumchi | A) vlažna snježno-šumska |
| ___ Istanbul | B) klima tundre |
| ___ Kolkata | C) savanska |
| | D) sredozemna |
| | E) pustinjska |

3 **6.** Poveži ime reljefne cjeline s pripadajućim reljefnim oblikom.

- | | |
|-------------------|------------------------------|
| ___ Dekan | A) nizina Južne Azije |
| ___ Altaj | B) staro gromadno gorje |
| ___ Iransko gorje | C) visoravan Središnje Azije |
| | D) mlado ulančano gorje |
| | E) prastari štit |

U SVAKOM OD SLJEDEĆA ČETIRI ZADATKA DVA SU TOČNA ODGOVORA. ZAKRUŽI SLOVA ISPRED TOČNIH ODGOVORA.

- 2 7. Koje od navedenih država Azije pripadaju tzv. "Azijskim tigrovima"?
- a) Kina b) Tajland c) Tajvan d) Singapur e) Indonezija
- 2 8. Koje su od navedenih država Azije najveće izvoznice nafte posljednjih pet godina?
- a) UAE b) Iran c) Saudijska Arabija d) Ruska Federacija e) Irak
- 2 9. Koje od navedenih djelatnosti pripadaju sekundarnoj skupini djelatnosti?
- a) graditeljstvo b) promet c) trgovina d) industrija e) znanost
- 2 10. Na kojim od navedenih kontinenata živi najveći broj mestika?
- a) Afrika b) Azija c) Australija d) Europa e) Južna Amerika

U SLJEDEĆIH PET ZADATAKA POVEŽI PAROVE UPISIVANJEM SLOVA NA CRTU ISPRED PONUĐENIH ODGOVORA. TRI CRTE MORAJU OSTATI PRAZNE.

- 2 11. Prikazane vjerske simbole poveži s odgovarajućom religijom.

A)



B)



_____ islam _____ budizam _____ hinduizam _____ židovstvo _____ kršćanstvo

- 2 12. Navedene japanske otoke poveži s gradom koji se na njemu nalazi.

A) Kyushu

B) Hokkaido

_____ Hiroshima _____ Osaka _____ Sapporo _____ Nagasaki _____ Yokohama

- 2 13. Navedene međunarodne organizacije poveži s pripadajućim sjedištem.

A) UN

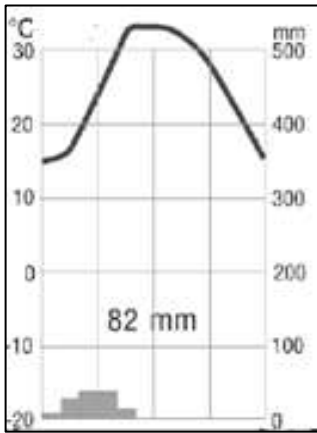
B) NATO

_____ Ženeva _____ Pariz _____ New York _____ Bruxelles _____ London

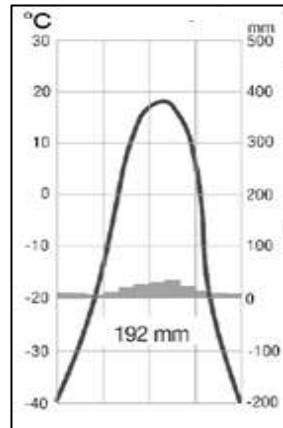
2

14. Priložene klimatske dijagrame poveži s pripadajućim gradom.

A)



B)



___ Singapore ___ Rijad ___ Tokio ___ Jakutsk ___ Shanghai

2

15. Navedene vrhove poveži s pripadajućom reljefnom uzvisinom.

A) Elbrus

B) Narodnaja

___ Kavkaz ___ Altaj ___ Ural ___ Hindukuš ___ Toros

SLJEDEĆIH PET ZADATAKA RIJEŠI UZ POMOĆ PRILOŽENE GEOGRAFSKE KARTE JAPANA.

3

16. Na crte iza brojeva 1, 2 i 3 upiši imena litosfernih ploča označenih na geografskoj karti istim brojevima.

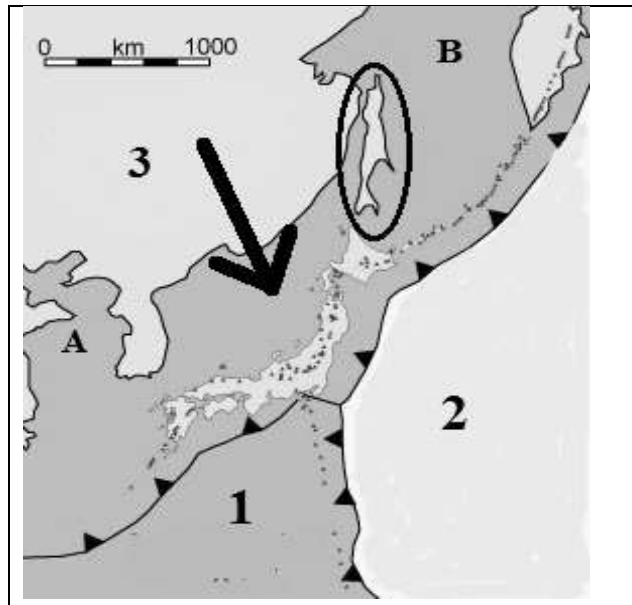
1 _____

2 _____

3 _____

1

17. Ime otoka koji je zaokružen na geografskoj karti je _____.



2

18. Ime mora koje je na geografskoj karti označeno slovom A je _____,

a ime mora označenog slovom B je _____.

U SVAKOM OD SLJEDEĆA DVA ZADATKA DOPUNI REČENICE I U PAROVIMA POJMOVA KOJI SU PODEBLJANI I ODVOJENI KOSIM CRTAMA U CIJELOSTI ZAOKRUŽI ONE POJMOVE KOJI SU TOČNI.

1 **19.** Japansko otočje je dio pacifičkoga vatrenoga prstena, te je nastalo kao posljedica **podvlačenja / smicanja** (zaokruži točan pojam) litosfernih ploča.

2 **20.** Strelica na geografskoj karti pokazuje smjer puhanja vjetra koji se zove _____, a taj vjetar Japanu **donosi / ne donosi** (zaokruži točan pojam) padaline.

U SLJEDEĆIH ŠEST ZADATAKA DOPUNI REČENICE.

2 **21.** Najveći otok Azije je _____ (upiši ime otoka), a najmanji dio površine tog otoka politički pripada državi _____ (upiši ime države).

2 **22.** Površinom najveća hladna pustinja Azije je _____ (upiši ime pustinje), a površinom najveća vruća pustinja Azije je _____ (upiši ime pustinje).

2 **23.** Postupak uklanjanja ili smanjenja količine minerala iz morske vode naziva se _____, a umjetan uzgoj morskih organizama radi dobivanja hrane naziva se _____.

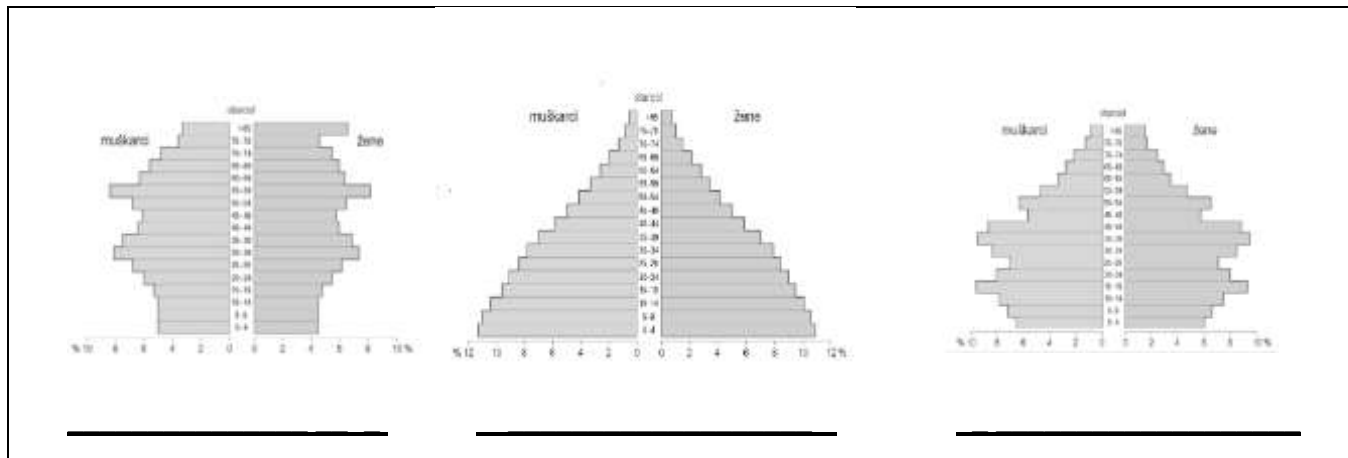
2 **24.** Visok i snažan potresni val koji nastaje kao posljedica potresa u podmorju zove se _____, a tropski ciklon koji uzrokuje velike štete u Japanu zovu se _____.

2 **25.** Među pojedinim državama svijeta velike su razlike u razvijenosti. U odnosu na ekvator najveći broj visokorazvijenih država je na _____ polutki. U slabije razvijenim državama najviše je zaposlenih u _____ (upiši naziv skupine) djelatnostima.

2 **26.** Ime jedine države u Aziji u kojoj prevladavaju katolici je _____, a ime njenog glavnog grada je _____.

SLJEDEĆA DVA ZADATKA RIJEŠI UZ POMOĆ PRILOŽENIH CRTEŽA.

2 **27.** Na crtu ispod odgovarajućeg dijagrama dobno-polne strukture stanovništva upiši imena država **Japan** i **Indija**. Jedna crta mora ostati prazna.



2 **28.** Ime grada u kojem se nalazi građevina prikazana na slici je _____, a puno ime države u kojoj se nalazi taj grad je _____.



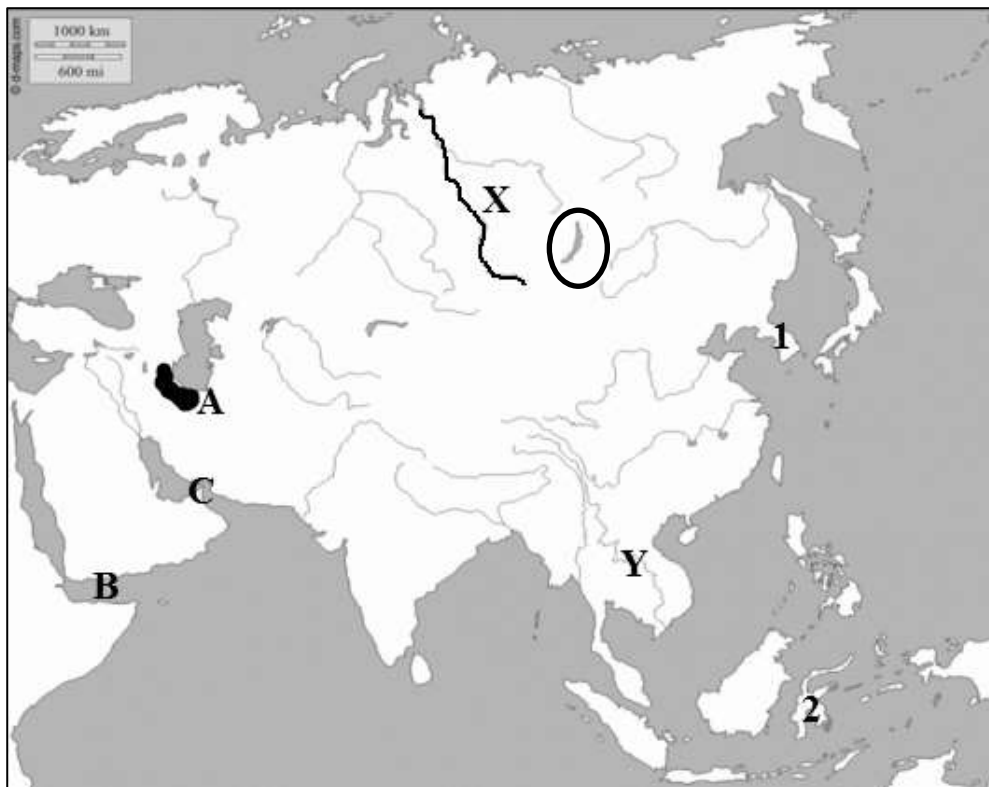
SLJEDEĆA DVA ZADATKA RIJEŠI UZ POMOĆ GEOGRAFSKE KARTE ARALSKOG JEZERA.

2 **29.** Aralским jezerom prolazi granica između dviju država. Ime države označene na geografskoj karti slovom **A** je _____, a ime države označene na geografskoj karti slovom **B** je _____.

1 **30.** Ime rijeke koja je na geografskoj karti podebljana i označena brojem **1** je _____.



SLJEDEĆIH PET ZADATAKA RIJEŠI UZ POMOĆ GEOGRAFSKE KARTE AZIJE.



3 31. Ime poluotoka označenog na geografskoj karti brojem 1 je _____ . Puni naziv države na sjevernom dijelu tog poluotoka je _____ . Ime otoka označenog na geografskoj karti brojem 2 je _____ .

3 32. Ime rijeke koja je na geografskoj karti označena podebljano i slovom X je _____ , ime zaljeva označenog slovom B je _____ , a ime morskog prolaza označenog slovom C je _____ .

2 33. Ime poluotoka označenog na geografskoj karti slovom Y je _____ , a ime jedine države koja na tom poluotoku nema izlaz na more je _____ .

U SVAKOM OD SLJEDEĆA DVA ZADATKA DOPUNI REČENICE I U PAROVIMA POJMOVA KOJI SU PODEBLJANI I ODVOJENI KOSIM CRTAMA U CIJELOSTI ZAOKRUŽI ONE POJMOVE KOJI SU TOČNI.

2 34. Ime planine koja je na geografskoj karti označena zatamnjeno i slovom A je _____ , a po svojoj geološkoj starosti dio je **stare / mlade** Azije.

2 35. Ime prirodnog jezera zaokruženo na geografskoj karti je _____ , a udubljenje u kojem je nastalo **vulkanskog / tektonskog** je postanka.