

**ŠKOLSKO/OPĆINSKO/GRADSKO NATJECANJE IZ GEOGRAFIJE
2017. GODINE**

Razred ili kategorija natjecanja: **6. razred**

Zaporka

--	--	--	--	--

Broj postignutih bodova ____ / 70

Potpis članova Školskog povjerenstva

1. _____

2. _____

3. _____

Mjesto i nadnevak: _____

Za rješavanje zadataka predviđeno je 60 minuta.

Ispit se rješava kemijskom olovkom s plavom tintom koja se ne briše. Uporaba obične olovke i crvene ili neke druge boje tinte (osim plave) rezultira diskvalifikacijom učenika.

Pri rješavanju ispita treba primijeniti jezičnu normu standardnoga hrvatskoga jezika, posebice treba poštivati pravopisna pravila o pisanju velikoga i maloga početnog slova geografskih imena. Za pisanje geografskih imena u ispitima i praktičnim radovima primjenjuje se Hrvatski pravopis Instituta za hrvatski jezik i jezikoslovlje (2013.).

Odgovori učenika moraju biti čitljivo napisani pisanim slovima, jedino u zadacima u kojima je odgovor jedno slovo dopuštena je uporaba čitljivo napisanog velikog tiskanog slova.

Za vrijeme pisanja ispita ne smije se koristiti ništa osim navedenoga pribora za pisanje. Ova odredba podrazumijeva da natjecatelji ne smiju kod sebe (na sebi, ispod, u svojoj odjeći i slično) imati predmete koji na bilo koji način mogu dovesti u sumnju pravilno provođenje natjecanja. Učenici se ne smiju služiti atlasom, zidnom kartom ni računalom. Kartografski i grafički prilozi nužni za rješavanje zadataka sastavni su dio ispita.

Učenicima se dopušta pisanje po marginama i praznim stranicama ispitnog materijala bez oduzimanja bodova i/ili diskvalifikacije.

Potpuno ispravno riješeni zadatci, prema uputi za rješavanje vrednuju se s jednim, dva ili tri boda. U djelomično ispravno riješenim zadacima boduju se ispravno riješene čestice, ako nije bilo korekcije odgovora u tim česticama. Netočno riješeni zadatci i naknadno ispravljeni odgovori te odgovori koji su pisani velikim tiskanim slovima ili kombinacijom tiskanih i pisanih slova, kao i odgovori u zagradama ne vrednuju se.

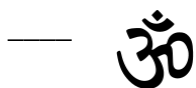
**U PRVIH ŠEST ZADATAKA JEDAN JE ODGOVOR TOČAN. ZAOKRUŽI SLOVO
ISPRED TOČNOG ODGOVORA.**

- | | | |
|----------|--|--|
| 1 | | 1. Koje je od navedenih pisama službeno pismo u Omanu?
a) arapsko pismo b) ćirilica c) hebrejsko pismo d) latinica |
| 1 | | 2. Koja je od navedenih država stalna članica Vijeća sigurnosti?
a) Indija b) Japan c) Kina d) Turska |
| 1 | | 3. Kojim od navedenih morskih prolaza plove brodovi iz Crnog mora prema Mramornom moru?
a) Bosporom b) Bab al-Mandabom c) Dardanelima d) Hormuzom |
| 1 | | 4. U kojemu je sektoru gospodarskih djelatnosti 2014. godine bilo zaposleno najviše stanovnika Afganistana?
a) primarnom b) sekundarnom c) tercijarnom d) kvartarnom |
| 1 | | 5. Koja se od navedenih država prostire u Europi i Aziji?
a) Armenija b) Gruzija c) Kirgistan d) Sirija |
| 1 | | 6. U kojem se od navedenih gradova nalazi Zid plača?
a) Istanbulu b) Jeruzalemu c) Meki d) Petri |

**U SLJEDEĆA DVA ZADATKA POVEŽI POJMOVE UPISIVANJEM
PRIPADAJUĆEG SLOVA I BROJA NA CRTU ISPRED POJMOVA U LIJEVOM
STUPCU. JEDAN POJAM IZ SREDNJEGA I JEDAN POJAM IZ DESNOGA
STUPCA NE MOGU SE POVEZATI.**

- | | | |
|----------|--|--|
| 3 | | 7. Poveži luku s obalom mora i državom u kojoj se nalazi.
___ Karachi A) Arapsko more 1) Japan
___ Pusan B) Istočno kinesko more 2) Kina
___ Shanghai C) Japansko more 3) Pakistan
D) Južno kinesko more 4) Republika Koreja |
|----------|--|--|

- | | | |
|----------|--|--|
| 3 | | 8. Poveži simbol s pripadajućom religijom i vjerskom građevinom. |
|----------|--|--|



A) budizam



B) hinduizam



C) islam

D) kršćanstvo



SLJEDEĆIH ŠEST ZADATAKA RIJEŠI UZ POMOĆ PRILOŽENE GEOGRAFSKE KARTE SVIJETA.



3	
---	--

 9. Kosim crtama ispuni u cijelosti toplinski pojas u kojemu živi $\frac{3}{4}$ stanovništva Zemlje. Naziv toplinskoga pojasa koji slijedi po udjelu u svjetskom stanovništvu je _____ pojas, a naziv toplinskoga pojasa u kojemu nema stalno naseljenog stanovništva je _____ pojas.

3	
---	--

 10. Upiši broj **1** u prostor najrjeđe naseljenog kontinenta. Naziv granične paralele između dvaju toplinskih pojasa koja presijeca najrjeđe naseljeni kontinent je _____, a od Sjevernog pola udaljena je _____ (upiši broj) stupnjeva.

2	
---	--

 11. Upiši broj **2** u prostor površinom treće države Novog svijeta. Službeni jezik te države je _____.

3	
---	--

 12. Ime poluotoka na karti označenog brojem **4** je _____, a nalazi se između mora označenog brojem **3** čije je ime _____ i mora čije je ime _____ na karti označeno brojem **5**.

2	
---	--

 13. Ime otoka na karti označenog brojem **6** je _____. Njegov zapadni dio pripada azijskoj državi čije je ime _____.

3	
---	--





 14. Ime najveće azijske nizine na karti označene brojem **7** je _____. Na zapadu je omeđena starim gorjem čije je ime _____, a na istoku rijekom čije je ime _____.

U SVAKOM OD SLJEDEĆIH ŠEST ZADATAKA DVA SU TOČNA ODGOVORA.

ZAKRUŽI SLOVA ISPRED TOČNIH ODGOVORA.

- 2 15. Koje od navedenih država presijeca sjeverna obratnica?
 a) Bangladeš b) Butan c) Filipini d) Indija e) Laos
- 2 16. Koji od navedenih gradova pripadaju monsunskoj Aziji?
 a) Bangkok b) Baku c) Kolkata d) Taškent e) Teheran
- 2 17. U kojim se od navedenih hrvatskih gradova nalaze kulturno-povijesni spomenici na UNESCO-ovom Popisu svjetske baštine?
 a) Poreč b) Pula c) Rijeka d) Šibenik e) Zadar
- 2 18. Koje od navedenih rijeka izvire na Tibetu?
 a) Amu Darja b) Brahmaputra c) Ganges d) Ind e) Menam
- 2 19. Koja od navedenih zanimanja ubrajamo u sekundarne djelatnosti?
 a) automehaničar b) balerina c) profesorica d) zidar e) zlatar
- 2 20. Koje su od navedenih vrsta drveća raširene u prašumama Južne i Jugoistočne Azije?
 a) ebanovina b) hrast c) javor d) tikovina e) vrba

U SLJEDEĆIH PET ZADATAKA POVEŽI PAROVE UPISIVANJEM SLOVA NA CRTU ISPRED PONUĐENIH ODGOVORA. TRI CRTE MORAJU OSTATI PRAZNE.

- 2 21. Poveži rijeke s nizinama kroz koje teku.
A) Sir Darja **B) Huang He**
 ___ Asam ___ Bengal ___ Punjab ___ Turanska nizina ___ Velika kineska nizina
- 2 22. Poveži opise s pripadajućim državama.
A) najrjeđe naseljena država Azije **B) površinom najveća država svijeta**
 ___ Afganistan ___ Kina ___ Mongolija ___ Nepal ___ Ruska Federacija
- 2 23. Poveži simbole s pripadajućim međunarodnim organizacijama.
A)  **B)** 
 ___ EU ___ FAO ___ NATO ___ UN ___ UNICEF
- 2 24. Poveži prikazane životinje s njihovim izvornim staništima.
A)  **B)** 
 ___ Bengal ___ Himalaja ___ Mandžurija ___ Sumatra ___ Tibet
- 2 25. Poveži vrhove s pripadajućim planinama.
A) K2 **B) Narodnaja**
 ___ Altaj ___ Elburs ___ Karakorum ___ Kavkaz ___ Ural

SLJEDEĆIH SEDAM ZADATAKA RIJEŠI UZ POMOĆ PRILOŽENE TABLICE.

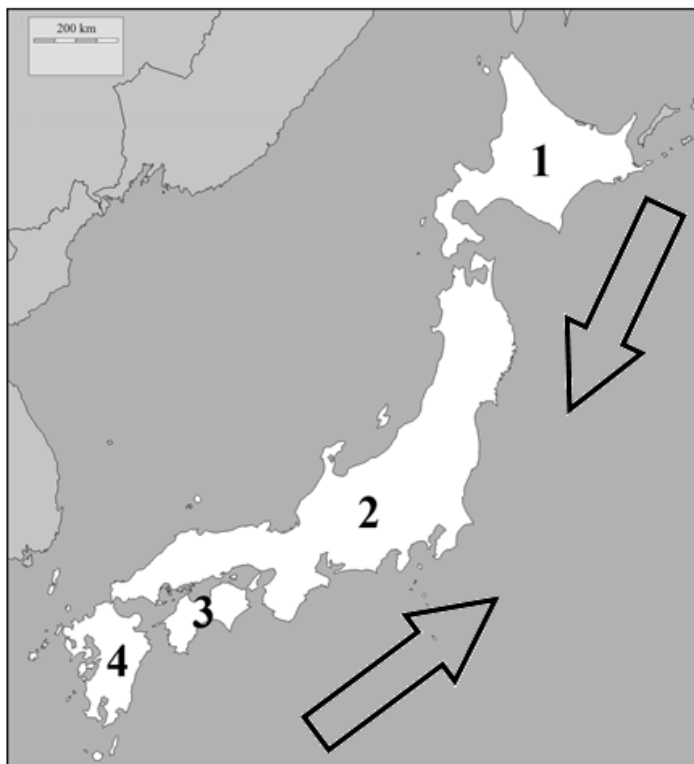
2015. godina						
DRŽAVE JUŽNE AZIJE I SVIJET	BROJ STANOVNIKA U TISUĆAMA	POVRŠINA km ²	PROSJEČNA NASELJENOST stan./km ²	UDIO DOBNIH SKUPINA U %		
				0-14 god.	15-64 god.	65 god. i više
AFGANISTAN	32 527	652 864	50	44	53,5	2,5
BANGLADEŠ	160 996	147 570	1091	29,4	65,6	
BUTAN	775	38 394	20	26,8	68,1	5,1
INDIJA	1 311 051	3 287 000	399	28,8	65,6	5,6
	409	298	1373	27,5	67,8	4,7
NEPAL	28 514	141 181	202	32,7	61,8	5,5
PAKISTAN	188 925	796 095	237		60,5	4,5
	20 966	65 610	320	24,6	66,1	9,3
SVIJET	7 346 600	134 325 400	55	26,1	65,6	8,3

Izvor: World Bank, 2016. godina

Prostor za računanje

- 2 26. U odgovarajuća prazna polja prvog stupca tablice upiši imena dviju otočnih država Južne Azije.
- 2 27. Imena dviju površinom najvećih država Južne Azije s većinskim muslimanskim stanovništvom su _____ i _____.
- 2 28. Imena dviju država Južne Azije koje su rjeđe naseljene od svjetskog prosjeka su _____ i _____.
- 2 29. U prazno polje petog i sedmog stupca tablice upiši podatke koji nedostaju.
- 2 30. Ime države Južne Azije koja je 2015. godine imala najveći udio stanovnika u dobi od 15 do 64 godine je _____, a ime države Južne Azije u kojoj je najkraća životna dob stanovništva je _____.
- 2 31. Imena glavnih gradova država Južne Azije koje su 2015. godine imale identičan udio stanovnika od 15 do 64 godine kao svijet su _____ i _____.
- 2 32. Ime naroda iz kojeg potječu vrsni vodiči pri usponu na Mt Everest je _____, a najviše ih živi u državi u kojoj je 2015. godine živjelo _____ (upiši broj) stanovnika.

**SLJEDEĆA TRI ZADATKA RIJEŠI UZ POMOĆ PRILOŽENE GEOGRAFSKE KARTE
JAPANA.**



- | | |
|---|--|
| 2 | |
|---|--|

 33. Kemijskom olovkom ispuni u cijelosti strelicu koja označava hladnu morsku struju. Ime tople morske struje koja utječe na klimu Japana je _____.
- | | |
|---|--|
| 2 | |
|---|--|

 34. Otok Hokkaido na karti je označen brojem _____. Ime naroda koji su prastanovnici Japana, a najviše ih živi na Hokkaidu je _____.
- | | |
|---|--|
| 2 | |
|---|--|

 35. Japanski otok na kojeg su SAD bacile prvu atomsku bombu pred kraj Drugog svjetskog rata na karti je označen brojem _____, a ime grada koji je porušen tom eksplozijom uz velike ljudske žrtve je _____.