

# ŠKOLSKO/OPĆINSKO/GRADSKO NATJECANJE IZ GEOGRAFIJE

2015. GODINE

Razred ili kategorija natjecanja: 8. razred

Zaporka

--	--	--	--	--

Broj postignutih bodova \_\_\_\_ / 70

Potpis članova Školskog povjerenstva

1. \_\_\_\_\_

2. \_\_\_\_\_

3. \_\_\_\_\_

Mjesto i nadnevak: \_\_\_\_\_

Za rješavanje zadataka predviđeno je 60 minuta.

Ispit se rješava kemijskom olovkom s plavom tintom koja se ne briše. Uporaba obične olovke i crvene ili neke druge boje tinte (osim plave) rezultira diskvalifikacijom učenika.

Pri rješavanju ispita treba primijeniti jezičnu normu standardnoga hrvatskoga jezika, posebice treba poštivati pravopisna pravila o pisanju velikoga i maloga početnog slova geografskih imena. Za pisanje geografskih imena u ispitima i praktičnim radovima primjenjuje se Hrvatski pravopis Instituta za hrvatski jezik i jezikoslovlje (2013.).

Odgovori učenika moraju biti čitljivo napisani pisanim slovima, jedino u zadacima u kojima je odgovor jedno slovo dopuštena je uporaba čitljivo napisanog velikog tiskanog slova.

Za vrijeme pisanja ispita ne smije se koristiti ništa osim navedenoga pribora za pisanje. Ova odredba podrazumijeva da natjecatelji ne smiju kod sebe (na sebi, ispod, u svojoj odjeći i slično) imati predmete koji na bilo koji način mogu dovesti u sumnju pravilno provođenje natjecanja. Učenici se ne smiju služiti atlasom, zidnom kartom ni računalom. Kartografski i grafički prilozi nužni za rješavanje zadataka sastavni su dio ispita.

Učenicima se dopušta pisanje po marginama i praznim stranicama ispitnog materijala bez oduzimanja bodova i/ili diskvalifikacije.

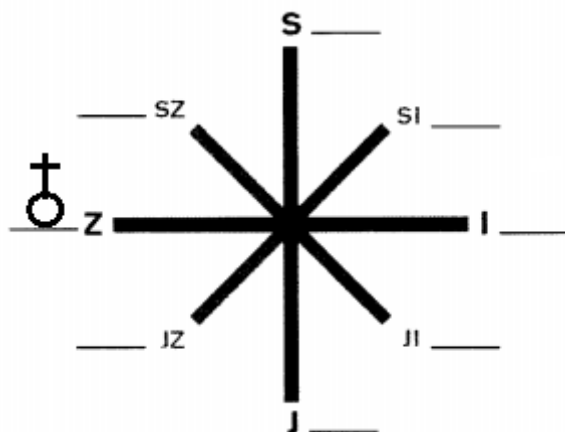
Potpuno ispravno riješeni zadatci, prema uputi za rješavanje vrednuju se s jednim, dva ili tri boda. U djelomično ispravno riješenim zadacima boduju se ispravno riješene čestice, ako nije bilo korekcije odgovora u tim česticama. Netočno riješeni zadatci i naknadno ispravljeni odgovori te odgovori koji su pisani velikim tiskanim slovima ili kombinacijom tiskanih i pisanih slova, kao i odgovori u zagradama ne vrednuju se.

**U SVAKOM OD SLJEDEĆA DVA ZADATKA JEDAN JE TOČAN ODGOVOR. ZAOKRUŽI SLOVO ISPRED TOČNOG ODGOVORA.**

- 1  1. Koja je među navedenim rijekama granična rijeka Hrvatske isključivo i samo prema Sloveniji?
- a) Mura      b) Kupa      c) Drava      d) Korana

- 1  2. Koja je među navedenim uzvisinama niža od 1000 metara?
- a) Psunj      b) Žumberačka gora      c) Ivanščica      d) Medvednica

**SLJEDEĆA TRI ZADATKA RIJEŠI UZ POMOĆ GRAFIČKOG PRILOGA.**



- 2  3. Na crtu iza slova kojim je na grafičkom prilogu označena strana svijeta jug ucrtaj topografski znak za prijevoj. Azimut juga je \_\_\_\_\_°.

- 2  4. Na crti ispred slova kojim je na grafičkom prilogu označena strana svijeta zapad ucrtan je topografski znak za \_\_\_\_\_, a odgovara azimutu od \_\_\_\_\_°.

- 1  5. Zaokruži na grafičkom prilogu slovo ili slova one strane svijeta s koje puše bura.

**U SLJEDEĆA TRI ZADATKA DOPUNI REČENICE UZ POMOĆ SLIKE.**

- 1  6. Na slici desno prikazan je jedan od tri simbola Republike Hrvatske. To je \_\_\_\_\_.

- 2  7. Imenuj ostala dva simbola Republike Hrvatske. To su \_\_\_\_\_ i \_\_\_\_\_.



- 1  8. Treći grb u kruni na slici desno je povijesni grb \_\_\_\_\_.

**U SLJEDEĆA TRI ZADATKA POVEŽI PAROVE UPISIVANJEM SLOVA NA CRTU ISPRED PONUĐENIH ODGOVORA. TRI CRTE MORAJU OSTATI PRAZNE.**

2	
---	--

9. Tip reljefnog oblika poveži s odgovarajućom reljefnom cjelinom:

A) naplavna ravnica                      B) pobrđe

\_\_\_\_\_ Požeška kotlina              \_\_\_\_\_ Ravni kotari              \_\_\_\_\_ Lonjsko polje

\_\_\_\_\_ Ličko polje              \_\_\_\_\_ Vukomeričke gorice

2	
---	--

10. Navedene rijeke poveži s državom u kojoj izvire:

A) Drava                                      B) Sava

\_\_\_\_\_ Hrvatska              \_\_\_\_\_ BiH              \_\_\_\_\_ Italija              \_\_\_\_\_ Slovenija              \_\_\_\_\_ Austrija

2	
---	--

11. Navedena mjerila poveži s pripadajućim tipom geografske karte:

A) 1:25 000                                      B) 1:5 000 000

\_\_\_\_\_ pregledna topografska karta              \_\_\_\_\_ plan              \_\_\_\_\_ katastarski plan

\_\_\_\_\_ detaljna topografska karta              \_\_\_\_\_ pregledna geografska karta

**U SLJEDEĆIH DEVET ZADATAKA DOPUNI REČENICE.**

2	
---	--

12. Od dvaju uzdužnih prometnih pravaca kroz Panonsku Hrvatsku, međunarodnu važnost ima \_\_\_\_\_ uzdužni prometni pravac, a lokalnog, manjeg značenja je \_\_\_\_\_ uzdužni prometni pravac (upiši nazive hrvatskih prometnih pravaca).

2	
---	--

13. Iste dvije rijeke koje dijelom čine prirodnu granicu između Hrvatske i Slovenije, ali i dijelom između Hrvatske i Mađarske su \_\_\_\_\_ i \_\_\_\_\_.

3	
---	--

14. Na crte upiši puna imena država. Ime države s kojom Hrvatska ima najdulju kopnenu granicu je \_\_\_\_\_, a ime države s kojom ima najkraću kopnenu granicu je \_\_\_\_\_.  
Ime države s kojom Hrvatska ima spornu granicu u Piranskom zaljevu je \_\_\_\_\_.

2	
---	--

15. Jedna od tri velike prirodne cjeline Hrvatske s najvećom godišnjom količinom padalina je \_\_\_\_\_ (upiši ime), a klimatski faktor koji najviše utječe na takvu količinu padalina je \_\_\_\_\_.

3	
---	--

16. Na crte iza imena planina upiši jedan od ponuđenih vrhova: Sv. Jure, Bjelolasica-Kula, Ozeblin, Vojak, Vaganski vrh. Dva vrha su višak.

- Velika Kapela \_\_\_\_\_
- Učka \_\_\_\_\_
- Biokovo \_\_\_\_\_

- |   |  |
|---|--|
| 1 |  |
|---|--|

 17. Proces dugotrajnog podizanja morske razine i potapanja kopna naziva se \_\_\_\_\_.
- |   |  |
|---|--|
| 3 |  |
|---|--|

 18. Sava je \_\_\_\_\_ (upiši desni ili lijevi) pritok Dunava i utječe u Dunav u \_\_\_\_\_ (upiši ime države). Najdulji dio njezinog toka je granica između \_\_\_\_\_ i \_\_\_\_\_ (upiši imena država).
- |   |  |
|---|--|
| 2 |  |
|---|--|

 19. Vrstu linija kojom se na topografskim kartama mjerila 1:100 000 prikazuje reljef nazivamo \_\_\_\_\_, a vrstu linija kojom se prikazuju dubine mora i jezera nazivamo \_\_\_\_\_.
- |   |  |
|---|--|
| 2 |  |
|---|--|

 20. Osim županija, upravno-teritorijalne jedinice u Hrvatskoj su: \_\_\_\_\_ i \_\_\_\_\_.

**U SVAKOM OD SLJEDEĆIH PET ZADATAKA DVA SU ODGOVORA TOČNA. ZAOKRUŽI SLOVA ISPRED TOČNIH ODGOVORA.**

- |   |  |
|---|--|
| 2 |  |
|---|--|

 21. Koja su od navedenih polja oblikovana u kršu?  
a) Jelas polje      b) Vrgoračko polje      c) Lonjsko polje  
d) Crnac polje      e) Gacko polje
- |   |  |
|---|--|
| 2 |  |
|---|--|

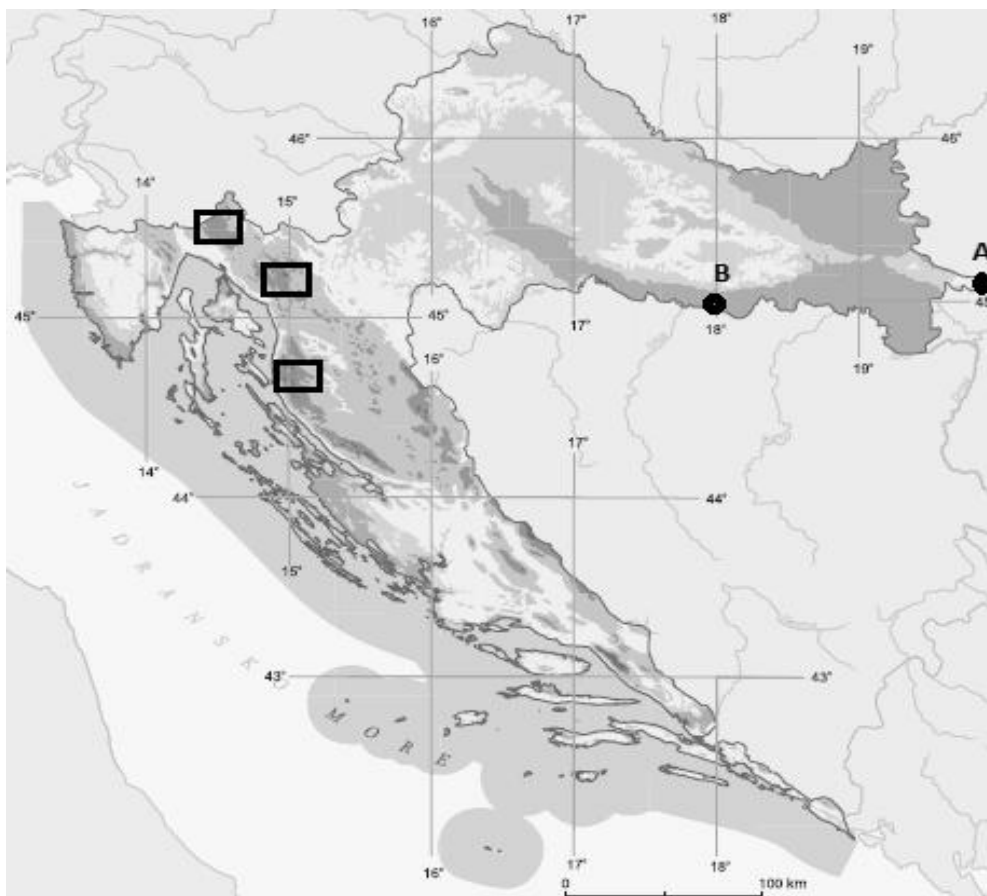
 22. Koje su među navedenim rijekama pritoke Kupe?  
a) Gacka      b) Korana      c) Dobra      d) Sutla      e) Česma
- |   |  |
|---|--|
| 2 |  |
|---|--|

 23. Koja su od navedenih jezera nastala iskapanjem šljunka?  
a) Peruča      b) Dubravsko      c) Kruščica      d) Jarun      e) Šoderica
- |   |  |
|---|--|
| 2 |  |
|---|--|

 24. Koji su od navedenih plinova u atmosferi presudni u stvaranju kiselih kiša?  
a) vodik      b) sumporni dioksid      c) ugljični dioksid  
d) dušikovi oksidi      e) helij
- |   |  |
|---|--|
| 2 |  |
|---|--|

 25. Koji od navedenih otoka imaju zračne luke?  
a) Brač      b) Cres      c) Lošinj      d) Hvar      e) Korčula

**SLJEDEĆIH PET ZADATAKA RIJEŠI UZ POMOĆ GEOGRAFSKE KARTE HRVATSKE.**



2	
---	--

**26.** Točka **B** označava položaj grada Slavenskog Broda, koji je riječna luka na rijeci \_\_\_\_\_ (upiši ime), a središte je \_\_\_\_\_ županije.

3	
---	--

**27.** Točka **A** označava najistočniju točku Hrvatske koja se nalazi u području grada \_\_\_\_\_ (upiši ime), a ima \_\_\_\_\_ geografsku širinu i \_\_\_\_\_ geografsku dužinu (upiši odgovarajuću stranu svijeta). Najistočnija točka Hrvatske nalazi se u \_\_\_\_\_ županiji.

2	
---	--

**28.** Upiši na priloženoj geografskoj karti znak **X** na otok na kojem se nalazi Zračna luka Rijeka. Ime tog otoka je \_\_\_\_\_.

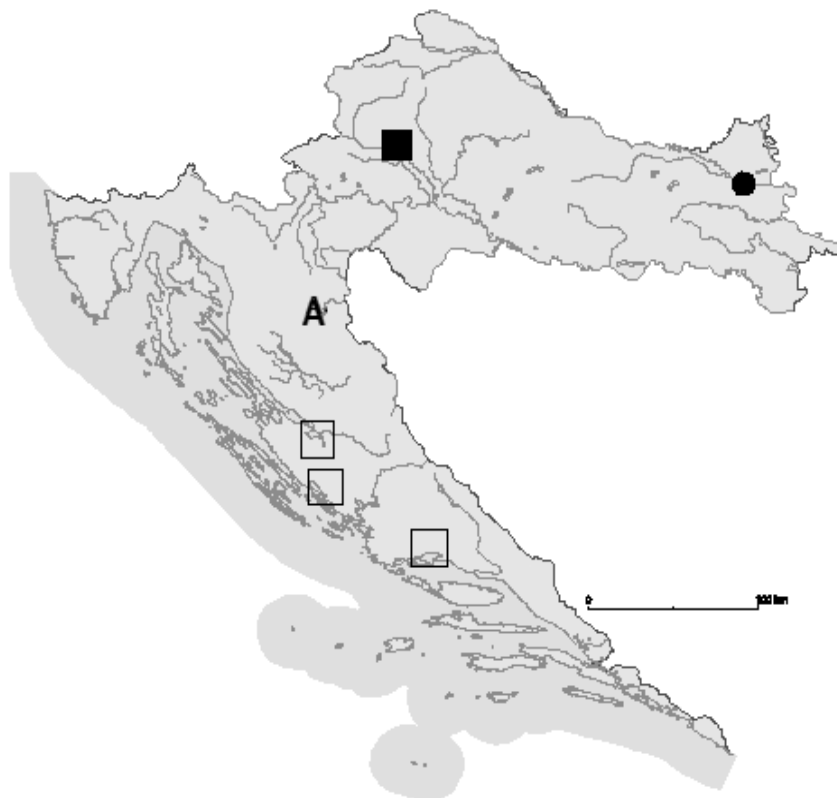
3	
---	--

**29.** Upiši na priloženoj geografskoj karti slovo **C** u kvadratić kojim je označena najviša planina Gorske Hrvatske. Ime te planine je \_\_\_\_\_, a ime njenog najvišeg vrha je \_\_\_\_\_.

2	
---	--

**30.** Zaokruži na priloženoj geografskoj karti otočnu skupinu na kojoj se nalazi najjužnija točka Hrvatske. Ime te otočne skupine je \_\_\_\_\_.

SLJEDEĆIH PET ZADATAKA RIJEŠI UZ POMOĆ GEOGRAFSKE KARTE HRVATSKE.



- 2
31. Ime najvećeg prometnog čvorišta Hrvatske, na priloženoj geografskoj karti označenog crnim kvadratićem, je \_\_\_\_\_. Ime luke na Dravi, na priloženoj geografskoj karti označene crnim kružićem, je \_\_\_\_\_.
- 2
32. Na priloženoj geografskoj karti **zaokruži** oznaku za onaj od dva grada iz prethodnog zadatka koji ima veću prosječnu količinu padalina, a znakom **X** **prekriži** oznaku za onaj grad koji ima veću prosječnu godišnju temperaturnu amplitudu.
- 2
33. Ime sustava od 16 jezera koji je na priloženoj geografskoj karti označen slovom **A** je \_\_\_\_\_. Ime rijeke koja istječe iz posljednjeg u nizu jezera je \_\_\_\_\_.
- 2
34. U odgovarajući kvadratić na priloženoj geografskoj karti upiši slovo **B** za najveće prirodno jezero u Hrvatskoj.  
Ime tog jezera je \_\_\_\_\_ jezero.
- 3
35. S obzirom da je jezeru iz prethodnog zadatka površina iznad, a dno ispod razine mora, takav tip jezera zovemo \_\_\_\_\_.  
Još dva primjera u Jadranskoj Hrvatskoj za takav tip jezera su \_\_\_\_\_ na otoku Cresu, te \_\_\_\_\_ kraj Ploča (upiši imena jezera).