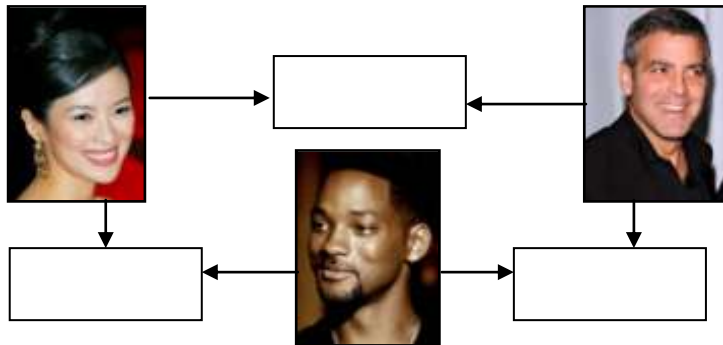


**ŠKOLSKO NATJECANJE UČENIKA IZ GEOGRAFIJE 2010. GODINE  
6. RAZRED**

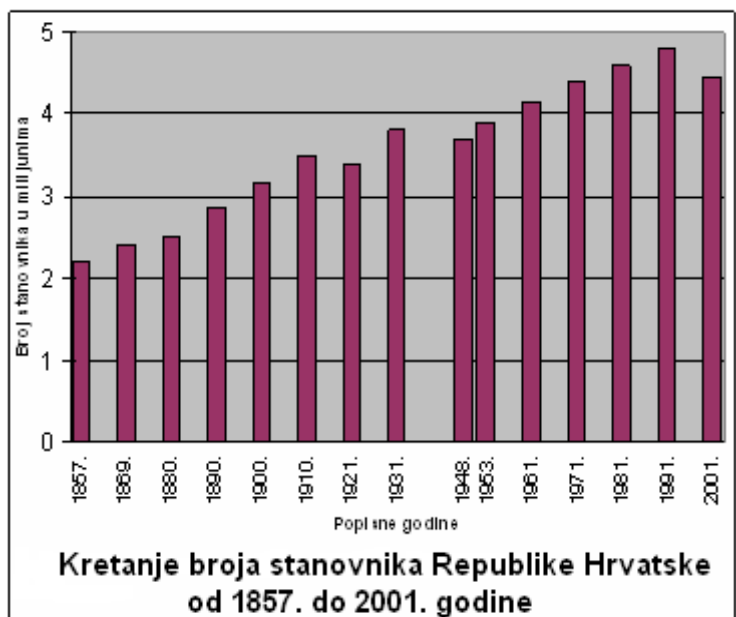
Zaporka \_\_\_\_\_ Bodovi \_\_\_\_\_

- 3** 1. U pravokutnike između fotografija koje prikazuju pripadnike glavnih rasa upiši nazive mješanaca rasa.



**SLJEDEĆA DVA ZADATKA RIJEŠI UZ POMOĆ GRAFIKONA KRETANJA BROJA STANOVNIKA REPUBLIKE HRVATSKE.**

- 2** 2. Na linije upiši popisnu godinu kad je Hrvatska imala:  
**najviše** stanovnika - \_\_\_\_\_  
**najmanje** stanovnika - \_\_\_\_\_



- 2** 3. Na linije upiši popisnu godinu kad je u Hrvatskoj prvi put zabilježeno više od:  
**3 milijuna stanovnika** - \_\_\_\_\_  
**4 milijuna stanovnika** - \_\_\_\_\_

- 2** 4. Na fotografijama su prikazani dijelovi Republike Hrvatske koji se nalaze na UNESCO-ovom Popisu svjetske baštine. Na linije ispod fotografija upiši njihove **nazive**.



\_\_\_\_\_

\_\_\_\_\_

2 5. Napiši kratice međunarodnih organizacija na linije ispod slika njihovih zastava.



U SLJEDEĆIH ŠEST ZADATAKA DOPUNI REČENICE.

2 6. Dijelovi prirodne granice između Europe i Azije su staro gromadno gorje \_\_\_\_\_ i mlada ulančana planina \_\_\_\_\_.

2 7. Vrsta udubine na kopnu koja je niža od razine mora naziva se \_\_\_\_\_.  
Najdublja takva udubina u Aziji i na Zemlji zove se \_\_\_\_\_.

2 8. Vegetacija crnogorične šume na području Sibira zove se \_\_\_\_\_  
i karakteristična je za \_\_\_\_\_ klimu.

2 9. Specijalizirani brod za transport nafte zove se \_\_\_\_\_, a sustav  
izoliranih čeličnih cijevi koji služi za transport nafte zove se \_\_\_\_\_.

2 10. Glavni grad Indije zove se \_\_\_\_\_, a najveći grad Indije zove se  
\_\_\_\_\_.

2 11. Najzastupljeniji službeni jezici u Indiji su \_\_\_\_\_ i  
\_\_\_\_\_ jezik.

2 12. Izračunaj **prirodnu promjenu** za države navedene u tablici. Rezultate upiši na predviđeno  
mjesto u tablici. Prema dobivenim rezultatima poredaj **države** prema vrijednosti prirodne  
promjene od **veće** prema **manjoj** na linije uz brojeve ispod tablice.

DRŽAVE	STOPA RODNOSTI(%)	STOPA SMRTNOSTI(%)	PRIRODNA PROMJENA(%)
Tajland	16,1	6,0	
Malezija	23,5	4,4	
Vijetnam	21,6	6,3	

Prostor za računanje

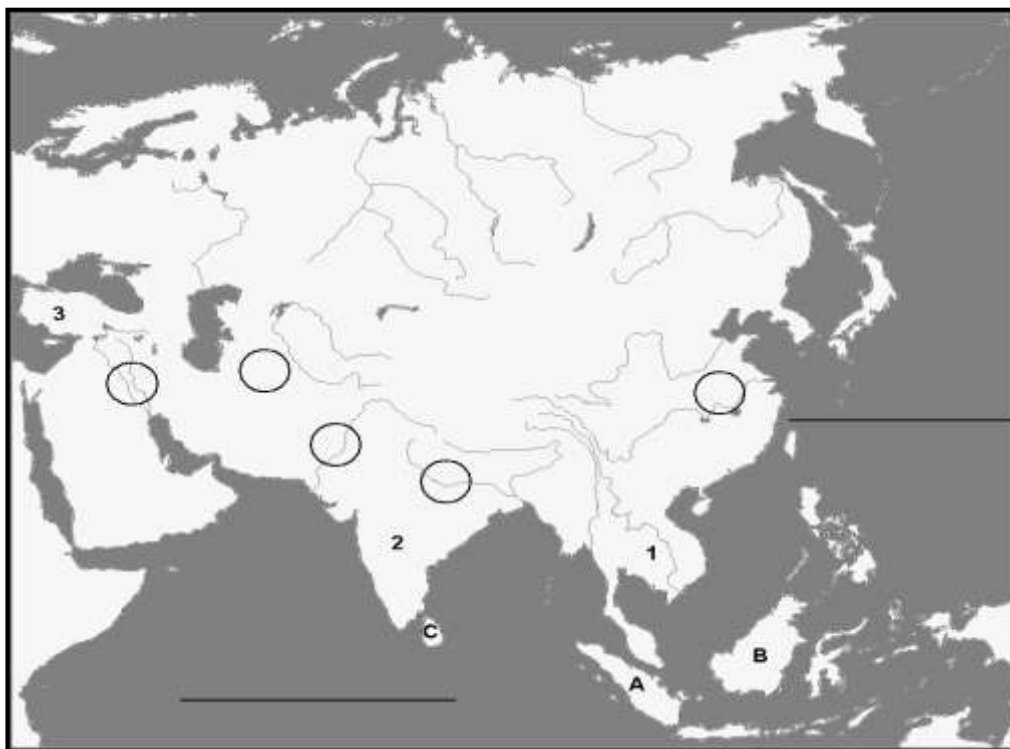
1 - \_\_\_\_\_ 2 - \_\_\_\_\_ 3 - \_\_\_\_\_

U SLJEDEĆA DVA ZADATKA PRECRTAJ NETOČNE POJMOVE.

3 13. U sljedećem tekstu o potresima **precrtaj tri netočna pojma** koji su napisani *kosim slovima*.  
Najčešći razlog nastanka potresa je *pomicanje litosfernih ploča/djelovanje privlačnih sila  
Mjeseca i Sunca*. Znanost koja se bavi proučavanjem potresa zove se *speleologija/seizmologija*.  
Potres u podmorju može izazvati nastanak vala u moru koji se zove *tajfun/tsunami*.

3 14. U sljedećem tekstu o islamu **precrtaj tri netočna pojma** koji su napisani *kosim slovima*.  
Islam je *monoteistička/politeistička* religija nastala u 7. stoljeću na *Arapskom/Indijskom*  
poluotoku. Sveti grad islama je *Meka/Varanasi(Benares)*.

SLJEDEĆA ČETIRI ZADATKA RIJEŠI UZ POMOĆ PRILOŽENE GEOGRAFSKE KARTE AZIJE.



- 2**  **15.** Na linije na karti upiši nazive **oceana** koji okružuju **Aziju**.
- 3**  **16.** Brojevi na karti označavaju **azijske poluotoke**:  
**1** - \_\_\_\_\_ **2** - \_\_\_\_\_ **3** - \_\_\_\_\_
- 3**  **17.** Slova na karti označavaju **azijske otoke**:  
**A** - \_\_\_\_\_ **B** - \_\_\_\_\_ **C** - \_\_\_\_\_
- 3**  **18.** U kružice na karti upiši slova za **azijske nizine** (dva kružića su višak):  
**M** – Mezopotamija      **H** – Hindustan      **P** – Punjab (Pandžab)

**U SLJEDEĆIH PET ZADATKA DVA SU ODGOVORA TOČNA. ZAOKRUŽI SLOVA UZ TOČNE ODGOVORE.**

- 2**  **19.** Zaokruži slova uz **dva najgušće naseljena kontinenta** na Zemlji:  
a) Europa      b) Južna Amerika      c) Afrika      d) Azija      e) Sjeverna Amerika
- 2**  **20.** Zaokruži slova uz **nazive država** koje prema **BDP-u po stanovniku** svrstavamo u **visoko razvijene države**:  
a) Brazil      b) Kanada      c) Kina      d) Sjedinjene Američke Države      e) Egipat
- 2**  **21.** Zaokruži slova uz **zanimanja kvartarnog sektora**:  
a) bankar      b) drvosječa      c) sudac      d) pekar      e) glumac
- 2**  **22.** Zaokruži slova uz točne tvrdnje o **Ujedinjenim narodima (UN)**:  
a) Najvažnija upravna tijela UN-a su Generalna skupština i Vijeće sigurnosti.  
b) NATO je specijalizirana organizacija UN-a za očuvanje mira u svijetu.  
c) Glavno sjedište UN-a se nalazi u San Franciscu.  
d) Republika Hrvatska je država članica UN-a.  
e) UN je organizacija koja ima manje od 100 država članica.

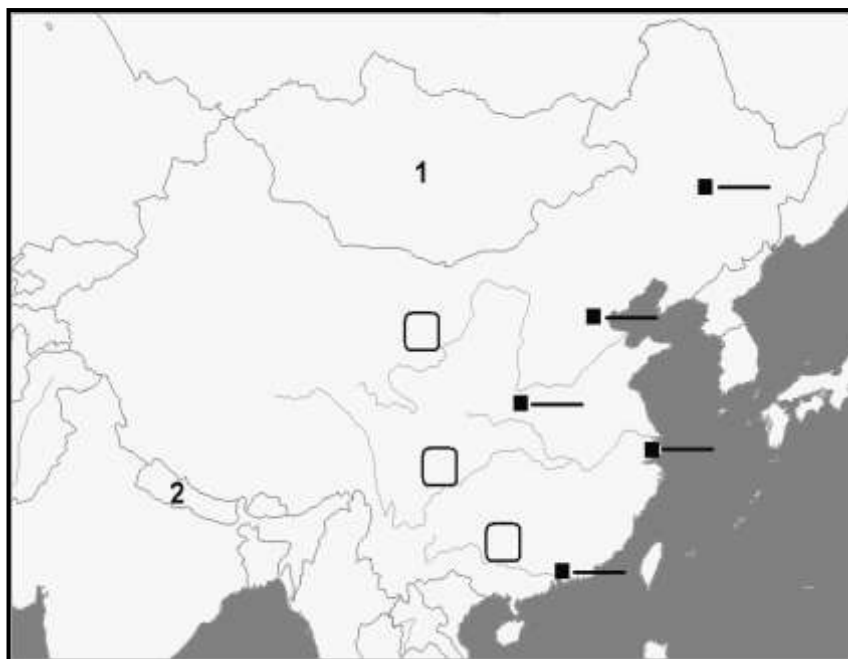
- 2** **23.** Zaokruži slova uz točne tvrdnje o **Japanu**:
- a) Japan je veliki svjetski izvoznik neobnovljivih izvora energije.  
 b) Japansko otočje je sastavni dio Pacifičkog vatrenog prstena.  
 c) Najgušće naseljeni japanski otok je Hokkaido.  
 d) U dobnoj strukturi Japana prevladava mlado stanovništvo.  
 e) Najveći udio zaposlenih u Japanu radi u uslužnim djelatnostima.

**U SLJEDEĆA ČETIRI ZADATKA DOPUNI REČENICE.**

- 2** **24.** Navedi nazive **godišnjih doba** na sjevernoj polutci u kojima puše monsun ovih obilježja:  
 Suh i puše s kopna - \_\_\_\_\_ Vlažan i puše s mora - \_\_\_\_\_
- 3** **25.** Tri religije smatraju **Jeruzalem** svetim gradom. To su:  
 \_\_\_\_\_, \_\_\_\_\_ i \_\_\_\_\_.
- 3** **26.** Azija se smjestila u **tri toplinska pojasa**. To su: \_\_\_\_\_,  
 \_\_\_\_\_ i \_\_\_\_\_.
- 2** **27.** Najvažnija poljoprivredna kultura monsunske Azije i osnova prehrane domaćeg stanovništva je \_\_\_\_\_, a vrsta drveta američkog podrijetla iz čijeg se soka proizvodi prirodna guma naziva se \_\_\_\_\_.

**SLJEDEĆA TRI ZADATKA RIJEŠI UZ POMOĆ PRILOŽENE GEOGRAFSKE KARTE KINE.**

- 3** **28.** Na odgovarajuće linije uz crne kvadratiće na karti upiši slova za sljedeće **kineske gradove** (dvije linije su višak):  
 A – Xianggang (Hong Kong)  
 B – Beijing (Peking)  
 C - Shanghai



- 3** **29.** U pravokutnike na karti upiši brojeve za sljedeće **kineske rijeke**:

- 1 – Chiang Jiang (Yangtze, Modra rijeka)  
 2 – Zhu Jiang (Sikiang, Biserna rijeka)  
 3 – Huang He (Žuta rijeka)

- 2** **30.** Brojevi na karti označavaju **države** koje graniče s Kinom. Na linije pored brojeva upiši njihove nazive.

1 - \_\_\_\_\_ 2 - \_\_\_\_\_