

ŠKOLSKO/OPĆINSKO/GRADSKO NATJECANJE IZ GEOGRAFIJE 2012. GODINE

Razred ili kategorija natjecanja: **6. razred**

Zaporka

--	--	--	--	--

Broj postignutih bodova ____ / 70

Potpis članova Školskog povjerenstva

1. _____

2. _____

3. _____

Mjesto i nadnevak: _____

Za rješavanje zadataka predviđeno je 60 minuta.

Test se rješava kemijskom olovkom s plavom tintom koja se ne briše. Uporaba obične olovke i crvene ili neke druge boje tinte (osim plave) rezultira diskvalifikacijom učenika.

Pri rješavanju testa treba primijeniti jezičnu normu standardnoga hrvatskoga jezika, posebice treba poštivati pravopisna pravila o pisanju velikoga i maloga početnoga slova geografskih imena. Geografska imena čije je podrijetlo iz drugih (stranih) jezika moraju biti napisana u izvornom obliku (transkribirana na latinicu), npr. New York, Stuttgart, Loire...

Odgovori učenika moraju biti čitljivo napisani pisanim slovima (osim u zadacima u kojima je odgovor jedno slovo).

Za vrijeme testiranja ne smije se koristiti ništa osim navedenoga pribora za pisanje. Ova odredba podrazumijeva da natjecatelji ne smiju kod sebe (na sebi, ispod, u svojoj odjeći i slično) imati predmete koji na bilo koji način mogu dovesti u sumnju pravilno provođenje natjecanja. Učenici se ne smiju služiti atlasom, zidnom kartom ni računalom. Kartografski i grafički prilozi nužni za rješavanje zadataka sastavni su dio testa.

Potpuno ispravno riješeni zadaci, prema uputi za rješavanje vrednuju se s jednim, dva ili tri boda. U djelomično ispravno riješenim zadacima boduju se ispravno riješene čestice, ako u njima nije bilo korekcije odgovora. Netočno riješeni zadaci i naknadno ispravljeni odgovori te odgovori koji su pisani tiskanim slovima ili kombinacijom tiskanih i pisanih slova ne vrednuju se.

U SLJEDEĆA TRI ZADATKA DOPUNI REČENICE.

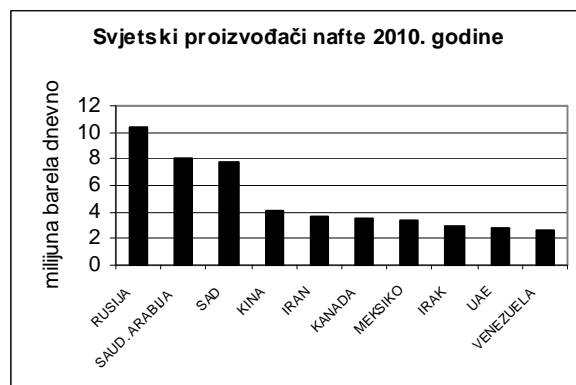
- 1** 1. Država članica skupine G-8 koja nije članica skupine G-7 je _____.
- 1** 2. Jezik koji u svijetu ima najviše izvornih govornika je _____ jezik.
- 2** 3. Zapadnoj obali Japana padaline donosi _____ monsun, jer se pri prolasku preko _____ mora navlaži.

SLJEDEĆIH PET ZADATAKA RIJEŠI UZ POMOĆ PRILOŽENIH FOTOGRAFIJA I DIJAGRAMA.

- 3** 4. Na fotografiji je muzej _____ (upiši ime muzeja). Sagrađen je kao crkva u nekadašnjoj bizantskoj prijestolnici, Carigradu. Današnje ime tog grada je _____, a ime države u kojoj se nalazi je _____.



- 3** 5. Od deset najvećih svjetskih proizvođača nafte u 2010. godini čak je _____ (upiši broj) azijskih država i jedna euroazijska država. Od članica OPEC-a najviše nafte, u 2010. god., je proizvela _____



U toj državi se dnevno proizvede _____ barela nafte.

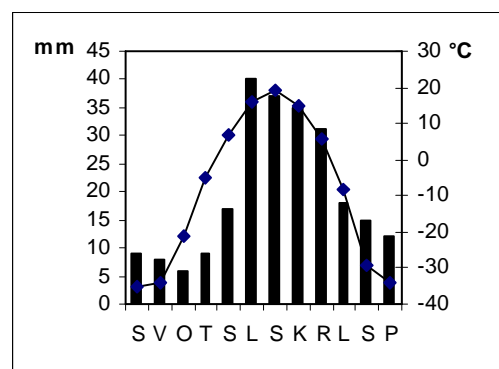
- 3** 6. Seljenje stanovništva zajedno sa stadima u potrazi za pašnjacima svojstveno je _____ načinu života.

Na fotografiji je prikazana tradicionalna nastamba tog stanovništva čiji naziv je _____. Takav način života je tradicionalan u azijskim **tajgama / stepama** (zaokruži točan pojam).



- 3** 7. Dijagram kojim prikazujemo srednje mjesečne temperature zraka i mjesečne količine padalina nazivamo _____.

Na priloženom dijagramu mjesec s najviše padalina je _____, a u njemu padne _____ padalina.



- 3** 8. Tip klime prikazan na dijagramu je _____ klima.

Zaokruži slova uz dvije vrste drveća koje rastu u tipu klime prikazanom na dijagramu:

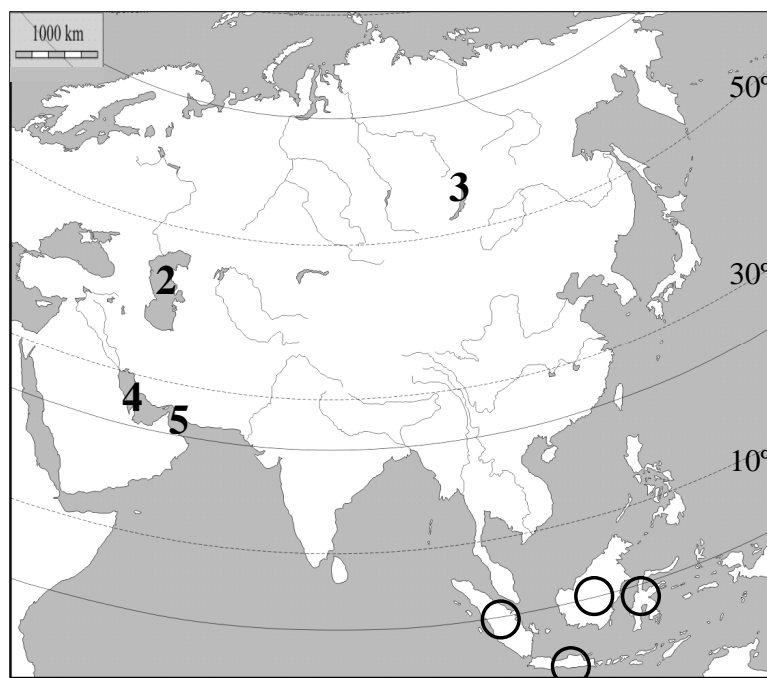
- a) ebanovina b) hrast c) jela d) smreka e) tikovina

U SLJEDEĆIH ŠEST ZADATAKA POVEŽI PAROVE UPIŠIVANJEM SLOVA NA CRTU ISPRED PONUĐENIH ODGOVORA. TRI CRTE MORAJU OSTATI PRAZNE.

- 2** 9. Navedene nizine pridruži državama u kojima se nalaze.
A) Mezopotamija **B)** Mandžurijska nizina
 ___ Indija ___ Irak ___ Kina ___ Pakistan ___ Rusija
- 2** 10. Navedene rijeke pridruži morima u koja utječu.
A) Ind **B)** Chang Jiang (Jangce)
 ___ Andamansko more ___ Arapsko more ___ Istočno kinesko more ___ Južno kinesko more ___ Žuto more
- 2** 11. Navedena zanimanja pridruži sektorima djelatnosti.
A) primarni sektor djelatnosti **B)** kvartarni sektor djelatnosti
 ___ balerina ___ kuharica ___ rudar ___ trgovac ___ voćar
- 2** 12. Navedene religije pridruži državama u kojima su dominantne.
A) hinduizam **B)** islam
 ___ Filipini ___ Indija ___ Izrael ___ Japan ___ Turska
- 2** 13. Navedena obilježja pridruži kontinentima.
A) najrjeđe naseljen kontinent Starog svijeta **B)** najrjeđe naseljen kontinent Novog svijeta
 ___ Afrika ___ Australija ___ Azija ___ Europa ___ Južna Amerika
- 2** 14. Navedena obilježja pridruži navedenim azijskim poluotocima.
A) najistočniji poluotok Azije **B)** najjužniji poluotok Azije
 ___ Čukotski poluotok ___ Kamčatka ___ Korejski poluotok ___ Mala Azija ___ Malajski poluotok

SLJEDEĆIH PET ZADATAKA RIJEŠI UZ POMOĆ PRILOŽENE GEOGRAFSKE KARTE AZIJE.

- 2** 15. Najdulja paralela na Zemlji je _____.
 Podebljaj ju u cijeloj dužini na priloženoj karti.
- 1** 16. Na paralelu između žarkog i sjevernog umjerenog toplinskog pojasa upiši broj 1.
- 2** 17. Brojevi na karti označavaju azijska jezera: **2** - _____
3 - _____
- 2** 18. Brojevi na karti označavaju azijske zaljeve: **4** - _____
5 - _____



- 3** 19. U kružice na karti upiši slova za azijske otoke (dva kružića su višak):
S – Sumatra **J** – Java
 Sumatra i Java dio su države _____.

U SVAKOM OD SLJEDEĆA DVA ZADATAKA U PAROVIMA POJMOVA KOJI SU PODEBLJANI I ODVOJENI KOSIM CRTAMA ZAOKRUŽI ONAJ POJAM KOJI JE TOČAN.

- 1 29. Mješanci bijele i žute rase su *mestici* / *zambi*.
- 2 30. Skup djelatnosti koje sudjeluju u proizvodnji, razmjeni i potrošnji dobara i usluga naziva se *globalizacija* / *gospodarstvo*.
U većini slabije razvijenih zemalja više je zaposlenih u *primarnim djelatnostima* / *tercijarnim djelatnostima* nego u visoko razvijenim zemljama.

U SLJEDEĆA ČETIRI ZADATAKA DOPUNI REČENICE.

- 2 31. Ako je rodnost 12‰ znači da se na svakih _____ stanovnika rodi _____ djece.
- 2 32. Podaci o stanovništvu Hrvatske prikupljanju se popisom stanovništva koji se najčešće provodi svakih _____ godina.
Posljednji popis u Republici Hrvatskoj proveden je _____ godine.
- 1 33. Najvažnija žitarica za prehranu stanovništva monsunske Azije je _____.
- 2 34. Izračunaj prirodnu promjenu broja stanovnika jednog naselja koje je u 2011. godini imalo stopu rodnosti 12‰, a stopu smrtnosti 15‰.

Prostor za računanje

Stopa prirodne promjene za navedeno naselje iznosi _____, i to je *prirodni porast* / *prirodni pad* stanovništva (zaokruži točan pojam).

POVEŽI DESNI STUPAC S LIJEVIM UPISIVANJEM SLOVA NA CRTU ISPRED POJMOVA U LIJEVOM STUPCU. JEDNO SLOVO JE VIŠAK.

- 2 35. _____ Džungarija
_____ Himalaja
_____ Hindustan
_____ Tibet
- A) mlada planina
B) nizina
C) staro gorje
D) visoravan
E) zavala