

21. ŠKOLSKO/OPĆINSKO/GRADSKO NATJECANJE IZ GEOGRAFIJE 2014. GODINE

Razred ili kategorija natjecanja: **6. razred**

Zaporka

--	--	--	--	--

Broj postignutih bodova ____ / 70

Potpis članova Školskog povjerenstva

1. _____

2. _____

3. _____

Mjesto i nadnevak: _____

Za rješavanje zadataka predviđeno je 60 minuta.

Test se rješava kemijskom olovkom s plavom tintom koja se ne briše. Uporaba obične olovke i crvene ili neke druge boje tinte (osim plave) rezultira diskvalifikacijom učenika.

Pri rješavanju testa treba primijeniti jezičnu normu standardnoga hrvatskoga jezika, posebice treba poštivati pravopisna pravila o pisanju velikoga i maloga početnog slova geografskih imena. Za pisanje geografskih imena u testovima i praktičnim radovima primjenjuje se Hrvatski pravopis Instituta za hrvatski jezik i jezikoslovlje preporučen od ministra znanosti, obrazovanja i sporta, dr. sc. Željka Jovanovića, za korištenje u osnovnim i srednjim školama i objavljen na internetskim stranicama Instituta za Hrvatski jezik i jezikoslovlje.

Odgovori učenika moraju biti čitljivo napisani pisanim slovima, jedino u zadacima u kojima je odgovor jedno slovo dopuštena je uporaba čitljivo napisanog tiskanog slova.

Za vrijeme testiranja ne smije se koristiti ništa osim navedenoga pribora za pisanje. Ova odredba podrazumijeva da natjecatelji ne smiju kod sebe (na sebi, ispod, u svojoj odjeći i slično) imati predmete koji na bilo koji način mogu dovesti u sumnju pravilno provođenje natjecanja. Učenici se ne smiju služiti atlasom, zidnom kartom ni računalom. Kartografski i grafički prilozi nužni za rješavanje zadataka sastavni su dio testa.

Učenicima se dopušta pisanje po marginama ispitnog materijala bez oduzimanja bodova i/ili diskvalifikacije.

Potpuno ispravno riješeni zadaci prema uputi za rješavanje vrednuju se s jednim, dva ili tri boda. U djelomično ispravno riješenim zadacima boduju se ispravno riješene čestice, ako nije bilo korekcije odgovora u tim česticama. Netočno riješeni zadaci i naknadno ispravljeni odgovori te odgovori koji su pisani tiskanim slovima ili kombinacijom tiskanih i pisanih slova, kao i odgovori u zagradama ili odgovori u kojima je u kombinaciji upisan ispravan odgovor i odgovor u zagradi ne vrednuju se.

U SLJEDEĆIH SEDAM ZADATKA DOPUNI REČENICE.

- 1** 1. Veliki i snažni val koji nastaje potresom u podmorju naziva se _____.
- 1** 2. Prosječna gustoća naseljenosti pokazuje broj stanovnika na _____.
- 1** 3. Hrvatska je postala punopravna članica Europske unije _____ godine (upiši datum).
- 2** 4. Dvije najmnogoljudnije države svijeta 2013. godine su: _____ i _____ (upiši imena država).
- 2** 5. Naziv jezika koji je službeni u najvećem broju država svijeta 2013. godine je _____ jezik. Naziv jezika koji je službeni u najvećem broju država Južne Amerike je _____ jezik.
- 2** 6. Mješanac bijele i crne rase naziva se _____. Mješanac bijele i žute rase naziva se _____.
- 2** 7. U 2011. godini stopa rodnošći u Japanu iznosila je 8 ‰, a stopa smrtnosti 10 ‰. Stopa prirodne promjene Japana iznosila je _____. Japan je imao prirodni _____ stanovništva.

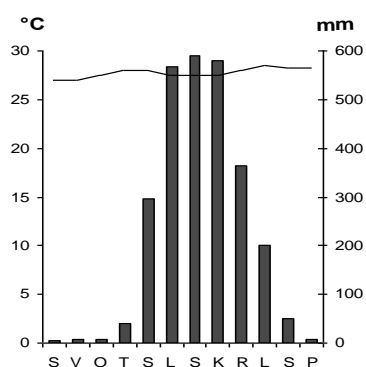
Prostor za računanje

SLJEDEĆA ČETIRI ZADATKA RIJEŠI UZ POMOĆ PRILOŽENIH FOTOGRAFIJA, DIJAGRAMA I KARTE.

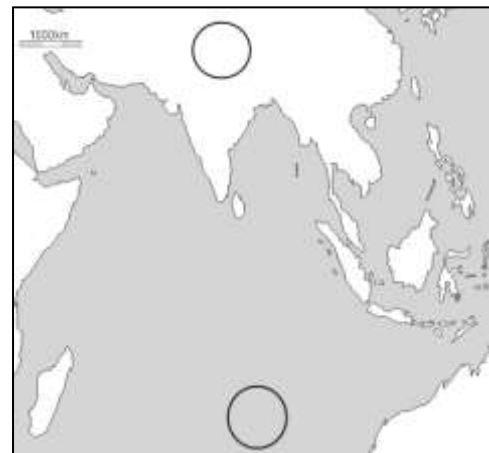
- 2** 8. Fotografija prikazuje naš najstariji nacionalni park _____ (upiši ime nacionalnog parka). Kratica svjetske organizacije na čijem se popisu zaštićenih područja nalazi je _____.
- 3** 9. Fotografije prikazuju vjerska središta **a) Meku**, **b) Jeruzalem** i **c) Varanasi (Benares)**. Na crte ispod fotografija upiši imena država članica UN-a u kojima se nalaze.



- 3** 10. Godišnje doba s najviše padalina je _____ (upiši naziv). Povećanu količinu padalina uzrokuje vjetar _____ (upiši puni naziv). Naziv tipa klime prikazanog na klimatskom dijagramu je _____ klima.

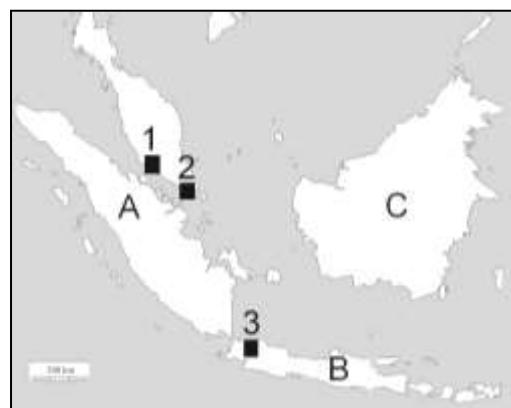


- 2 11. Na priloženoj karti južne i jugoistočne Azije u odgovarajući kružić upiši slovo **N** u područje u kojem ljeti prevladava polje niskog tlaka zraka. Strelicama ucrtaj smjer puhanja ljetnog monsuna na području Dekana i Indijskog oceana.



**SLJEDEĆA TRI ZADATKA RIJEŠI UZ POMOĆ PRILOŽENE KARTE
DIJELA JUGOISTOČNE AZIJE.**

- 3 12. Na geografskoj karti označen je smještaj jedne od najprometnijih morskih luka u svijetu. Ime te morske luke je _____, a na karti je označena kvadratićem i brojem _____. Ime poluotoka na kojemu se nalazi je _____ poluotok.



- 3 13. Ime otoka označenog slovom **A** je _____, a ime otoka označenog slovom **B** je _____. Oba otoka pripadaju državi čije je ime _____.

- 1 14. Zaokruži na karti slovo kojim je označen najgušće naseljen otok.

**U SLJEDEĆA TRI ZADATKA POVEŽI PAROVE UPISIVANJEM SLOVA NA CRTU ISPRED
PONUĐENIH ODGOVORA. TRI ODGOVORA SU VIŠAK.**

- 2 15. Navedene opise pridruži imenima jezera:
A) najdublje jezero na svijetu **B)** jezero kojemu je znatno smanjena površina posljednjih desetljeća
 ___ Kaspijsko ___ Aralsko ___ Balkaško ___ Bajkalsko ___ Lop Nor

- 2 16. Navedene nizine pridruži rijekama koje kroz njih teku:
A) Assam **B)** Hindustan
 ___ Ind ___ Brahmaputra ___ Ganges ___ Huang He ___ Tigris

- 2 17. Navedene skupine djelatnosti pridruži djelatnostima koje im pripadaju:
A) sekundarna skupina **B)** kvartarna skupina
 ___ ribolov ___ industrija ___ promet ___ trgovina ___ školstvo

**SLJEDEĆIH ŠEST ZADATAKA RIJEŠI UZ POMOĆ PRILOŽENE
GEOGRAFSKE KARTE AZIJE.**

2 18. Podebljaj na karti cijelom dužinom paralelu koja se nalazi na granici između tropskog i sjevernog umjerenog pojasa. Naziv te paralele je _____.

2 19. Zaljev u Aziji s najvećim zalihama nafte ispuni na karti kosim crtama. Ime tog zaljeva je _____ zaljev.

2 20. Na crte upiši imena rijeka označenih na karti brojevima 1 i 2.

1 _____

2 _____

2 21. Na crte upiši imena mora označenih na karti slovima A i B.

A _____

B _____

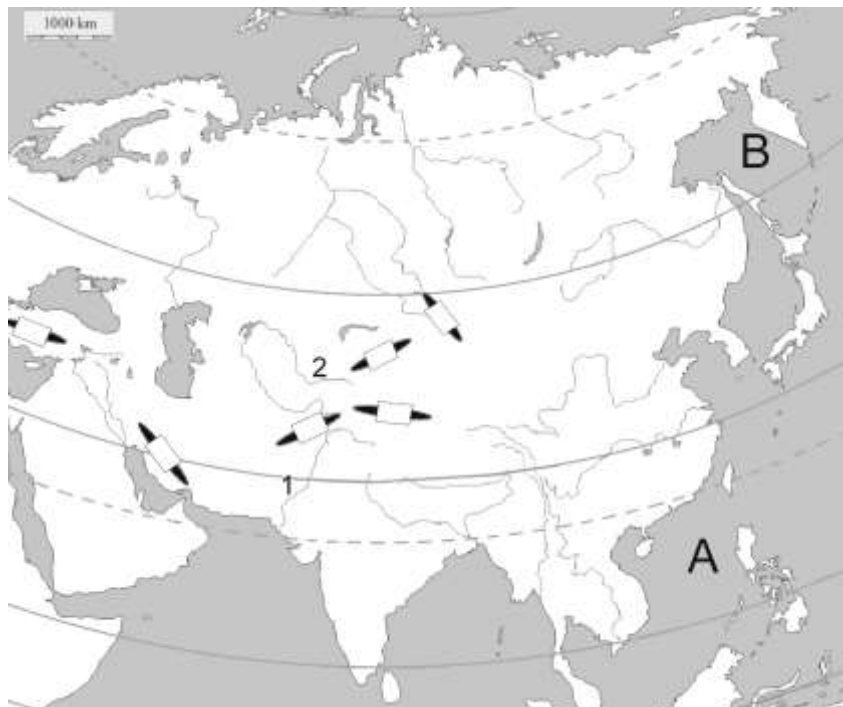
2 22. Zaokruži na karti Bajkalsko jezero, a na poluotok Kamčatku ucrtaj trokutić (▲).

3 23. U odgovarajuće kvadratiće na geografskoj karti upiši slova kojima ćeš označiti smještaj azijskih planina i visoravni (tri kvadratića su višak).

K – Kven Lun (Kunlun Shan)

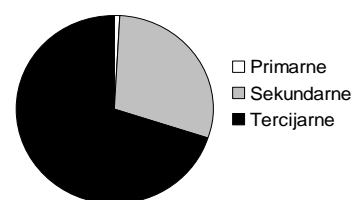
T – Tjan Šan (Tien Shan)

A – Anatolija



U SVAKOM OD SLJEDEĆA DVA ZADATAKA U PAROVIMA POJMOVA KOJI SU PODEBLJANI I ODVOJENI KOSIM CRTAMA U CIJELOSTI ZAOKRUŽI ONE POJMOVE KOJI SU TOČNI.

1 24. Strukturu zaposlenosti po skupinama djelatnosti prikazanu na dijagramu imaju **srednje razvijene / visokorazvijene** države. Azijska država koja ima ovakvu strukturu zaposlenosti je **Bangladeš / Japan.**



2 25. Sve velike religije svijeta potječu iz **Europe / Azije**. Najviše sljedbenika u svijetu danas ima **kršćanstvo / islam**. Od religija u Saudijskoj Arabiji prevladava **budizam / islam**, a u Indiji **islam / hinduizam**.

U SVAKOM OD SLJEDEĆA ČETIRI ZADATAKA DVA SU ODGOVORA TOČNA. ZAOKRUŽI SLOVA ISPRED TOČNIH ODGOVORA.

2 26. Koje su dvije najviše planine na svijetu?

- a) Karakorum b) Himalaja c) Pamir d) Hindukuš e) Tjan Šan

27. Koji se od navedenih morskih prolaza nalaze uz obale Arapskog poluotoka?
a) Bab el Mandeb b) Dardaneli c) Hormuz d) Sundski e) Bospor
28. Koje su dvije najveće aglomeracije u Indiji 2013. godine?
a) Bengaluru b) Kolkata c) Mumbai d) Haidarabad e) Delhi (Dilli)
29. Koje od navedenih kultura uspijevaju samo u tropskoj klimi?
a) papar b) riža c) agrumi d) kaučukovac e) kukuruz

SLJEDEĆA ČETIRI ZADATKA RIJEŠI UZ POMOĆ PRILOŽENE KARTE JAPANA.

30. Geografski smještaj japanskih otoka odredi prema stranama svijeta: Japanski otoci nalaze se _____ od ekvatora i _____ od početnog meridijana.
31. Na priloženoj geografskoj karti glavni grad Japana označen je kvadratićem i brojem _____. Ime grada označenog brojem 1 na geografskoj karti je _____, a nalazi se na otoku čije je ime _____.
32. Na priloženoj karti uz vrh strelice upiši broj 1 uz morsku struju Kuroshio, a broj 2 uz morsku struju Ojashio.
33. Zaokruži na karti strelicu koja pokazuje smjer toka tople morske struje.



U SLJEDEĆA DVA ZADATKA POVEŽI DESNI STUPAC S LIJEVIM UPISIVANJEM SLOVA NA CRTU ISPRED POJMOVA U LIJEVOM STUPCU. JEDNO SLOVO JE VIŠAK.

34. Tipove klime pridruži karakterističnim biljnim zajednicama.
- | | |
|---------------|----------------------------|
| _____ makija | A) sredozemna klima |
| _____ tundra | B) snježno-šumska klima |
| _____ džungla | C) stepska klima |
| _____ tajga | D) tropska monsunska klima |
| | E) klima tundre |
35. Opise pridruži reljefnim cjelinama.
- | | |
|-----------------|--------------------------------|
| _____ Pamir | A) visoravan na zapadu Azije |
| _____ Anatolija | B) mlade nabrane planine |
| _____ Tibet | C) površinom najveća visoravan |
| _____ Ural | D) nizina |
| | E) staro gromadno gorje |