

**ŠKOLSKO NATJECANJE UČENIKA IZ GEOGRAFIJE 2010. GODINE
7. RAZRED**

Zaporka _____ Bodovi _____

U sljedeća dva zadatka u tekstu prekriži 3 netočna pojma napisana kosim slovima.

3

1. Najsjevernija točka Europe Kinnarodden nalazi se u *Norveškoj/Švedskoj*, na *Skandinavskom/Pirenejskom* poluotoku, a u odnosu na paralelu 75° sjeverno od ekvatora, smještena je *južno/sjeverno*.

3

2. **Tercijarizacijom** društva raste broj zaposlenih u *industriji/uslužnim* djelatnostima, smanjuje se udio *urbanog/ruralnog* stanovništva, a životni standard *raste/pada*.

SLJEDEĆA ČETIRI ZADATKA RIJEŠI UZ POMOĆ GEOGRAFSKE KARTE.



3

3. **Crtama i brojevima** su označene europske planine. Iza brojeva na crte upiši njihove nazive. 1 _____, 2 _____, 3 _____.

2

4. **Otrantska vrata**, označena strelicom na karti, povezuju _____ more i _____ more.

3 5. Slovima su označeni: **A** _____ zaljev,
B tjesnac _____, **C** _____ more.

2 6. **Crtom i znakom X** označeno je **staro** _____ gorje, na
_____ poluotoku (*upiši naziv gorja i poluotoka*).

U sljedećim zadacima dopuni rečenice.

2 7. Europa je **većim** dijelom smještena u sjevernom _____ toplinskom
pojasu, a **manjim** dijelom u sjevernom _____ toplinskom pojasu.

2 8. Dogovorena granica između Europe i Azije jednim dijelom prolazi **planinom**
_____ i **gorjem** _____.

2 9. **Kielski kanal** povezuje zapadnu i istočnu obalu poluotoka _____,
južno od granice Njemačke s državom _____.

2 10. Dvije **najduže** europske rijeke pripadaju _____ i
_____ **sljevu**.

3 11. Uz navedena mora napiši nazive **obalnih i morskih proćelja** kojima pripadaju:
Barentsovo more _____
Jonsko more _____
Norveško more _____

2 12. Francuska na jugu u **Pirenejima**, graniči s dvije države, **kraljevinom**
_____ i **kneževinom** _____.

*U sljedeća četiri zadatka poveži desni stupac s lijevim upisivanjem slova na crte
ispred pojmova u lijevom stupcu. Jedno slovo je višak.*

2 13. Poveži sljevove s pripadajućim rijekama.

_____ baltički	A – Dnjestar
_____ egejski	B – Po
_____ sjevernomorski	C – Vardar
_____ jadranski	D – Njemen
	E – Laba

2 14. Poveži biljni pokrov s pripadajućim klimama Europe.

_____ šuma hrasta, graba i kestena	A – snježno-šumska
_____ šuma jele, smreke i bora	B – umjereno topla vlažna klima s toplim ljetom
_____ šuma čempresa, crnog i alepskog bora	C – stepska
_____ biljna zajednica mahovina i lišajeva	D – polarna
	E – sredozemna

2

15. Poveži francuske gradove s pripadajućim prirodno-geografskim obilježjima.

- | | |
|----------------|------------------------------|
| _____ Chamonix | A – Središnji masiv |
| _____ Ajaccio | B – Akvitanska zavala |
| _____ Brest | C – poluotok Bretanja |
| _____ Bordeaux | D – Alpe |
| | E – otok Korzika |

2

16. Poveži zapadnoeuropske države s njihovim obilježjima.

- | | |
|------------------|--|
| _____ Francuska | A – najmanja zapadnoeuropska kontinentalna država |
| _____ Nizozemska | B – vinogradi u Champagni |
| _____ Luksemburg | C – država s četiri službena jezika |
| _____ Irska | D – zemlja tulipana |
| | E – država s dva službena jezika |

Sljedeća tri zadatka riješi pomoću klimatskog dijagrama.

3

17. **Najniža** temperatura je u mjesecu

_____, iznosi _____ °C, a godišnja **temperaturna amplituda** iznosi _____ °C.

2

18. Nazivi dva mjeseca sa **95 mm** padalina su:

_____ i _____.

2

19. Godišnje doba s **najnižim** srednjim mjesečnim temperaturama zraka je _____, a godišnje doba sa **najmanjom** količinom padalina je _____.

U sljedećih pet zadataka dva su odgovora točna.

Zaokruži slova ispred točnih odgovora.

2

20. Koji od navedenih jezika **pripadaju** skupini ostalih indoeuropskih jezika:

- a) albanski, b) grčki, c) estonski, d) rumunjski, e) islandski

2

21. Od navedenih europskih otoka **najgušće** su naseljeni:

- a) Gotland, b) Island, c) Kreta, d) Sicilija, e) Velika Britanija

2

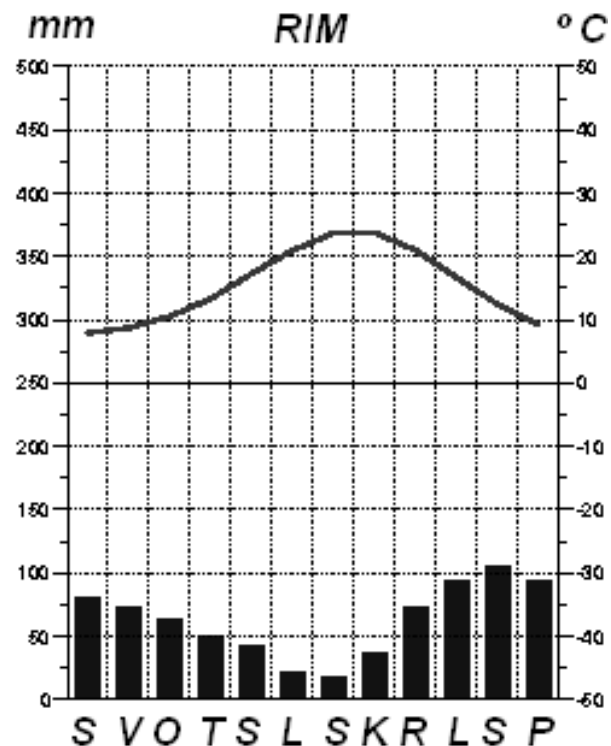
22. Europske države s najrazvijenijim šumarstvom su:

- a) Nizozemska, b) Švedska, c) Irska, d) Island, e) Finska

2

23. Među navedenima, gradovi na rijeci Rhone su:

- a) Nancy, b) Avignon, c) Lyon, d) Dijon, e) Toulouse



2

24. **Poljoprivreda** Sjeverne Irske poznata je po:

a) stočarstvu, b) vinogradarstvu, c) proizvodnji pšenice, d) proizvodnji krumpira

Sljedeći zadatak riješi uz pomoću priložene karte.

3

25. **Oblik** riječnog ušća, najprometnije europske

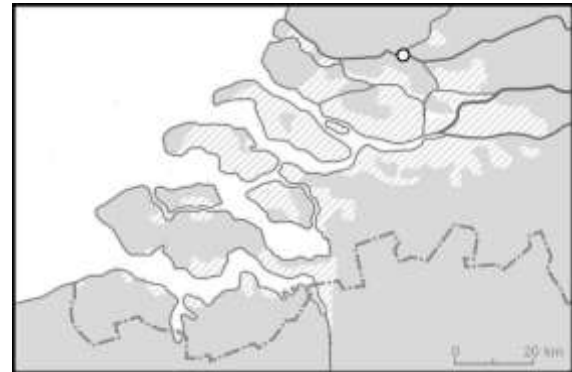
rijeke, nazivamo _____ ušće,

a na obalama prikazanog riječnog ušća

nalazi se jedna od najvećih europskih **luka**

_____, koja ima

izlaz na _____ **more**.



Sljedeća dva zadatka riješi uz pomoć priložene karte Belgije.

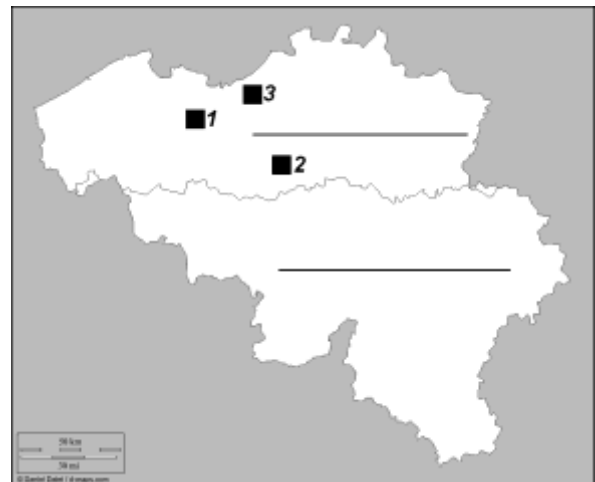
3

26. Brojeve s karte upiši na crte uz navedene gradove.

Gent _____

Bruxelles _____

Antwerpen _____



2

27. Na **crte** u karti napiši imena dviju najvećih **belgijskih pokrajina** (Valonija, Flandrija).

Sljedeća tri zadatka riješi uz pomoć priložene karte Ujedinjenog Kraljevstva.

3

28. Brojem **2** označeno je _____ **gorje** u _____ (navedi zemlju Ujedinjenog Kraljevstva), nastalo u **geološkoj eri** _____.

3

29. **Slovom V i krugom** označena su

_____ **vrata**

koja razdvajaju zemlju Ujedinjenog Kraljevstva

_____, označenu slovom **A** i

_____, državu označenu slovom **B**.

2

30. **Kvadratićima** su na karti označena su dva važna gospodarska središta Škotske.

Zaokruži **slova** uz njihova imena:

a) Darlington, b) Glasgow, c) Aberdeen, d) Edinburgh

