

ŠKOLSKO/OPĆINSKO/GRADSKO NATJECANJE UČENIKA IZ GEOGRAFIJE 2011. GODINE
7. RAZRED

Zaporka _____ Bodovi _____

U svakom od sljedeća dva zadatka prekrži dva netočna pojma napisana kosim slovima.

- 2 1. Od Atlantskog oceana prema istoku Europe temperaturna amplituda se *povećava/smanjuje*, a količina padalina se *povećava /smanjuje*.
- 2 2. Većina stanovništva Europe govori *indoeuropskim/uralo-altajskim* jezicima, a *malteški/romski* jezik ne pripada ni indoeuropskoj ni uralo-altajskoj skupini jezika.

Sljedeća četiri zadatka riješi uz pomoć geografske karte Europe.

- 3 3. Na crte upiši imena mora označenih na karti brojevima.

1 _____

2 _____

3 _____

- 2 4. Naziv morskog prolaza koji je na priloženoj karti označen kružićem je _____.

Zatamnjena država Zapadne Europe je _____.

- 2 5. Najveća morska luka Europe smještena na ušću Rajne je _____.
- Državu u kojoj se nalazi ta luka ispuni kosim crtama.

- 3 6. U odgovarajući prostor na priloženoj karti upiši slova prema navedenim obilježjima.

A - država poznata po brzim i udobnim vlakovima poznatim pod nazivom TGV

B - država čiji je glavni grad Dublin

C - država koju Doverska vrata spajaju s Francuskom

U sljedeća tri zadatka poveži desni stupac s lijevim upisivanjem samo jednog slova na crte ispred pojmova u lijevom stupcu. Jedno slovo je višak.

- 2 7. Poveži planine i gore s državama u kojima se nalaze.

_____ Bugarska

_____ Francuska

_____ Ujedinjeno Kraljevstvo

_____ Italija

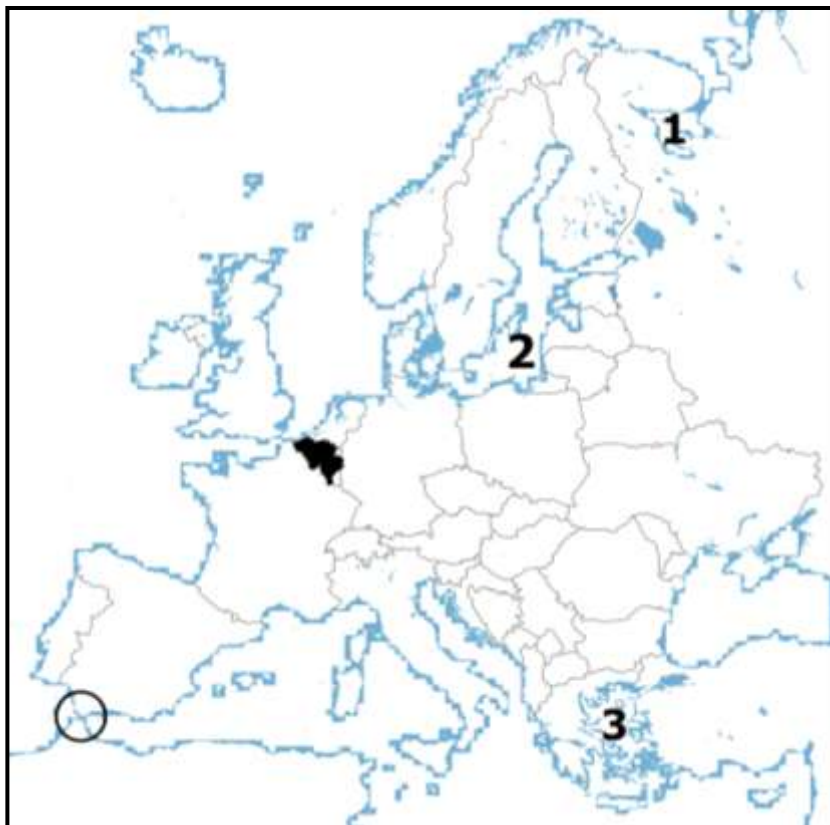
A – Rodopi

B – Središnji masiv

C – Apenini

D – Kambrijsko gorje

E – Ural



2 |

8. Poveži način postanka s odgovarajućim jezerom.

- | | |
|----------------------|-----------------------------|
| ___ Onega | A) tektonsko |
| ___ Ohridsko | B) ledenjačko |
| ___ Albano | C) ostatak nekadašnjeg mora |
| ___ Kaspijsko jezero | D) vulkansko |
| | E) umjetno |

2 |

9. Poveži gradove s regijom u kojoj se nalaze.

- | | |
|--------------------|---------------|
| ___ Škotska | A - Belfast |
| ___ Sjeverna Irska | B - Dublin |
| ___ Engleska | C - Edinburgh |
| ___ Wales | D - Cardiff |
| | E - London |

U sljedećem zadatku poveži desni stupac s lijevim upisivanjem slova na crte ispred pojmova u lijevom stupcu. Dva slova su višak.

3 |

10. Poveži pojmove s njihovim značenjem.

- | | |
|------------------|--|
| ___ aglomeracija | A - okupljanje stanovništva i gospodarstva na obalama |
| ___ konurbacija | B – razvoj gradova i povećanje broja gradskog stanovništva |
| ___ urbanizacija | C - razvoj i jačanje industrije |
| | D - središnji grad sa urbaniziranom okolicom |
| | E - područje međusobno sraslih gradova |

U svakom od sljedeća četiri zadatka dva su odgovora točna. Zaokruži slova ispred točnih odgovora.

2 |

11. Koja dva naroda imaju najveći udio u ukupnom broju stanovnika Belgije?

- | | | |
|-------------|--------------|-------------|
| a) Flamanci | b) Baski | c) Francuzi |
| d) Talijani | e) Katalonci | f) Valonci |

2 |

12. Koja su među navedenim stara gromadna gorja?

- | | | |
|------------|------------------------|-----------------------|
| a) Alpe | b) Stara planina | c) Skandinavsko gorje |
| d) Karpati | e) Njemačko sredogorje | f) Pireneji |

2 |

13. Koja od navedenih mora pripadaju zapadnom obalnom i morskom pročelju?

- | | | |
|---------------|-----------|---------------|
| a) Norveško | b) Jonsko | c) Sjeverno |
| d) Barentsovo | e) Bijelo | f) Sredozemno |

2 |

14. Koje od navedenih su glavne ribolovne zemlje Europe?

- | | | |
|---------------|-------------|-------------|
| a) Luksemburg | b) Italija | c) Njemačka |
| d) Monako | e) Norveška | f) Island |

3 |

U sljedećem zadatku tri su odgovora točna. Zaokruži slova ispred točnih odgovora.

15. Koje od navedenih država su europske kraljevine?

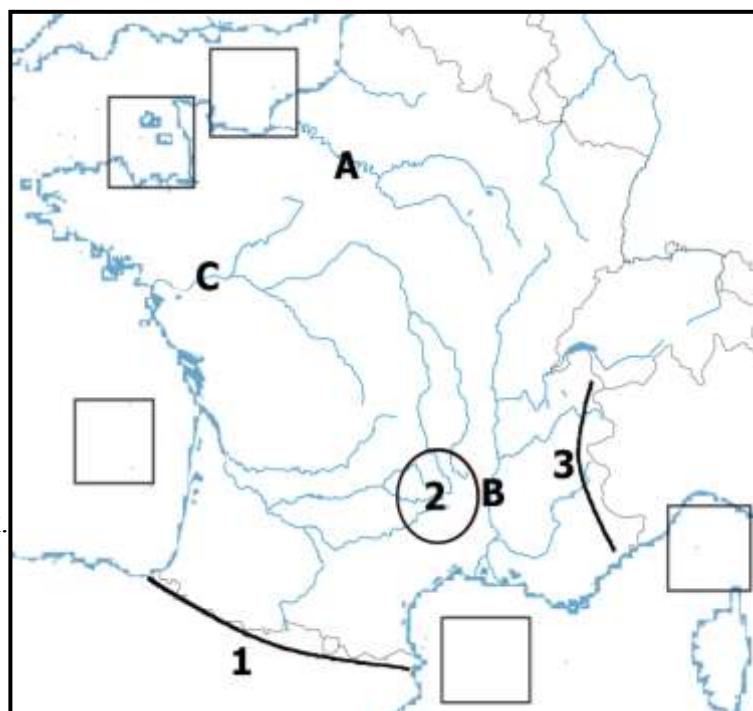
- | | | | |
|---------------|---------------|-------------|-----------|
| a) Belgija | b) Nizozemska | c) UK | d) Monako |
| e) Luksemburg | f) Slovačka | g) Hrvatska | |

U sljedećim zadacima nadopuni rečenice.

- 2 16. Prostiranjem unutar geografske mreže određuje se geografski _____, dok geografski _____ određujemo odnosom prema prirodnom i društvenom okruženju.
- 2 17. Geološki najstariji dijelovi Europe nastali u proterozoiku su _____ štit i _____ platforma.
- 2 18. Plodne površine koje se nalaze ispod razine mora, a nastale su isušivanjem mora nazivaju se _____. Najveće takve površine nalaze se u državi _____.
- 2 19. Kanal koji spaja Sjeverno i Baltičko more naziva se _____, a riječni kanal koji spaja dvije rijeke u Njemačkoj i dio je vodene magistrale koja kroz europski kontinent spaja Crno i Sjeverno more naziva se _____.
(upiši puni naziv).
- 3 20. Danska zauzima veći dio poluotoka _____, najdulju i najrazvedeniju obalu u Europi ima država _____, a jedina država Zapadne Europe koja nema izlaz na more je _____.
- 2 21. Makija je karakteristična vegetacija za _____ klimu, a tundra za klimu _____ (upiši tip klime).
- 2 22. Razvedena obala kod koje se izduženi otoci i prolazi pružaju paralelno s obalom naziva se _____ tip obale, a kod koje se obalni reljefni oblici pružaju poprečno na smjer obale naziva se _____ tip obale.

Sljedeća tri zadatka riješi uz pomoć priložene karte Francuske.

- 3 23. Na crte upiši imena rijeka označenih na priloženoj karti slovima.
A _____
B _____
C _____
- 3 24. Na crte upiši imena uzvišenja označenih na priloženoj karti brojevima.
1 _____
2 _____
3 _____
- 3 25. Na karti unutar praznih kvadratića upiši odgovarajuće slovo. Dva su kvadratića višak.
D - Biskajski zaljev
E - Lionski zaljev
F - Zaljev Saint-Malo



U sljedeća dva zadatka poveži srednji i desni stupac s lijevim upisivanjem slova i brojeva na crte ispred pojmova u lijevom stupcu.

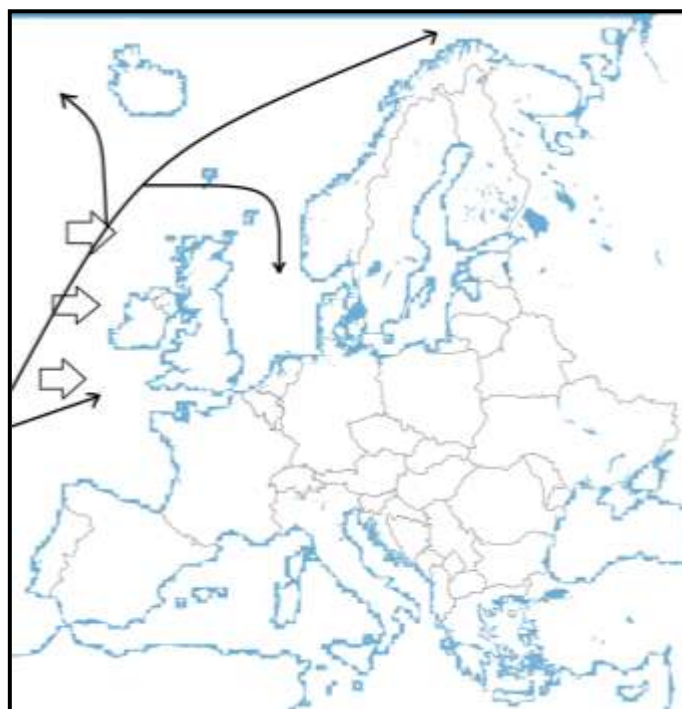
- 3
26. Poveži prostor i karakterističnu vegetaciju s pripadajućim tipom klime
- | | | |
|--------------------------------------|--------------------------------------|------------------------------------|
| _____ sredozemna klima | A – sjeverna obala Kaspijskog jezera | 1 - makija |
| _____ stepska klima | B – južna Europa | 2 - stepa |
| _____ umjereno topla
vlažna klima | C – središnji dio Panonske nizine | 3 - listopadne
i mješovite šume |

- 3
27. Poveži gradove i opise s pripadajućim državama.
- | | | |
|------------------|---------------|--|
| _____ Belgija | A – Amsterdam | 1 – „zeleni otok“ |
| _____ Nizozemska | B – Dublin | 2 – tri službena jezika |
| _____ Irska | C – Bruxelles | 3 – poznata po tulipanima i
vjetrenjačama |

Sljedeća tri zadatka riješi uz pomoć priložene karte Europe.

- 2
28. Morska struja koja je na karti označena tankim strelicama naziva se _____ struja. To je *topla/hladna* morska struja (prekriži netočni dio tvrdnje).

- 2
29. Debljim strelicama na karti označeni su _____ vjetrovi koji na europski kontinent donose *vlažan/suh* zrak (prekriži netočni dio tvrdnje).



- 2
30. Izračunaj godišnju temperaturnu amplitudu navedenih temperatura zraka za London i označi London znakom X unutar teritorija države gdje se nalazi.

Temperatura najtoplijeg mjeseca u godini	17 °C
Temperatura najhladnijeg mjeseca u godini	4 °C

Prostor za računanje

Godišnja amplituda temperature zraka u Londonu iznosi _____ .