

## ŠKOLSKO/OPĆINSKO/GRADSKO NATJECANJE IZ GEOGRAFIJE 2012. GODINE

Razred ili kategorija natjecanja: 7. razred

Zaporka

--	--	--	--	--

\_\_\_\_\_

Broj postignutih bodova \_\_\_\_ / 70

Potpis članova Školskog povjerenstva

1. \_\_\_\_\_

2. \_\_\_\_\_

3. \_\_\_\_\_

Mjesto i nadnevak: \_\_\_\_\_

Za rješavanje zadataka predviđeno je 60 minuta.

Test se rješava kemijskom olovkom s plavom tintom koja se ne briše. Uporaba obične olovke i crvene ili neke druge boje tinte (osim plave) rezultira diskvalifikacijom učenika.

Pri rješavanju testa treba primijeniti jezičnu normu standardnoga hrvatskoga jezika, posebice treba poštivati pravopisna pravila o pisanju velikoga i maloga početnoga slova geografskih imena. Geografska imena čije je podrijetlo iz drugih (stranih) jezika moraju biti napisana u izvornom obliku (transkribirana na latinicu), npr. New York, Stuttgart, Loire...

Odgovori učenika moraju biti čitljivo napisani pisanim slovima (osim u zadacima u kojima je odgovor jedno slovo).

Za vrijeme testiranja ne smije se koristiti ništa osim navedenoga pribora za pisanje. Ova odredba podrazumijeva da natjecatelji ne smiju kod sebe (na sebi, ispod, u svojoj odjeći i slično) imati predmete koji na bilo koji način mogu dovesti u sumnju pravilno provođenje natjecanja. Učenici se ne smiju služiti atlasom, zidnom kartom ni računalom. Kartografski i grafički prilozi nužni za rješavanje zadataka sastavni su dio testa.

Potpuno ispravno riješeni zadaci, prema uputi za rješavanje vrednuju se s jednim, dva ili tri boda. U djelomično ispravno riješenim zadacima boduju se ispravno riješene čestice, ako u njima nije bilo korekcije odgovora. Netočno riješeni zadaci i naknadno ispravljeni odgovori te odgovori koji su pisani tiskanim slovima ili kombinacijom tiskanih i pisanih slova ne vrednuju se.

**U SLJEDEĆEM ZADATKU IZRAČUNAJ I NA CRTU UPIŠI ODGOVOR.**

1

1. U Europi 2011. živi približno 740 milijuna stanovnika na 10,1 milijun km<sup>2</sup>. Uz pomoć podataka izračunaj prosječnu gustoću naseljenosti (na dvije decimale).

Prostor za računanje

Odgovor: \_\_\_\_\_

**U SLJEDEĆA DVA ZADATKA POVEŽI PAROVE UPISIVANJEM SAMO JEDNOG SLOVA NA CRTU ISPRED PONUĐENIH ODGOVORA. TRI CRTE MORAJU OSTATI PRAZNE.**

2

2. Navedene funkcije pridruži gradovima u kojima se nalaze.

A) Europort                      B) sjedište vlade

\_\_\_\_ Rotterdam    \_\_\_\_ Den Haag    \_\_\_\_ Amsterdam    \_\_\_\_ Maastricht    \_\_\_\_ Utrecht

2

3. Navedena obilježja pridruži zemljama za koje su karakteristične.

A) zemlja u kojoj se povremeno javljaju sukobi između protestanata i katolika

B) bilježi jači razvoj za vrijeme industrijske revolucije, značajniji centar Cardiff

\_\_\_\_ Wales    \_\_\_\_ Sjeverna Irska    \_\_\_\_ Engleska    \_\_\_\_ Škotska    \_\_\_\_ Republika Irska

**SLJEDEĆA DVA ZADATKA RIJEŠI UZ POMOĆ GRAFIČKOG PRIKAZA.**

2

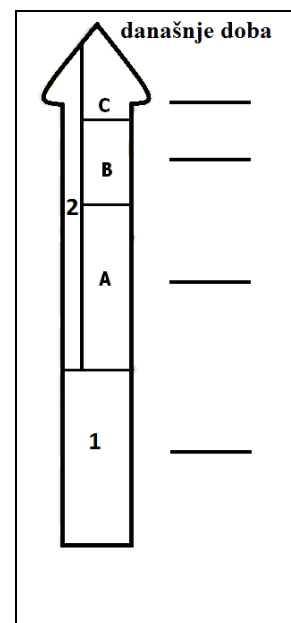
4. Na crte ispred geoloških razdoblja upiši odgovarajući broj ili slovo s priloženog grafičkog prikaza.

\_\_\_\_ paleozoik  
\_\_\_\_ proterozoik  
\_\_\_\_ kenozoik  
\_\_\_\_ mezozoik

2

5. Na crte pokraj grafičkog prikaza upiši odgovarajuće slovo uz eru u kojoj je došlo do pojave:

A- formirana stara gromadna gorja Europe  
B- pojava čovjeka



**U SLJEDEĆIH SEDAM ZADATKA DOPUNI REČENICE.**

2

6. Sjedište EU-a i NATO-a nalazi se u istom gradu u državi \_\_\_\_\_ (upiši ime države), a ime najvažnije luke te države je \_\_\_\_\_.

2

7. Monako je okružen državom \_\_\_\_\_ (upiši ime države), a po obliku vladavine je monarhija kojom vlada \_\_\_\_\_ (upiši titulu monarha).

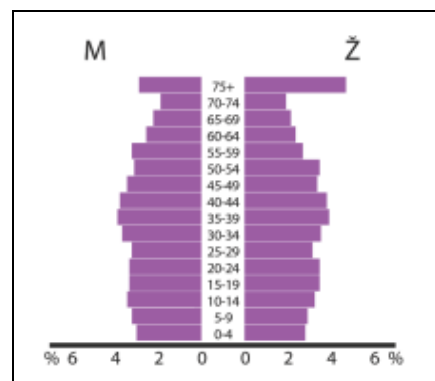
2

8. Rajna, najprometnija rijeka Europe, izvire u \_\_\_\_\_ (upiši ime države), a ulijeva se u \_\_\_\_\_ more.

- 2 9. Na klimu Europe veliki utjecaj ima topla \_\_\_\_\_ morska struja (upiši ime), koja omogućuje da se ruska morska luka Murmansk u \_\_\_\_\_ moru (upiši ime) ne zaleđuje.
- 1 10. Područje dvaju ili više sraslih gradova naziva se \_\_\_\_\_.
- 2 11. Na klimu u UK značajno utječu \_\_\_\_\_ vjetrovi, a prevladavajući tip klime u toj je državi \_\_\_\_\_ klima.
- 2 12. Najvažnija rijeka koja protječe kroz Parišku zavalu je \_\_\_\_\_ (upiši ime), a u jugozapadnom dijelu države najvažnija je rijeka \_\_\_\_\_ (upiši ime).
- 2 13. Proces okupljanja stanovništva i gospodarstva na obalama mora naziva se \_\_\_\_\_, a najjeftiniji oblik prometa za prijevoz velikih količina tereta između kontinenata je \_\_\_\_\_ promet.

**U SVAKOM OD SLJEDEĆIH PET ZADATAKA U PAROVIMA POJMOVA KOJI SU PODEBLJANI I ODVOJENI KOSIM CRTAMA ZAOKRUŽI ONAJ POJAM KOJI JE TOČAN I DOPUNI REČENICE.**

- 2 14. Pojava iseljavanja visokoobrazovanog stanovništva naziva se \_\_\_\_\_. Takvo je iseljavanje posljednjih godina karakteristično za **UK / Moldaviju**.
- 2 15. U početku industrijalizacije izvor energije koji se najviše koristio bio je \_\_\_\_\_, dok su u 21. stoljeću najvažniji izvori energije **nafta i zemni plin / obnovljivi izvori energije**.
- 3 16. Nizozemska ima nalazišta zemnog plina na području \_\_\_\_\_. Povećana kopnena površina za daljnje naseljavanje i poljoprivredu dobivena ograđivanjem i isušivanjem dijelova mora naziva se \_\_\_\_\_. Nekadašnja glavna luka, a danas glavni grad Nizozemske je **Amsterdam / Den Haag** koji se još naziva i Venecijom sjevera.
- 2 17. Najveća i najvažnija francuska morska luka je \_\_\_\_\_, u **Lionskom / Biskajskom** zaljevu.
- 2 18. Grafički prilog prikazuje stanovništvo UK-a prema \_\_\_\_\_. U UK u posljednjem desetljeću **smanjuje / povećava** se udio starog stanovništva.



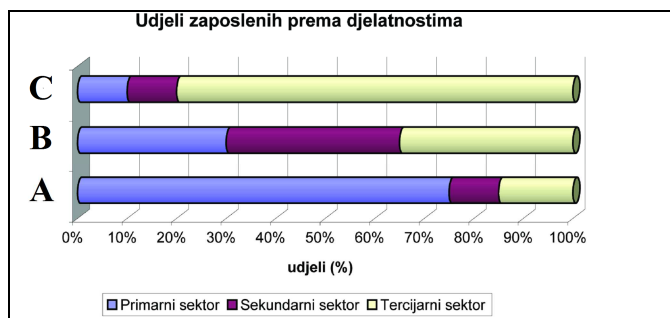
**U SVAKOM OD SLJEDEĆA TRI ZADATKA JEDAN JE TOČAN ODGOVOR. ZAOKRUŽI SLOVO ISPRED TOČNOG ODGOVORA.**

- 1 19. U kojoj je od navedenih država započela industrijska revolucija?  
a) Francuska b) Njemačka c) Italija d) Belgija e) UK

- 1 20. Demografsku tranziciju karakterizira:  
a) Prijelaz s visokih stopa rodnosti i smrtnosti na niske  
b) Prijelaz s niske prirodne promjena na visoku  
c) Prijelaz s visoke prirodne promjena na nisku  
d) Prijelaz s niskih stopa rodnosti i smrtnosti na visoke

- 1 21. Dijagram prikazuje udjele zaposlenih prema sektorima djelatnosti u Europi 1880., 1950. i procjene za 2100. godinu.

Zaokruži slovo kojim je označena gospodarska struktura stanovništva za 2100. godinu.



**U SVAKOM OD SLJEDEĆA TRI ZADATKA DVA SU TOČNA ODGOVORA.**

**ZAOKRUŽI SLOVA ISPRED TOČNIH ODGOVORA.**


- 2 22. Koje među navedenim djelatnostima ubrajamo u sekundarni sektor?  
a) industrija b) šumarstvo c) promet  
d) turizam e) proizvodno zanatstvo f) uslužni obrti

- 2 23. Koje su od navedenih europskih država članice G-7?  
a) Irska b) Belgija c) Njemačka d) Španjolska e) Italija f) Norveška

- 2 24. Koje su najznačajnije države Europe prema ulovu ribe?  
a) Norveška b) Njemačka c) UK d) Island e) Švedska f) Nizozemska

**SLJEDEĆE ZADATKE RIJEŠI UZ POMOĆ GRAFIČKIH PRILOGA. DOPUNI REČENICU I ZAOKRUŽI SLOVO ISPRED TOČNOG ODGOVORA.**

- 2 25. Reljefni oblik koji nastaje procesom prikazanim na crtežu nazivamo \_\_\_\_\_, a visinom najveći takvi oblici karakteristični su za državu (zaokruži slovo uz točan odgovor):



- a) UK b) Nizozemsku c) Island d) Belgiju e) Luksemburg

- 2 26. Litosferne ploče koje svojim pokretima utječu na oblikovanje reljefa južne i jugoistočne Europe su Afrika i \_\_\_\_\_ litosferna ploča.  
Zaokruži slovo ispod vrste pokreta litosfernih ploča zbog kojeg su nastale ulančane planine na jugu Europe.



A

B

C

2

27. Prema pročelju kojem pripadaju upiši imena dvaju mora u svaki grafički prikaz.

Zapadno morsko i obalno pročelje		Sjeverno morsko i obalno pročelje	

Sjeverno

Egejsko

Norveško

Barentsovo

Bijelo

Tirensko

**U SLJEDEĆA DVA ZADATKA POVEŽI SREDNJI I DESNI STUPAC S LIJEVIM UPISIVANJEM PRIPADAJUĆEG BROJA I SLOVA NA CRTU ISPRED POJMOVA U LIJEVOM STUPCU. JEDAN BROJ I JEDNO SLOVO SU VIŠAK.**

3

28. Poveži navedene države i mora s rijekama čija su ušća na njihovom području.

- |            |                |                     |
|------------|----------------|---------------------|
| _____ Ebro | 1 - Portugal   | A - Sredozemno more |
| _____ Elbe | 2 - Španjolska | B - Atlantski ocean |
| _____ Tejo | 3 - Njemačka   | C - Sjeverno more   |
|            | 4 - Poljska    | D - Baltičko more   |

3

29. Poveži navedene tipove klime i biljne zajednice s pripadajućim vegetacijskim pokrovom.

- |              |                          |                                    |
|--------------|--------------------------|------------------------------------|
| _____ tundra | 1 - klima tundre         | A - lišajevi, mahovine             |
| _____ tajga  | 2 - sredozemna klima     | B - vazdazelena šuma               |
| _____ makija | 3 - snježno-šumska klima | C - vazdazelena šikara             |
|              | 4 - klima vječnog mraza  | D - travnata područja niskih trava |

**U SLJEDEĆA DVA ZADATKA POVEŽI DESNI STUPAC S LIJEVIM UPISIVANJEM SAMO JEDNOG SLOVA NA CRTE ISPRED POJMOVA U LIJEVOM STUPCU. DVA SLOVA SU VIŠAK.**

3

30. Poveži opise s pripadajućim pojmovima.

- |             |   |
|-------------|---|
| _____ fjeld | A - uski duboki morski zaljev nastao potapanjem ledenjačke doline                     |
| _____ rijas | B - reljefni oblik nastao akumulacijom raspadnutog ledenjačkog materijala             |
| _____ fjord | C - stjenovita visoravan nastala djelovanjem ledenog pokrova                          |
|             | D - zaljev strmih obala nastao potapanjem nekadašnjih riječnih dolina                 |
|             | E - udubljenje strmih strana, nastalo radom snijega i leda, mjesto nastanka ledenjaka |

3

31. Poveži obilježja s pripadajućim gradovima.

\_\_\_\_\_ Edinburgh

\_\_\_\_\_ Aberdeen

\_\_\_\_\_ Glasgow

A - glavni grad Škotske

B - luka i centar ribarske industrije na obali Sjevernog mora

C - glavni grad Sjeverne Irske

D - važna luka na Irskom moru

E - najveći grad Škotske

**SLJEDEĆA ČETIRI ZADATKA RIJEŠI UZ POMOĆ KARTE.**

3

32. Na karti u odgovarajuće kvadratiće upiši slova

A - rt Roca

B - rt Tarifa

C - rt Kinnarodden

1

33. Koji prolaz je označen brojem 1 na karti?

\_\_\_\_\_

2

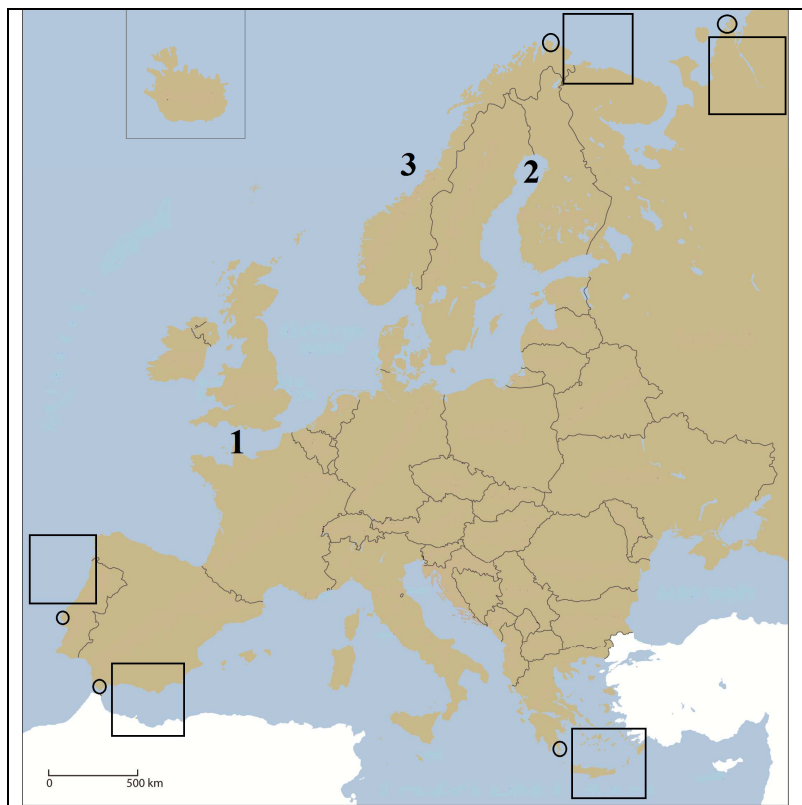
34. Na crte uz brojeve upiši imena zaljeva i mora označenih na karti

2 - \_\_\_\_\_

(zaljev)

3 - \_\_\_\_\_

(more)



2

35. U području označenom na karti brojem 1 službeni jezik je \_\_\_\_\_ jezik, a u području označenom na karti brojem 2 službeni jezik je \_\_\_\_\_ jezik.

