

## 20. ŠKOLSKO/OPĆINSKO/GRADSKO NATJECANJE IZ GEOGRAFIJE 2013. GODINE

Razred ili kategorija natjecanja: **7. razred**

Zaporka

--	--	--	--	--

Broj postignutih bodova \_\_\_\_\_ / **70**

Potpis članova Školskog povjerenstva

1. \_\_\_\_\_

2. \_\_\_\_\_

3. \_\_\_\_\_

Mjesto i nadnevak: \_\_\_\_\_

Za rješavanje zadataka predviđeno je 60 minuta.

Test se rješava kemijskom olovkom s plavom tintom koja se ne briše. Uporaba obične olovke i crvene ili neke druge boje tinte (osim plave) rezultira diskvalifikacijom učenika.

Pri rješavanju testa treba primijeniti jezičnu normu standardnoga hrvatskoga jezika, posebice treba poštivati pravopisna pravila o pisanju velikoga i maloga početnoga slova geografskih imena. Za pisanje geografskih imena u testovima i praktičnim radovima primjenjuje se *Popis geografskih imena* izrađen za potrebe natjecanja.

Odgovori učenika moraju biti čitljivo napisani pisanim slovima, osim u zadacima u kojima je odgovor jedno slovo.

Za vrijeme testiranja ne smije se koristiti ništa osim navedenoga pribora za pisanje. Ova odredba podrazumijeva da natjecatelji ne smiju kod sebe (na sebi, ispod, u svojoj odjeći i slično) imati predmete koji na bilo koji način mogu dovesti u sumnju pravilno provođenje natjecanja. Učenici se ne smiju služiti atlasom, zidnom kartom ni računalom. Kartografski i grafički prilozi nužni za rješavanje zadataka sastavni su dio testa.

Učenicima se dopušta pisanje po marginama ispitnog materijala bez oduzimanja bodova i/ili diskvalifikacije.

Potpuno ispravno riješeni zadaci, prema uputi za rješavanje vrednuju se s jednim, dva ili tri boda. U djelomično ispravno riješenim zadacima boduju se ispravno riješene čestice, ako nije bilo korekcije odgovora u tim česticama. Netočno riješeni zadaci i naknadno ispravljeni odgovori te odgovori koji su pisani tiskanim slovima ili kombinacijom tiskanih i pisanih slova, kao i odgovori u zagradama ne vrednuju se.

**U SLJEDEĆIH ŠEST ZADATAKA SAMO JE JEDAN TOČAN ODGOVOR. ZAOKRUŽI SLOVO  
ISPRED TOČNOG ODGOVORA.**

- 1**  1. Koji je od navedenih kontinenata gušće naseljen od Europe?  
a) Afrika                      b) Azija                      c) Južna Amerika                      d) Sjeverna Amerika
- 1**  2. Koji je od navedenih otoka nastao kao posljedica razmicanja litosfernih ploča?  
a) Irska                      b) Island                      c) Kreta                      d) Velika Britanija
- 1**  3. Koliko je službenih jezika u Belgiji?  
a) jedan                      b) dva                      c) tri                      d) četiri
- 1**  4. Kojim je od navedenih stupnjeva istočno od početnog meridijana označen meridijan - središte vremenskog pojasa prema kojemu se zimi određuje službeno vrijeme u većini europskih država?  
a) 0°                      b) 15°                      c) 30°                      d) 45°
- 1**  5. U kojoj od navedenih nizina su najveće površine pod lesom?  
a) Andaluzijskoj                      b) Aragonskoj                      c) Padskoj                      d) Panonskoj
- 1**  6. Koji od navedenih stupnjeva u geografskoj mreži presijeca Europu?  
a) 66,5° sjev. od ekvatora                      b) 23,5° sjev. od ekvatora                      c) 23,5° juž. od ekvatora                      d) 66,5° juž. od ekvatora

**SLJEDEĆIH PET ZADATAKA RIJEŠI UZ POMOĆ PRILOŽENE GEOGRAFSKE KARTE EUROPE.**

- 3**  7. Upiši slovo **A** na kartu u prostor triju država u kojima je engleski jezik službeni ili jedan od službenih jezika.
- 3**  8. Upiši slovo **B** na kartu u prostor triju država koje čine Beneluks.
- 2**  9. Upiši slovo **Z** na kartu u prostor „zelenog otoka“. Ime tog otoka je \_\_\_\_\_.
- 2**  10. Upiši slovo **I** na kartu u prostor dviju država Sjeverne Europe čije službene jezike ubrajamo u ostale indoeuropske jezike.
- 2**  11. Brojem **1** na karti je označeno \_\_\_\_\_ more, a brojem **2** na karti je označeno \_\_\_\_\_ more.



**U SLJEDEĆIH PET ZADATAKA POVEŽI PAROVE UPISIVANJEM SLOVA NA CRTU ISPRED PONUĐENIH ODGOVORA. TRI CRTE MORAJU OSTATI PRAZNE.**

- 2**  12. Navedene biljke pridruži odgovarajućem tipu klime za koji su karakteristične.  
A) bukva B) maslina  
\_\_\_ polarna \_\_\_ sredozemna \_\_\_ stepska \_\_\_ umjereno topla \_\_\_ vlažna snježno-šumska

- 2**  13. Navedene vrhove pridruži državama u kojima se nalaze.  
A) Elbrus B) Ben Nevis  
\_\_\_ Francuska \_\_\_ Švicarska \_\_\_ Rusija \_\_\_ Ujedinjeno Kraljevstvo \_\_\_ Ukrajina

- 2**  14. Navedena objašnjenja pridruži odgovarajućim pojmovima.  
A) zaljev nastao potapanjem donjeg dijela ledenjačke doline  
B) strma obala nastala radom morskih valova  
\_\_\_ estuarij \_\_\_ fjeld \_\_\_ fjord \_\_\_ klif \_\_\_ rijas

- 2**  15. Prikazane kulturno-povijesne spomenike pridruži imenima gradova u kojima se nalaze.



\_\_\_ Amsterdam \_\_\_ Bruxelles \_\_\_ London \_\_\_ Rotterdam \_\_\_ Pariz

- 2**  16. Navedene države pridruži odgovarajućim poluotocima.  
A) Španjolska B) Švedska  
\_\_\_ Apeninski \_\_\_ Balkanski \_\_\_ Jylland \_\_\_ Pirenejski \_\_\_ Skandinavski

**U SLJEDEĆA ČETIRI ZADATKA DOPUNI REČENICE.**

- 3**  17. U Europi se rabe različita pisma. Imenuj ih ispod navedenog teksta:  
Ευτυχώς μετά από ποτέ! Sretno do kraja! Долго и счастливо!  
\_\_\_\_\_

- 2**  18. Prvotna gospodarska struktura stanovništva država Zapadne Europe I-II-III je nakon druge industrijske revolucije promijenjena u \_\_\_\_\_, a danas je redoslijed sektora \_\_\_\_\_.  
(upiši na svaku crtu jedan od navedenih redoslijeda sektora: **I-II-III** ili **II-I-III** ili **I-III-II** ili **II-III-I** ili **III-II-I** ili **III-I-II**)

- 2 19. Ime glavnog grada Engleske je \_\_\_\_\_, a najvećeg industrijskog središta „crne Engleske“ („black countryja“) je \_\_\_\_\_.
- 2 20. Značenje prostora određeno pomoću geografske mreže nazivamo \_\_\_\_\_, a međusobni prostorni odnos neke pokrajine ili države prema drugim prostornim jedinicama nazivamo \_\_\_\_\_.

**SLJEDEĆA TRI ZADATKA RIJEŠI UZ POMOĆ PRILOŽENE TABLICE.**

- 2 21. Prema podacima iz tablice izračunaj temperaturnu amplitudu za europske gradove označene slovima A, B i C, a dobivene podatke upiši na odgovarajuće mjesto u tablici. Zadnji stupac ispunit ćeš prema uputama u sljedećem zadatku.

	Temperatura najtoplijeg mjeseca u godini u °C	Temperatura najhladnijeg mjeseca u godini u °C	Temperaturna amplituda u °C	Ime grada
Grad A	17	4		
Grad B	22	-1		
Grad C	19	-10		

Na temelju dobivenih podataka položaj gradova A, B i C od istoka prema zapadu je: \_\_\_\_\_ (upiši navedena slova).

- 3 22. Prema pripadajućim podacima u tablici, od navedenih gradova odaberi tri i upiši njihova imena u odgovarajuća polja zadnjeg stupca tablice u prethodnom zadatku:

**Budimpešta; London; Moskva; Rim**

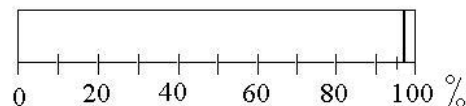
Prostor za računanje

- 2 23. Razlika u godišnjoj amplitudi temperatura posljedica je izloženosti Europe klimatskim utjecajima kopna što se naziva \_\_\_\_\_ i klimatskim utjecajima mora što se naziva \_\_\_\_\_.

**SLJEDEĆI ZADATAK RIJEŠI UZ POMOĆ PRILOŽENOG DIJAGRAMA.**

- 3 24. Najviši stupanj urbanizacije u Europi, osim gradova država, ima \_\_\_\_\_ (upiši ime države), a on iznosi \_\_\_\_\_ (vidi dijagram desno).

Na dijagramu ispuni u cijelosti udio ruralnog stanovništva u europskoj državi koja ima najviši stupanj urbanizacije.



**SLJEDEĆA ČETIRI ZADATKA RIJEŠI UZ POMOĆ PRILOŽENE GEOGRAFSKE KARTE.**

**2**  25. Ime morskog prolaza na karti označenog slovom **A** je \_\_\_\_\_,

\_\_\_\_\_ a njegov najuži dio zove se \_\_\_\_\_.

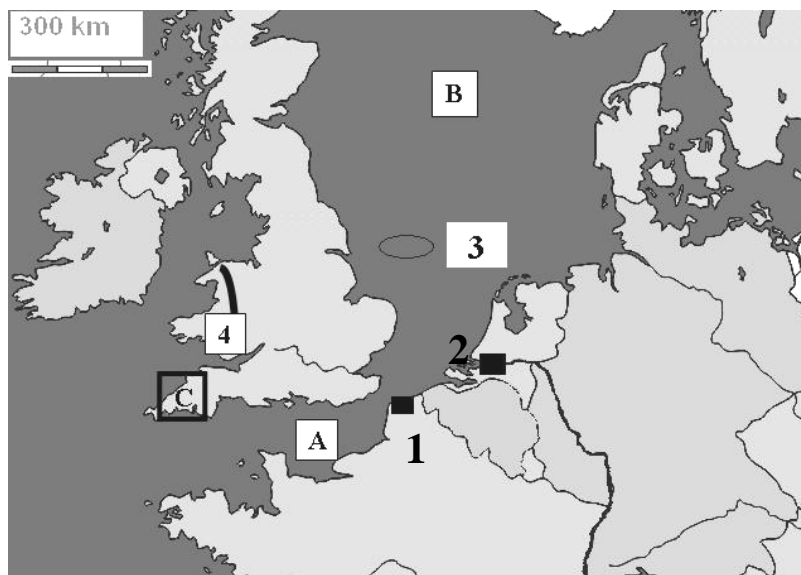
**2**  26. Na crte uz brojeve upiši imena gradova označenih na karti crnim pravokutnicima.

**1** - \_\_\_\_\_

**2** - \_\_\_\_\_

**2**  27. Ime mora na karti označenog slovom **B** je \_\_\_\_\_ more, a ime ribolovnog plićaka na karti označenog elipsom i brojem **3** je \_\_\_\_\_.

**3**  28. Ime poluotoka na karti označenog slovom **C** je \_\_\_\_\_, a ime poluotoka na karti označenog brojem **4** je \_\_\_\_\_ kojim se proteže staro \_\_\_\_\_ gorje (upiši ime gorja).

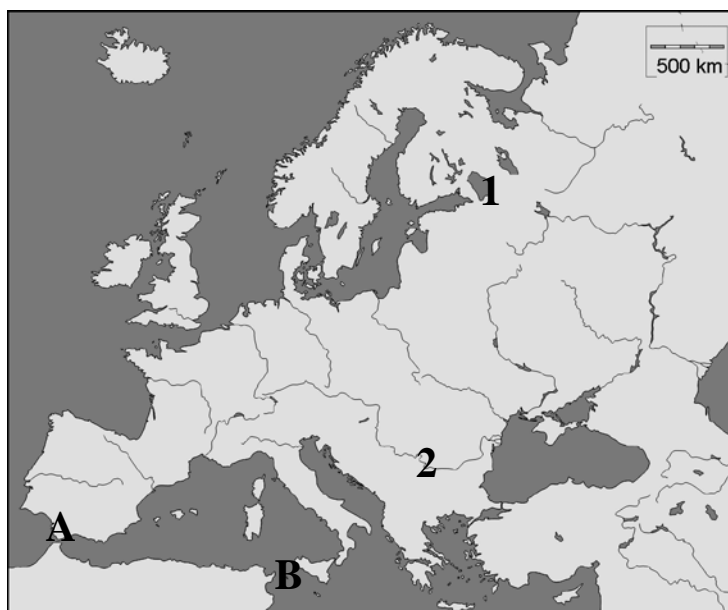


**SLJEDEĆA ČETIRI ZADATKA RIJEŠI UZ POMOĆ PRILOŽENE GEOGRAFSKE KARTE EUROPE.**

**2**  29. Na karti podebljaj u cijeloj dužini rijeku koja pripada jadranskom slijevu. Ime te rijeke je \_\_\_\_\_.

**2**  30. Ime jezera označenog na karti brojem **1** je \_\_\_\_\_, a po postanku pripada skupini \_\_\_\_\_ jezera.

**2**  31. Ime rijeke označene na karti brojem **2** je \_\_\_\_\_. Oblik ušća te rijeke nazivamo \_\_\_\_\_.



**2**  32. Ime morskog prolaza na karti označenog slovom **A** je \_\_\_\_\_, a označenog slovom **B** je \_\_\_\_\_.

**U SVAKOM OD SLJEDEĆA TRI ZADATKA DVA SU ODGOVORA TOČNA. ZAOKRUŽI SLOVA  
ISPRED TOČNIH ODGOVORA.**

**2**  33. Iz kojih se od navedenih država najviše iseljavalo stanovništvo na prijelazu 19. u 20. st. zbog bolesti vinove loze?

- a) Belgije      b) Hrvatske      c) Italije      d) Njemačke      e) Ujedinjenog Kraljevstva

**2**  34. Koji se od navedenih gradova nalaze sjevernije od Pariza?

- a) Bordeaux      b) Lens      c) Lille      d) Lyon      e) Toulouse

**2**  35. Koji su od navedenih pojmova simboli Nizozemske?

- a) autobusi      b) masline      c) šampanjac      d) tulipani      e) vjetrenjače