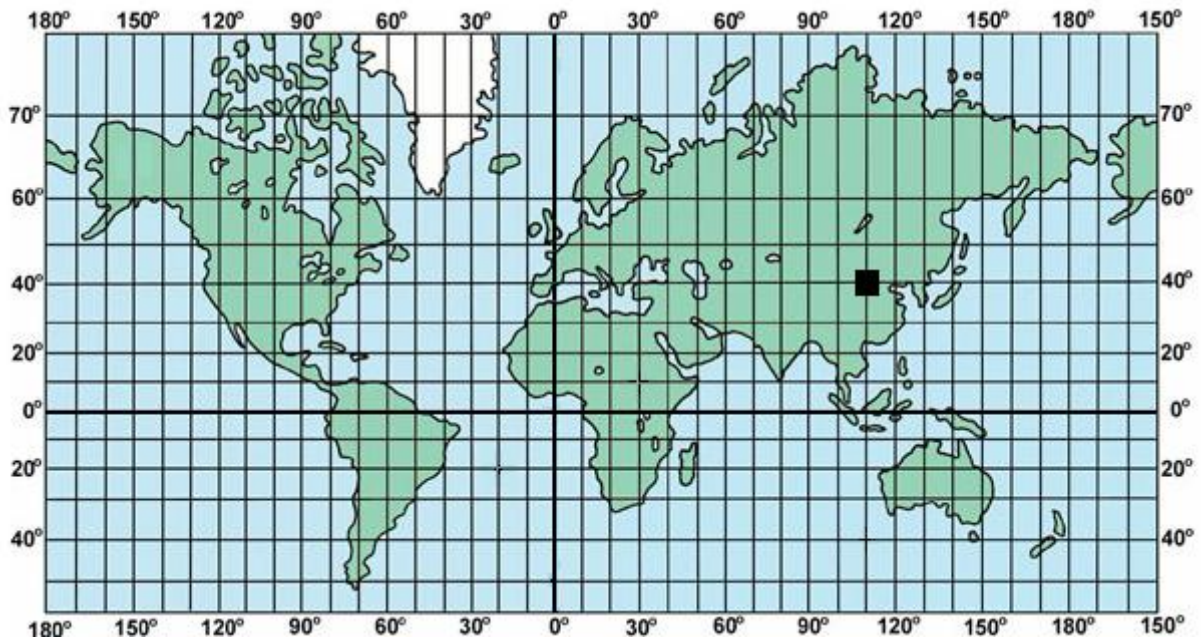


**ŠKOLSKO/OPĆINSKO NATJECANJE UČENIKA IZ GEOGRAFIJE 2009. GODINE  
8. RAZRED**

Zaporka \_\_\_\_\_ Bodovi \_\_\_\_\_

**SLJEDEĆA TRI PITANJA RIJEŠI UZ POMOĆ GEOGRAFSKE KARTE**



2

1. Odredi geografske koordinate mjesta označenog kvadratićem na geografskoj karti:

Geografske koordinate su:

\_\_\_\_\_° \_\_\_\_\_ geografske širine i  
\_\_\_\_\_° \_\_\_\_\_ geografske dužine.

2

2. Na priloženoj karti kružićem označi mjesto gdje se sijeku koordinate **60°** zapadne geografske dužine i **20°** južne geografske širine.

3

3. Na priloženoj geografskoj karti koordinate, **65°** sjeverne geografske širine i **20°** zapadne geografske dužine presijecaju otok \_\_\_\_\_.

*U sljedeća dva zadatka samo je jedan odgovor točan. Zaokruži slovo ispred točnog odgovora.*

2

4. Na kojem kontinentu sva mjesta imaju istočnu geografsku dužinu i južnu geografsku širinu:    **a)** Južnoj Americi,    **b)** Africi,    **c)** Europi,    **d)** Australiji

2

5. U civilnoj uporabi najrašireniji sustav za globalno pozicioniranje je:

**a)** GPS,    **b)** SGP,    **c)** GIS,    **d)** PSG

2

6. Od četiri najčešća mjerila topografske karte (1 : 200 000, 1 : 100 000, 1 : 50 000, 1 : 25 000, **najveći** prostor prikazan je listom mjerila: 1 : \_\_\_\_\_.

3

7. Na karti mjerila **1 : 50 000** najkraća udaljenost između Supetra i Bola na otoku Braču je **24 cm**. Izračunaj kolika je to udaljenost u prirodi u kilometrima.

Prostor za računanje

Udaljenost u prirodi je \_\_\_\_\_ **km**.

2

8. Poveži desni stupac s lijevim upisivanjem slova na crtu ispred pojmova u lijevom stupcu. Jedno slovo je višak.

\_\_\_\_\_ kota

**A** – linija koje povezuju točke iste nadmorske visine

\_\_\_\_\_ izohipsa

**B** – najviša točka uzvišenja (točka izmjerene nadmorske visine)

\_\_\_\_\_ azimut

**C** – linija koje povezuju točke iste dubine

**D** - kut koji neki objekt ili smjer zatvara sa sjeverom

2

9. Slova ispred navedenih azimuta pridruži glavnim i sporednim stranama svijeta. Jedno je slovo višak.

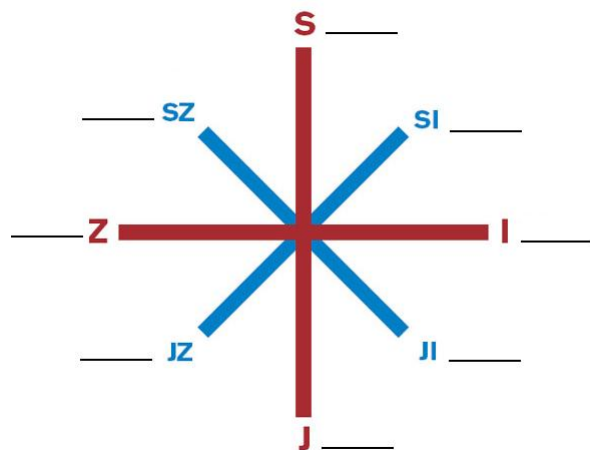
**A** - 180°

**B** - 225°

**C** - 45°

**D** - 245°

**E** - 315°



2

10. Navedene elemente pridruži matematičkim i geografskim elementima karte:

(**ekvidistanca, prometnice, granice, vegetacija, okvir lista, mjerilo**)

Matematički elementi \_\_\_\_\_

Geografski elementi \_\_\_\_\_

2

11. Zaokruži slovo ispred prometnog pravca koji povezuje mađarski glavni grad s hrvatskom lukom Ploče.

**a)** Pyhrnski, **b)** jadransko-jonski, **c)** posavski, **d)** slavonsko-bosansko-neretvanski

2

12. Zaokruži slovo ispred otoka na kome se nalazi zračna luka.

a) Brač, b) Rab, c) Korčula, d) Pag

3

13. Preko **riječne luke** u gradu \_\_\_\_\_, koja se nalazi na **rijeci** \_\_\_\_\_, Hrvatska se izravno uključuje u mrežu europskih plovnih riječnih putova.

3

14. **Obalno more** sastoji se od dviju cjelina. To su \_\_\_\_\_ i \_\_\_\_\_.

2

15. Poveži desni stupac s lijevim upisivanjem slova na crtu ispred pojmova u lijevom stupcu. Jedno slovo je višak. Poveži granične rijeke Hrvatske sa susjednim državama:

\_\_\_\_\_ Kupa

A – Slovenija

\_\_\_\_\_ Dunav

B – Bosna i Hercegovina

\_\_\_\_\_ Korana

C – Crna Gora

D – Srbija

*Sljedećih pet pitanja riješi uz pomoć geografske karte*

3

16. Brojeve s karte pridruži navedenim pojmovima:

Mala Kapela \_\_\_\_\_

Velika Kapela \_\_\_\_\_

Plješivica \_\_\_\_\_

3

17. Slova s karte pridruži navedenim pojmovima:

Žumberačko gorje \_\_\_\_\_

Medvednica \_\_\_\_\_

Ivanščica \_\_\_\_\_

2

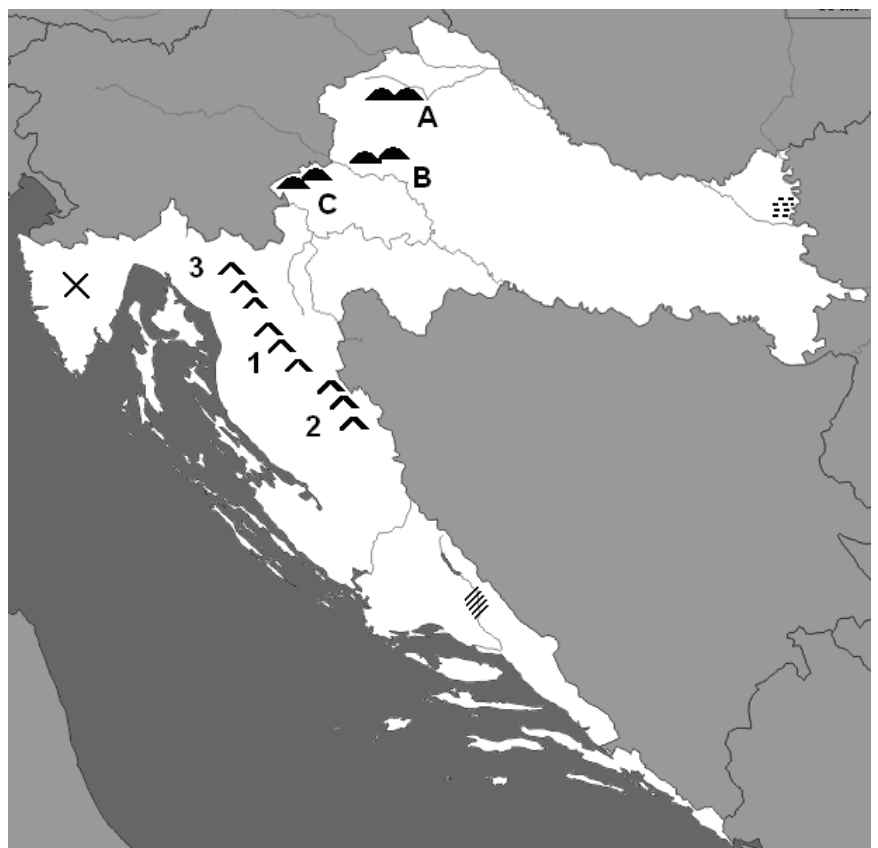
18. Znakom X označen je najveći hrvatski poluotok. To je poluotok: \_\_\_\_\_

2

19. Kosim crticama označeno je **krško polje** u Zagori. To je: \_\_\_\_\_ polje.

2

20. Vodoravnim crticama označen je **park prirode**. To je park prirode: \_\_\_\_\_.



- 2 21. Zaokruži slovo ispred točnog odgovora. Najveću insolaciju u Hrvatskoj ima:  
a) Dalmacija, b) Gorski kotar, c) Lika, d) Istra

*U sljedeća dva zadatka poveži lijevi stupac sa slovima i brojevima*

- 3 22. Poveži regije s vegetacijom i tlom:  
\_\_\_\_\_ Posavina            A – makija            1 – prevladavaju aluvijalna tla  
\_\_\_\_\_ Gorski kotar        B – klekovina        2 – prevladava tlo crvenica  
\_\_\_\_\_ Dalmacija            C – hrast lužnjak     3 – prevladavaju podzolasta tla

- 3 23. Poveži navedena jezera s pripadajućim pojmovima:  
\_\_\_\_\_ Plitvička jezera        A - Korana        1 – akumulacijsko jezero  
\_\_\_\_\_ Dubravsko jezero        B – Cres            2 – skup 16 jezera  
\_\_\_\_\_ Vransko jezero            C – Drava            3 – kriptodepresija

- 2 24. Površinom najveće **prirodno** jezero Hrvatske je \_\_\_\_\_ jezero u Dalmaciji.

- 3 25. Na slici je \_\_\_\_\_, koja je pronađena na arheološkom nalazištu

\_\_\_\_\_ u blizini grada Vukovara.



- 2 26. Zaokruži slovo ispred točnog odgovora. Prvi popis stanovništva na području koje danas obuhvaća Republika Hrvatska bio je godine:  
a) 1856. b) 1857. c) 1858. d) 1859.

- 3 27. Zaokruži slova, ispred **tri** hrvatske županije, čija je gustoća naseljenosti **manja** od hrvatskog prosjeka (**78 st/km<sup>2</sup>**).

a) Krapinsko-zagorska, b) Zadarska, c) Splitsko-dalmatinska,  
d) Požeško-slavonska, e) Varaždinska, f) Šibensko-kninska

- 2 28. U sljedećem zadatku poveži desni stupac s lijevim upisivanjem slova na crtu ispred pojmova u lijevom stupcu. Jedno slovo je višak.

\_\_\_\_\_ depopulacija            A – napuštanje sela kao mjesta stanovanja  
\_\_\_\_\_ deagrarizacija            B – proces smanjenja udjela starog stanovništva  
\_\_\_\_\_ deruralizacija            C – proces napuštanja poljoprivrede kao djelatnosti  
D – smanjenje broja stanovnika u nekom području

- 2 29. Prirodni **pad** je prirodna promjena u kojoj je \_\_\_\_\_ **manja** od \_\_\_\_\_.

- 2 30. Glavni smjerovi **unutarnjih** preseljenja stanovništva Hrvatske odnose se na migracije: \_\_\_\_\_ (**upiši tipove naselja**).