

ŠKOLSKO/OPĆINSKO-GRADSKO NATJECANJE UČENIKA IZ GEOGRAFIJE 2008.

GODINE

8. RAZRED

Zaporka _____ Bodovi _____

2

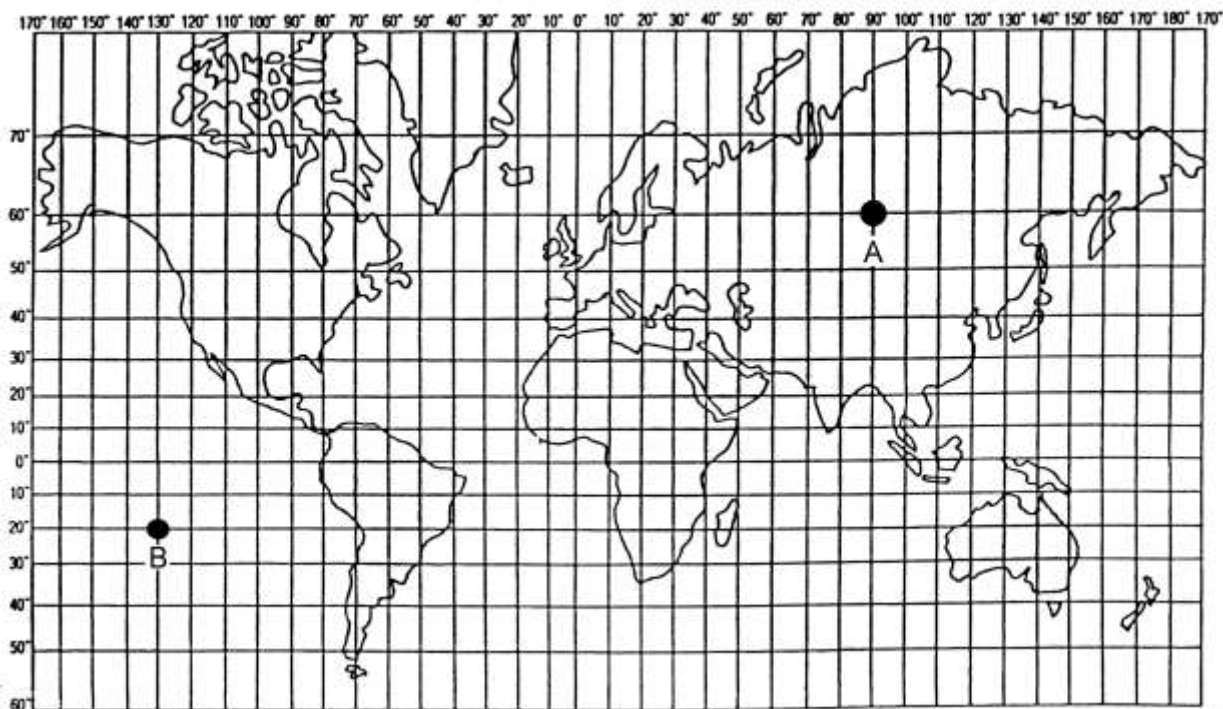
1. Napišite kraticu za

- a) američki navigacijski sustav koji uz pomoć satelita i prijamnika omogućuje najsuvremeniju orijentaciju: _____
- b) informacijski sustav namijenjen prikupljanju, obradi i prikazu podataka vezanih uz prostor: _____

2

2. Napišite geografsku širinu i dužinu označenih točaka.

- a) Točka A nalazi se na _____ ° _____ i _____ ° _____ .
- b) Točka B nalazi se na _____ ° _____ i _____ ° _____ .



2

3. Uz strane svijeta upišite azimut.

- a) jugoistok _____ ° b) sjeverozapad _____ °

3

4. Zaokružite slova uz tvrdnje koje smatrate točnim.

- a) Topografska karta mjerila 1: 200 000 prikazuje četiri puta veći prostor od topografske karte izrađene u mjerilu 1: 100 000.
- b) Najkrupnije mjerilo u kojem se izrađuju topografske karte je 1: 25 000.
- c) Topografska karta mjerila 1: 50 000 prikazuje dva puta manji prostor od topografske karte izrađene u mjerilu 1: 100 000.
- d) Što je mjerilo topografske karte sitnije, to su ekvidistance manje.

3

5. Upišite naziv županije u kojoj se nalazi:

- a) najzapadnija točka Hrvatske: _____
- b) najsjevernija točka Hrvatske: _____
- c) najveća hrvatska riječna luka: _____

3

6. Povežite parove tako da hrvatskim povijesnim cjelinama pridružite slova ispred opisa njihovih grbova.

- | | |
|----------------------------|---|
| _____ Dalmacija | A - dvije crvene grede na modrom polju |
| _____ Istra | B - tri zlatne leopardove glave na plavom polju |
| _____ Dubrovačka Republika | C - zlatna koza na modrom polju |

3

7. Povežite parove tako da svakom prometnom pravcu pridružite odgovarajuće slovo i brojku.

- | | | |
|---|--------------|----------------------------------|
| ___ ___ podravski | A - uzdužni | 1 - Budimpešta - Osijek - Ploče |
| ___ ___ pyhrnski | B - poprečni | 2 - Varaždin - Osijek |
| ___ ___ posavski | | 3 - Ljubljana - Zagreb - Beograd |
| ___ ___ slavonsko - bosansko -
neretvanski | | 4 - Beč - Zagreb |

2

8. Koji kulturno-civilizacijski krug je najviše utjecao na prostor Nizinske (Panonske) Hrvatske?

2

9. Veći dio tekućica Republike Hrvatske pripada _____ slijevu, a manji dio _____ slijevu.

U sljedeća dva zadatka jedan je točan odgovor. Zaokružite slovo uz točan odgovor.

2

10. Koja rijeka protječe Požeškom kotlinom?

- a) Ilova b) Bednja c) Lonja d) Orlava

2

11. Koji podzemni krški oblik se nalazi u Lici?

- a) Đulin ponor b) špilja Lokvarka c) Cerovačke špilje d) špilja Medvedica

2

12. Vrhove označite brojevima od 1 do 4 počevši od najvišeg prema najnižem.

_____ Vaganski vrh _____ Dinara _____ Sv. Gera _____ Bjelolasica

2	
---	--

13. Koja skupina stijena prema postanku je najzastupljenija u reljefu Hrvatske?

3	
---	--

14. Slovicima povežite tipove klime s dijelovima Hrvatske.

_____ umjereno topla s toplim ljetima

A - Vis

_____ umjereno topla s vrućim ljetima

B - Lonjsko polje

_____ sredozemna s vrućim ljetima

C - Rab

Sljedeće zadatke riješite na slijepoj karti Hrvatske i susjednih država.

2	
---	--

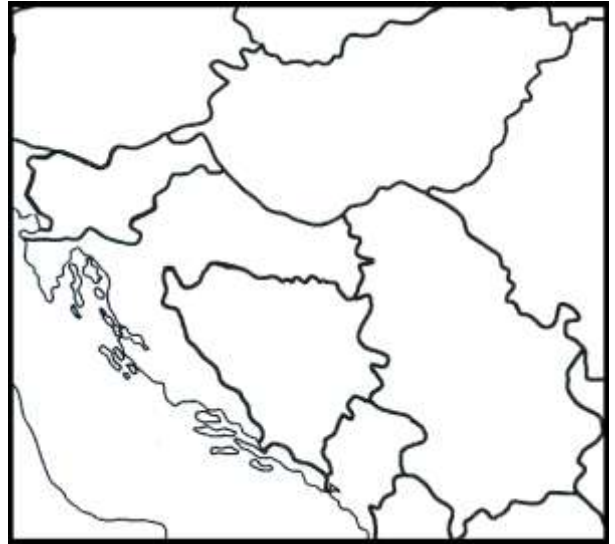
15. Države s kojima Hrvatska graniči na kopnu, a površinom su veće od nje, označite slovom **X**.

2	
---	--

16. Države s kojima Hrvatska graniči na rijeci Muri označite slovom **M**.

2	
---	--

17. Brojem **1** označite državu s kojom Hrvatska ima najkraću, a brojem **2** označite državu s kojom ima najdužu kopnenu granicu.



U sljedeća tri pitanja dva su točna odgovora. Zaokružite slova uz točne odgovore.

2	
---	--

18. Gustoćom naseljenosti većom od hrvatskog prosjeka (78 st/km^2) ističe se:

- a) Međimurje b) Banovina c) unutrašnjost Istre d) Hrvatsko zagorje e) Gorski kotar.

2	
---	--

19. Ponornice u Hrvatskoj su:

- a) Dobra b) Dragonja c) Korana d) Krbava e) Kupa.

2	
---	--

20. U drugoj polovici 20. stoljeća velik broj Hrvata iselio je u europske zemlje:

- a) Irsku b) Austriju c) Finsku d) Poljsku e) Švicarsku

U sljedeća četiri zadatka jedan je točan odgovor. Zaokružite slovo uz točan odgovor.

2	
---	--

21. Dinara, Svilaja i Kamešnica okružuju:

- a) Petrovo polje b) Sinjsko polje c) Blatsko polje d) Imotsko polje

2	
---	--

22. Koje godine je proveden prvi suvremeni popis stanovništva na prostoru koji danas obuhvaća Republika Hrvatska ?

- a) 1875. b) 1910. c) 1857. d) 1896.

2	
---	--

23. Proces povećanja udjela starog stanovništva nazivamo:

- a) insolacija b) depopulacija c) prirodni pad d) senilizacija

2

24. Deruralizacija je:

- a) proces napuštanja industrije kao gospodarske djelatnosti
- b) proces napuštanja poljoprivrede kao gospodarske djelatnosti
- c) proces napuštanja sela kao mjesta stanovanja
- d) proces preseljavanja uz glavnu prometnicu u selu

3

25. Dijelovima primorske Hrvatske pridružite reljefne oblike.

- | | |
|-----------------------|--------------------|
| _____ Kozjak | A - polje u kršu |
| _____ Vrgoračko polje | B - planina |
| _____ Konavle | C - sredogorje |
| _____ Čićarija | D - flišna udolina |

3

26. Zaokružite slova uz nazive umjetnih jezera.

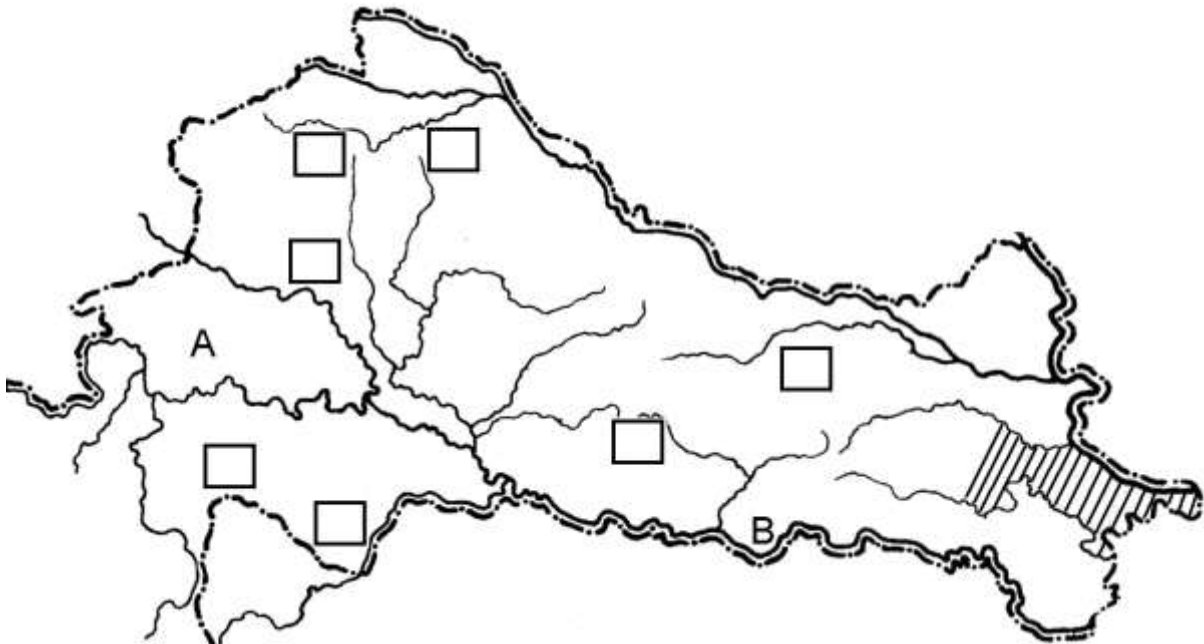
- a) Baćinska jezera b) Sabljaki c) Bajer d) Dubravsko jezero e) Crveno jezero

3

27. Koja vrsta hrasta prevladava u biljnom pokrovu

- a) nizinske Hrvatske: _____ ,
 b) unutrašnjosti primorske Hrvatske: _____ .

Sljedeća tri pitanja riješite na slijepoj karti.



3

28. Koje rijeke omeđuju prostor iscrtkan na karti?

_____, _____ i _____

2

29. Prema slovima na karti napišite nazive poljnih cjelina.

A _____ B _____

3

30. U kvadratiće upišite brojke za sljedeće gore:

- 1- Petrova gora 2- Psunj 3- Ivanščica